

పైఠాగరస్

Prepared By : బలభద్ర సురేష్ PH NO-9866845885

1. ఒక బహుభుజిలో భుజాలన్నీ మరియు కోణాలన్నీ సమానంగా ఉంటే దానిని క్రమ బహుభుజి అంటారు
2. ఒకే ఆకారమును కలిగి వుండి ఒకే పరిమాణము కలిగి వుండనవసరము లేని పటాలను సరూప పటాలు అంటారు .
3. త్రిభుజాల సరూపత : రెండు త్రిభుజాలు సరూపాలు కావాలంటే

(i) వాటి అనురూపకోణాలు సమానంగా వుండాలి .

(ii) వాటి అనురూప భుజాలు ఒకే నిష్పత్తిలో వుండాలి (అనుపాతంలో వుండాలి)

4. ΔABC మరియు ΔPQR లలో

(iii) $\angle A = \angle P$, $\angle B = \angle Q$, $\angle C = \angle R$ (iv) $\frac{AB}{PQ} = \frac{BC}{QR} = \frac{AC}{PR}$ అయిన ΔABC , ΔPQR లు సరూపాలు అవుతాయి. దీనిని $\Delta ABC \sim \Delta PQR$ అని వ్రాస్తాము .

('~' గుర్తును "Is similar to" అని చదువుతాము)

సరూప పటాలు- ఉదాహరణలు :

- (i) అన్ని చతురస్రాలు ఎల్లప్పుడూ సరూపాలు
- (ii) అన్ని సమబాహు త్రిభుజాలు ఎల్లప్పుడూ సరూపాలు
- (iii) అన్ని వృత్తాలు ఎల్లప్పుడూ సరూపాలు
5. కో.కో.కో. సరూపకత: రెండు త్రిభుజాలలో కోణాలు సమానంగా వుంటే వాటి అనురూప భుజాల నిష్పత్తులు సమానంగా వుంటాయి(అనుపాతంలో వుంటాయి) ఇంకా ఆ రెండు త్రిభుజాలు సరూప త్రిభుజాలు!
6. కో.కో. సరూపకత: ఒక త్రిభుజములోని రెండు కోణములు వరుసగా వేరొక త్రిభుజము లోని రెండు కోణములకు సమానమైన ఆ రెండు త్రిభుజాలు సరూపాలు.
7. భు.భు.భు. సరూపకత : రెండు త్రిభుజాలలో ఒక త్రిభుజములోని భుజాలు వేరొక త్రిభుజములోని భుజాలకు అనుపాతములో వున్న ఆ రెండు త్రిభుజాలలోని అనురూప కోణాలు సమానము. ఇంకా ఆ రెండు త్రిభుజాలు సరూపాలు.
8. భు.కో.భు సరూపకత: ఒక త్రిభుజములోని ఒక కోణము, వేరొక త్రిభుజములోని ఒక కోణమునకు సమానమై, ఈ

కోణాలను కలిగి వున్న భుజాలు అనుపాతంలో వుంటే ఆ రెండు త్రిభుజాలు సరూపాలు.

9. 'రెండు సరూప త్రిభుజాల వైశాల్యాల నిష్పత్తి వాటి

(i) అనురూప భుజాల నిష్పత్తి యొక్క వర్గానికి సమానము.

(ii) అనురూప మధ్యగతాల నిష్పత్తి యొక్క వర్గానికి సమానము.

(iii) అనురూప ఉన్నతుల (లంబాల) నిష్పత్తి యొక్క వర్గానికి సమానము.

ప్రయత్నించండి

1. క్రింది ఖాళీలను సరూపాలు / సరూపాలు కావు చే పూరించండి.

(i) అన్ని చతురస్రాలు ఎల్లప్పుడూ సరూపాలు

(ii) అన్ని సమబాహు త్రిభుజాలు ఎల్లప్పుడూ సరూపాలు

(iii) అన్ని సమద్విబాహు త్రిభుజాలు సరూపాలు కావు

(iv) సమాన సంఖ్యలో భుజాలు కలిగిన రెండు బహుభుజులలో అనురూపకోణాలు సమానము

మరియు, అనురూపభుజాలు సమానము అయిన అవి సరూపాలు

(v) పరిమాణము తగ్గించబడిన లేదా పెంచబడిన ఒక వస్తువు యొక్క ఫోటోగ్రాఫ్లు సరూపాలు

(vi) రాంబస్ మరియు చతురస్రాలు ఒకదానికొకటి సరూపాలు కావు

2. క్రింది ప్రవచనాలు సత్యమో, అసత్యమో రాయండి.

(i) రెండు సరూపపటాలు సర్వసమానాలు → అసత్యము .

(ii) రెండు సర్వసమాన పటాలు సరూపాలు → సత్యము

(iii) రెండు బహుభుజులకు అనురూపకోణాలు సమానమైన అవి సరూపాలు → సత్యము

3. ఈ క్రింది వాటికి రెండు వేరువేరు ఉదాహరణలివ్వండి

(i) సరూప పటాలు :

ఉదా : 1. అన్ని చతురస్రాలు 2. అన్ని వృత్తాలు . 3. అన్ని సమబాహు త్రిభుజాలు .

(ii) సరూప పటాలు కానివి:

ఉదాహరణ : 1. చతురస్రం , దీర్ఘ చతురస్రం 2. దీర్ఘ చతురస్రం , సమచతుర్భుజం (రాంబస్)

ప్రాథమిక అనుపాత సిద్ధాంతము. (థేట్స్ సిద్ధాంతము) వ్రాసి నిరూపించుము

ఒక త్రిభుజంలో ఒక భుజానికి సమాంతరంగా గీసిన రేఖ మిగిలిన రెండు భుజాలను వేరువేరు బిందువులలో

ఖండించిన, ఆ మిగిలిన రెండు భుజాలు ఒకే నిష్పత్తిలో విభజింపబడతాయి..

దత్తాంశము: $\triangle ABC$ లో $DE \parallel BC$ మరియు DE రేఖ AB మరియు AC లను D మరియు E ల వద్ద ఖండిస్తున్నది

సారాంశము : $\frac{AD}{DB} = \frac{AE}{EC}$

నిర్మాణము : B, E మరియు C, D లను కలిపితిని మరియు

$DM \perp AC$, $EN \perp AB$.

ఉపపత్తి : ΔADE వైశాల్యం = $\frac{1}{2} \times AD \times EN$

ΔBDE వైశాల్యం = $\frac{1}{2} \times BD \times EN$

$\frac{(ADE) \text{ వైశాల్యం}}{(BDE) \text{ వైశాల్యం}} = \frac{\frac{1}{2} \times AD \times EN}{\frac{1}{2} \times BD \times EN} = \frac{AD}{DB} \rightarrow (1)$

ΔADE వైశాల్యం = $\frac{1}{2} \times AE \times DM$

ΔCDE వైశాల్యం = $\frac{1}{2} \times EC \times DM$

$\frac{(\Delta ADE) \text{ వైశాల్యం}}{(\Delta CDE) \text{ వైశాల్యం}} = \frac{\frac{1}{2} \times AE \times DM}{\frac{1}{2} \times EC \times DM} = \frac{AE}{EC} \rightarrow (2)$

ΔBDE , ΔCDE లు ఒకే భూమి DE మరియు సమాంతర రేఖలు BC మరియు DE ల మధ్య గలవు కావున $(\Delta BDE) \text{ వైశాల్యం} = (\Delta CDE) \text{ వైశాల్యం} \rightarrow (3)$

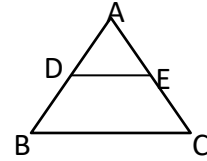
(1) (2) మరియు (3) ల నుండి

$\frac{(ADE) \text{ వైశాల్యం}}{(BDE) \text{ వైశాల్యం}} = \frac{(ADE) \text{ వైశాల్యం}}{(CDE) \text{ వైశాల్యం}}$
 $\Rightarrow \frac{AD}{DB} = \frac{AE}{EC}$

సిద్ధాంతము నిరూపించబడింది

ΔABC లో $DE \parallel BC$ అయిన

(i) $\frac{AD}{DB} = \frac{AE}{EC}$ (ii) $\frac{AB}{AD} = \frac{AC}{AE}$ (iii) $\frac{AB}{DB} = \frac{AC}{EC}$



సిద్ధాంతము -8.2 : (ప్రాథమిక అనుపాత సిద్ధాంతము యొక్క విపర్యయము)

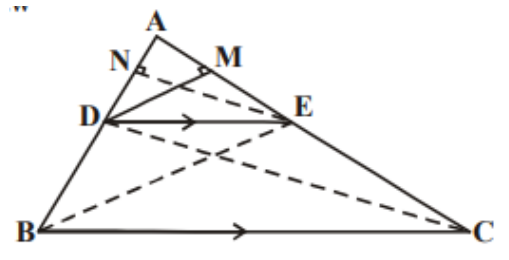
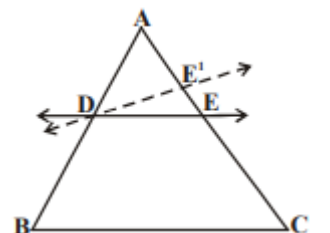
ఒక త్రిభుజములో ఏవైనా రెండు భుజాలను ఒకే నిష్పత్తిలో విభజించు సరళరేఖ, మూడవ భుజానికి సమాంతరంగా వుండును.

దత్తాంశము : ΔABC లో DE రేఖ $\frac{AD}{DB} = \frac{AE}{EC}$ అగునట్లు గీయబడినది

సారాంశము : $DE \parallel BC$

ఉపపత్తి : DE , BC కి సమాంతరము కాదు అనుకొనుము

అప్పుడు BC కి సమాంతరంగా DE^1 ను గీయుము



వైశాల్యం = $\frac{1}{2} \times$ భూమి \times ఎత్తు

ΔABC లో $DE \parallel BC$

$$\Rightarrow \frac{AD}{DB} = \frac{AE}{E'C} \quad (\text{ప్రాథమిక అనుపాత సిద్ధాంతము నుండి})$$

కాని $\frac{AD}{DB} = \frac{AE}{EC}$ (దత్తాంశం)

$$\therefore \frac{AE}{EC} = \frac{AE'}{E'C}$$

$$\Rightarrow \frac{AE}{EC} + 1 = \frac{AE'}{E'C} + 1$$

$$\Rightarrow \frac{AE + EC}{EC} = \frac{AE' + E'C}{E'C}$$

$$\Rightarrow \frac{AC}{EC} = \frac{AC}{E'C}$$

$$\Rightarrow EC = E'C$$

E మరియు E' లు ఏకీభవిస్తాయి

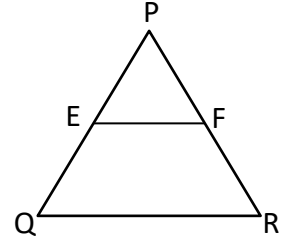
$\therefore DE \parallel BC$

ప్రయత్నించండి

1. ΔPQR లో భుజాలు PQ మరియు PR లపై బిందువులు వరుసగా E మరియు F. ఈ క్రింది వాటిలో ప్రతి సందర్భంలో $EF \parallel QR$ అవునో, కాదో తెలపండి ?

(i) PE = 3.9 సెం.మీ., EQ = 3 సెం.మీ., PF = 3.6 సెం.మీ. మరియు FR = 2.4 సెం.మీ.

సాధన: $\frac{PE}{EQ} = \frac{3.9}{3} = 1.3$; $\frac{PF}{FR} = \frac{3.6}{2.4} = \frac{3}{2} = 1.5$
 $\frac{PE}{EQ} \neq \frac{PF}{FR} \Rightarrow EF \nparallel QR$



(ii) PE = 4 సెం.మీ., QE = 4.5 సెం.మీ., PF = 8 సెం.మీ. మరియు RF = 9 సెం.మీ.

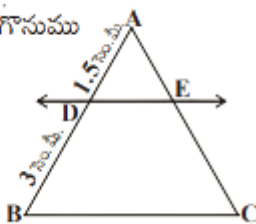
సాధన : $\frac{PE}{EQ} = \frac{4}{4.5} = \frac{40}{45} = \frac{8}{9}$; $\frac{PF}{FR} = \frac{8}{9}$
 $\frac{PE}{EQ} = \frac{PF}{FR} \Rightarrow EF \parallel QR$

(iii) PQ = 1.28 సెం.మీ., PR = 2.56 సెం.మీ., PE = 1.8 సెం.మీ. మరియు PF = 3.6 సెం.మీ.

సాధన: $\frac{PQ}{PE} = \frac{1.28}{1.8} = \frac{128}{180} = \frac{32}{45}$; $\frac{PR}{PF} = \frac{2.56}{3.6} = \frac{256}{360} = \frac{64}{90} = \frac{32}{45}$
 $\frac{PQ}{PE} = \frac{PR}{PF} \Rightarrow EF \parallel QR$

2. క్రింది పటాలలో $DE \parallel BC$

(i) EC ని కనుగొనుము



సాధన: ΔABC లో $DE \parallel BC$

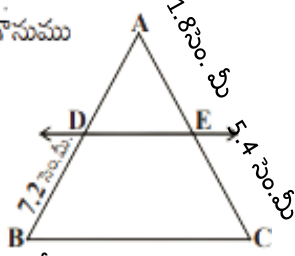
ప్రాథమిక అనుపాత సిద్ధాంతము నుండి

$$\frac{AD}{DB} = \frac{AE}{EC} \Rightarrow \frac{1.5}{3} = \frac{1}{EC}$$

$$\Rightarrow EC = \frac{1 \times 3}{1.5} = \frac{3}{1.5} = \frac{30}{15} = 2$$

$$\therefore EC = 2 \text{ cm}$$

(ii) AD ని కనుగొనుము



సాధన : In ΔABC లో $DE \parallel BC$

ప్రాథమిక అనుపాత సిద్ధాంతము నుండి

$$\frac{AD}{DB} = \frac{AE}{EC} \Rightarrow \frac{AD}{7.2} = \frac{1.8}{5.4} = \frac{18}{54} = \frac{1}{3}$$

$$\Rightarrow AD = \frac{7.2}{3} = 2.4$$

$$\therefore AD = 2.4 \text{ సెం. మీ}$$

ఉదాహరణ - 1. ΔABC లో $DE \parallel BC$ మరియు $\frac{AD}{DB} = \frac{3}{5}$, $AC = 5.6$ సెం. మీ. అయిన AE విలువ ఎంత

సాధన: $AE = x$ అనుకొనుము

$$EC = AC - AE = 5.6 - x$$

ΔABC లో $DE \parallel BC$

$$\Rightarrow \frac{AD}{DB} = \frac{AE}{EC} \quad (\text{ప్రాథమిక అనుపాత సిద్ధాంతము నుండి})$$

$$\Rightarrow \frac{3}{5} = \frac{x}{5.6 - x}$$

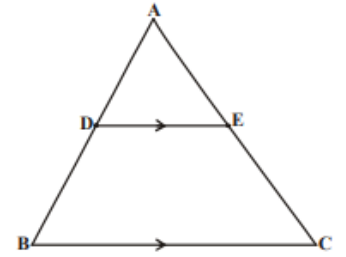
$$\Rightarrow 3(5.6 - x) = 5x$$

$$\Rightarrow 16.8 - 3x = 5x$$

$$\Rightarrow 8x = 16.8$$

$$\Rightarrow x = \frac{16.8}{8} = 2.1$$

$$\therefore AE = 2.1 \text{ సెం. మీ}$$



ఉదాహరణ -2. ఇచ్చిన పటంలో $LM \parallel AB$; $AL = x - 3$, $AC = 2x$, $BM = x - 2$ మరియు $BC = 2x + 3$ అయిన x విలువను కనుగొనుము.

సాధన: ΔABC లో $LM \parallel AB$

$$\Rightarrow \frac{AC}{AL} = \frac{BC}{BM} \quad (\text{ప్రాథమిక అనుపాత సిద్ధాంతము నుండి})$$

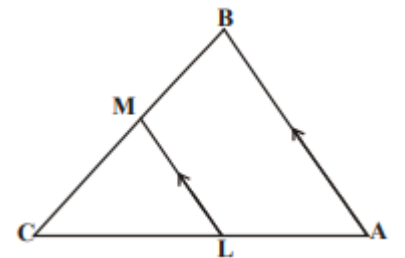
$$\Rightarrow \frac{2x}{x - 3} = \frac{2x + 3}{x - 2}$$

$$\Rightarrow 2x(x - 2) = (2x + 3)(x - 3)$$

$$\Rightarrow 2x^2 - 4x = 2x^2 - 6x + 3x - 9$$

$$\Rightarrow -4x = -3x - 9$$

$$\Rightarrow -4x + 3x = -9$$



$$\Rightarrow -x = -9 \Rightarrow x = 9$$

ఇవి చేయండి

1. ఇచ్చిన పటంలో x యొక్క ఏ విలువ(లు)కు $DE \parallel AB$ అగును ?

$$AD = 8x + 9, CD = x + 3, BE = 3x + 4, CE = x.$$

సాధన: $\triangle ABC$ లో $DE \parallel BC$

$$\Rightarrow \frac{CD}{DA} = \frac{CE}{EB} \quad (\text{ప్రాథమిక అనుపాత సిద్ధాంతము నుండి})$$

$$\Rightarrow \frac{x+3}{8x+9} = \frac{x}{3x+4}$$

$$\Rightarrow (x+3)(3x+4) = x(8x+9)$$

$$\Rightarrow 3x^2 + 4x + 9x + 12 = 8x^2 + 9x$$

$$\Rightarrow 8x^2 - 3x^2 - 4x - 12 = 0$$

$$\Rightarrow 5x^2 - 4x - 12 = 0$$

$$\Rightarrow 5x^2 - 10x + 6x - 12 = 0$$

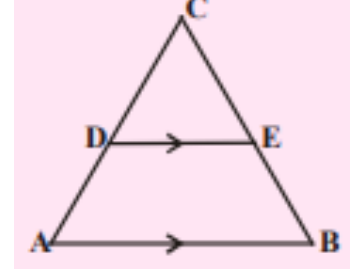
$$\Rightarrow 5x(x-2) + 6(x-2) = 0$$

$$\Rightarrow (x-2)(5x+6) = 0$$

$$\Rightarrow x-2 = 0 \text{ or } 5x+6 = 0$$

$$\Rightarrow x = 2 \text{ or } x = \frac{-6}{5}$$

పొడవు ఋణాత్మకం కాదు కావున . $x = 2$



2. $\triangle ABC$ లో $DE \parallel BC$. $AD = x$, $DB = x - 2$, $AE = x + 2$ మరియు $EC = x - 1$. అయిన x విలువ కనుగొనుము

సాధన: $\triangle ABC$ లో $DE \parallel BC$

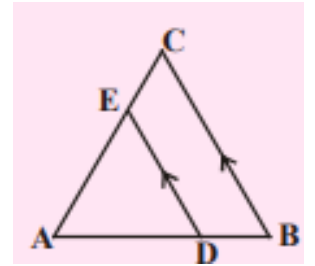
$$\Rightarrow \frac{AD}{DB} = \frac{AE}{EC} \quad (\text{ప్రాథమిక అనుపాత సిద్ధాంతము నుండి})$$

$$\Rightarrow \frac{x}{x-2} = \frac{x+2}{x-1}$$

$$\Rightarrow x(x-1) = (x+2)(x-2)$$

$$\Rightarrow x^2 - x = x^2 - 4$$

$$\Rightarrow x = 4$$



ఉదాహరణ -3. ఒక చతుర్భుజము ABCD లో కర్ణములు 'O' బిందువు వద్ద ఖండించుకొనును మరియు $\frac{AO}{BO} = \frac{CO}{DO}$.

ABCD ఒక ట్రాపీజియం అని చూపండి.

సాధన:

దత్తాంశము : చతుర్భుజము ABCD లో $\frac{AO}{BO} = \frac{CO}{DO}$

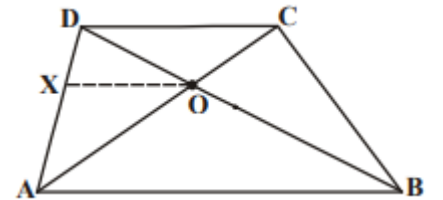
సారాంశము: ABCD ఒక ట్రాపీజియం.

నిర్మాణము : 'O' బిందువు గుండా AB కి సమాంతరంగా రేఖను గీసిన

DA ను బిందువు 'X' వద్ద ఖండించును

ఉపపత్తి : In $\triangle DAB$, $XO \parallel AB$ (నిర్మాణము నుండి)

$$\Rightarrow \frac{AX}{XD} = \frac{BO}{OD} \quad (\text{ప్రాథమిక అనుపాత సిద్ధాంతము నుండి}) \rightarrow (1)$$



అది

$$\text{కానీ } \frac{AO}{BO} = \frac{CO}{DO} \quad (\text{దత్తాంశము})$$

$$\Rightarrow \frac{AO}{CO} = \frac{BO}{DO} \rightarrow (2)$$

(1) మరియు (2) ల నుండి

$$\frac{AX}{XD} = \frac{AO}{CO}$$

ΔADC లో $\frac{AX}{XD} = \frac{AO}{OC}$ అగునట్లు XO రేఖ ఉన్నది

$\Rightarrow XO \parallel DC$ (ప్రాథమిక అనుపాత సిద్ధాంతవిపర్యయము నుండి)

$\Rightarrow AB \parallel DC$

ABCD చతుర్భుజంలో $AB \parallel DC$

\Rightarrow ABCD ఒక త్రిపీజియం

ఉదాహరణ -4. త్రిపీజియం ABCD లో, $AB \parallel DC$. E మరియు F బిందువులు వరుసగా $EF \parallel AB$ అగునట్లు

సమాంతరం కాని భుజాలు AD, BC ల పై నున్నవి అయిన $\frac{AE}{ED} = \frac{BF}{FC}$ అని చూపండి

సాధన : AC ను కలుపగా అది EF ను G వద్ద ఖండించినది

$AB \parallel DC$ మరియు $EF \parallel AB$ (దత్తాంశము)

$\Rightarrow EF \parallel DC$ (ఒకే రేఖకు సమాంతరంగా నున్న రేఖలు

సమాంతరాలు)

ΔADC లో $EG \parallel DC$

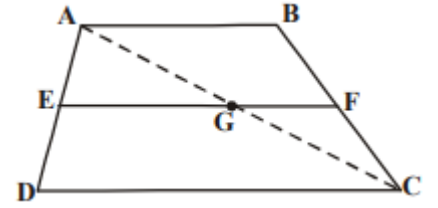
$$\Rightarrow \frac{AE}{ED} = \frac{AG}{GC} \quad (\text{ప్రాథమిక అనుపాత సిద్ధాంతము నుండి}) \rightarrow (1)$$

అదేవిధంగా ΔCAB లో $GF \parallel AB$

$$\Rightarrow \frac{AG}{GC} = \frac{BF}{FC} \quad (\text{ప్రాథమిక అనుపాత సిద్ధాంతము నుండి}) \rightarrow (2)$$

(1), (2)ల నుండి

$$\frac{AE}{ED} = \frac{BF}{FC}$$



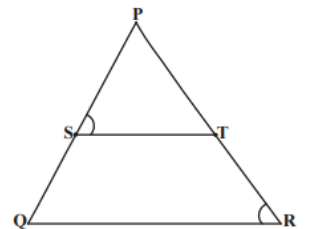
అభ్యాసము - 8.1

1. ΔPQR లో $\frac{PS}{SQ} = \frac{PT}{TR}$ అగునట్లు ST ఒక సరళరేఖ మరియు $\angle PST = \angle PRQ$. అయిన ΔPQR ఒక

సమద్విభాహు త్రిభుజమని చూపండి .

సాధన: ΔPQR లో $\frac{PS}{SQ} = \frac{PT}{TR}$ అగునట్లు ST ఒక సరళ రేఖ

$\Rightarrow ST \parallel QR$ (ప్రాథమిక అనుపాత సిద్ధాంతవిపర్యయం నుండి)



$$\angle PST = \angle PQR \text{ (సదృశ కోణాలు)} \rightarrow (1)$$

$$\text{But } \angle PST = \angle PRQ \text{ (దత్తాంశము)} \rightarrow (2)$$

(1) మరియు (2)ల నుండి

$$\angle PQR = \angle PRQ$$

$\Rightarrow PR = PQ$ (సమాన కోణాలకు ఎదురుగా ఉండే భుజాలు సమానం)

$$\Delta PQR \text{ లో } PR = PQ$$

$\therefore \Delta PQR$ ఒక సమద్విబాహు త్రిభుజం .

2. ఇచ్చిన పటంలో $LM \parallel CB$ మరియు $LN \parallel CD$ అయిన $\frac{AM}{AB} = \frac{AN}{AD}$ అని చూపండి.

సాధన: ΔACB లో $LM \parallel CB$

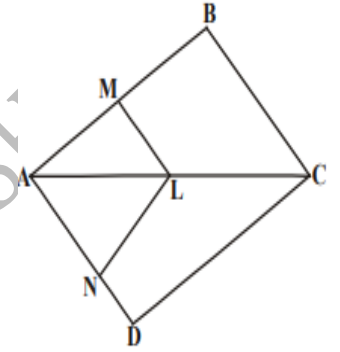
$$\Rightarrow \frac{AL}{LC} = \frac{AM}{MB} \text{ (ప్రాథమిక అనుపాత సిద్ధాంతము నుండి)} \rightarrow (1)$$

ΔACD లో $LN \parallel CD$

$$\Rightarrow \frac{AL}{LC} = \frac{AN}{ND} \text{ (ప్రాథమిక అనుపాత సిద్ధాంతము నుండి)} \rightarrow (2)$$

(1) మరియు (2) ల నుండి

$$\begin{aligned} \frac{AM}{MB} &= \frac{AN}{ND} \\ \Rightarrow \frac{AM}{AM + MB} &= \frac{AN}{AN + ND} \\ \Rightarrow \frac{AM}{AB} &= \frac{AN}{AD} \end{aligned}$$



3. ఇచ్చిన పటంలో $DE \parallel AC$ మరియు $DF \parallel AE$ అయిన $\frac{BF}{FE} = \frac{BE}{EC}$ అని చూపండి.

సాధన: ΔABC లో $DE \parallel AC$

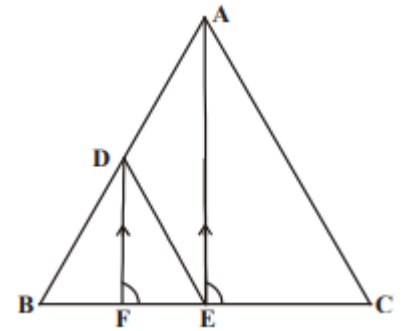
$$\Rightarrow \frac{BD}{DA} = \frac{BE}{EC} \text{ (ప్రాథమిక అనుపాత సిద్ధాంతము నుండి)} \rightarrow (1)$$

ΔAEB లో $DF \parallel AE$

$$\Rightarrow \frac{BD}{DA} = \frac{BF}{FE} \text{ (ప్రాథమిక అనుపాత సిద్ధాంతము నుండి)} \rightarrow (2)$$

(1) మరియు (2) ల నుండి

$$\frac{BF}{FE} = \frac{BE}{EC}$$

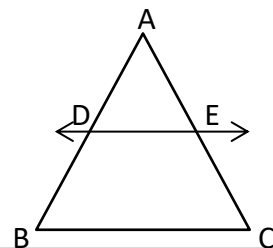


4. ఒక త్రిభుజములో ఒక భుజము మధ్య బిందువు గుండా పోయేరేఖ, రెండవ భుజానికి సమాంతరంగా వుంటే అది మూడవ భుజాన్ని సమద్విఖండన చేస్తుందని చూపండి. (ప్రాథమిక అనుపాత సిద్ధాంతము నుపయోగించి).

సాధన: ΔABC లో AB మధ్యబిందువు D మరియు $DE \parallel BC$

$$\Rightarrow \frac{AD}{DB} = \frac{AE}{EC} \text{ (ప్రాథమిక అనుపాత సిద్ధాంతము నుండి)}$$

$$\Rightarrow 1 = \frac{AE}{EC} \text{ (} AB \text{ మధ్యబిందువు } D \text{ కావున, } AD = DB \text{)}$$



$$\Rightarrow AE = EC$$

$\Rightarrow E$ అనేది AC మధ్య బిందువు

$\Rightarrow \overline{DE}$ రేఖ AC ని సమద్విఖండన చేస్తుంది

5. ఒక త్రిభుజములో రెండు భుజాల మధ్య బిందువులను కలిపే రేఖా ఖండము మూడవ భుజానికి సమాంతరంగా వుంటుందని చూపండి. (ప్రాథమిక అనుపాత సిద్ధాంత విపర్యయమునుపయోగించి)

సాధన:

దత్తాంశము : $\triangle ABC$ లో AB మరియు AC మధ్యబిందువులు D, E

సారాంశము : $DE \parallel BC$

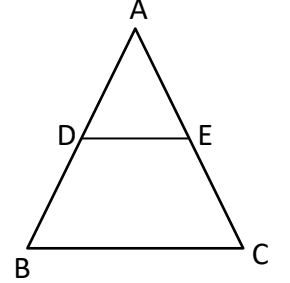
ఉపపత్తి : AB మరియు AC మధ్యబిందువులు D, E

$$AD = DB \text{ మరియు } AE = EC$$

$$\Rightarrow \frac{AD}{DB} = 1 \text{ మరియు } \frac{AE}{EC} = 1$$

$$\Rightarrow \frac{AD}{DB} = \frac{AE}{EC}$$

$\Rightarrow DE \parallel BC$ (ప్రాథమిక అనుపాత సిద్ధాంత విపర్యయం నుండి)



6. ఇచ్చిన పటములో $DE \parallel OQ$ మరియు $DF \parallel OR$. అయిన $EF \parallel QR$ అని చూపండి

సాధన: $\triangle PQO$ లో $ED \parallel QO$

$$\Rightarrow \frac{PD}{DO} = \frac{PE}{EQ} \text{ (ప్రాథమిక అనుపాత సిద్ధాంతము నుండి)} \rightarrow (1)$$

$\triangle POR$ లో $DF \parallel OR$

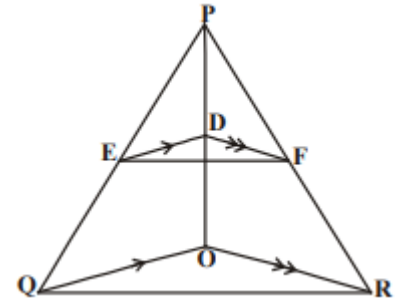
$$\Rightarrow \frac{PD}{DO} = \frac{PF}{FR} \text{ (ప్రాథమిక అనుపాత సిద్ధాంతము నుండి)} \rightarrow (2)$$

(1) మరియు (2) నుండి

$$\frac{PE}{EQ} = \frac{PF}{FR}$$

$\Rightarrow EF \parallel QR$ (ప్రాథమిక అనుపాత సిద్ధాంత విపర్యయం నుండి)

నిరూపించబడింది



7. ఇచ్చిన పటములో A, B మరియు C వరుసగా OP, OQ మరియు OR ల పై బిందువులు $AB \parallel PQ$ మరియు $AC \parallel PR$. అయిన $BC \parallel QR$ అని చూపండి.

సాధన:

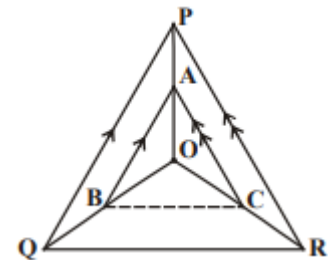
$\triangle PQO$ లో $AB \parallel PQ$

$$\Rightarrow \frac{OA}{AP} = \frac{OB}{BQ} \text{ (ప్రాథమిక అనుపాత సిద్ధాంతము నుండి)} \rightarrow (1)$$

$\triangle PRO$ లో $AC \parallel PR$

$$\Rightarrow \frac{OA}{AP} = \frac{OC}{CR} \text{ (ప్రాథమిక అనుపాత సిద్ధాంతము నుండి)} \rightarrow (2)$$

(1) మరియు (2) నుండి



$$\frac{OB}{BQ} = \frac{OC}{CR}$$

⇒ BC || QR (ప్రాథమిక అనుపాత సిద్ధాంత విపర్యయం నుండి)

8. ట్రిపీజియం ABCD లో AB || DC. దాని కర్ణములు పరస్పరం బిందువు 'O' వద్ద ఖండించకొంటాయి. అయిన

$$\frac{AO}{BO} = \frac{CO}{DO} \text{ అని చూపండి.}$$

సాధన:

దత్తాంశము : ట్రిపీజియం ABCD లో AB || DC మరియు దాని

కర్ణముల ఖండన బిందువు 'O'

$$\text{సారాంశము : } \frac{AO}{BO} = \frac{CO}{DO}$$

నిర్మాణము : 'O' గుండా EF || AB || DC అగునట్లు EF నిర్మించితిని.

ఉపపత్తి : ΔADC లో EO || DC

$$\frac{AE}{ED} = \frac{AO}{OC} \rightarrow (1)$$

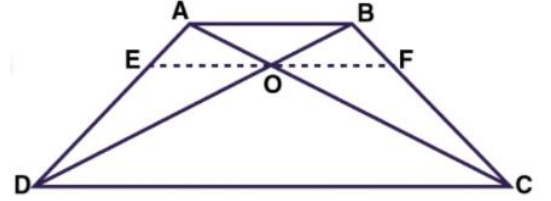
ΔADB లో EO || AB

$$\frac{AE}{ED} = \frac{BO}{OD} \rightarrow (2)$$

(1) మరియు (2) నుండి

$$\frac{AO}{OC} = \frac{BO}{OD} \Rightarrow \frac{AO}{BO} = \frac{OC}{OD} \Rightarrow \frac{AO}{BO} = \frac{CO}{DO}$$

నిరూపించబడింది .



త్రిభుజాల సరూపకతకు కో.కో.కో నియమము

రెండు త్రిభుజాలలో అనురూప కోణాలు సమానంగా వుంటే, వాటి అనురూప భుజాల నిష్పత్తులు సమానంగా వుంటాయి (అనుపాతంలో వుంటాయి). ఇంకా ఆ రెండు భుజాలు సరూపత్రిభుజాలు అవుతాయి.

దత్తాంశము: : ΔABC , ΔDEF లలో

$$\angle A = \angle D , \angle B = \angle E \text{ మరియు } \angle C = \angle F$$

$$\text{సారాంశము : } \frac{AB}{DE} = \frac{BC}{EF} = \frac{AC}{DF}$$

నిర్మాణము : AB = DP మరియు AC = DQ అగునట్లు DE

మరియు DFల పై వరుసగా P మరియు Qలను గుర్తించి PQ కలిపితిని

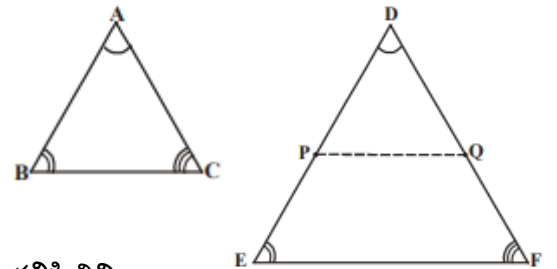
ఉపపత్తి : ΔABC , ΔDPQ లలో

$$AB = DP \text{ (నిర్మాణము)}$$

$$AC = DQ \text{ (నిర్మాణము)}$$

$$\angle A = \angle D \text{ (దత్తాంశము)}$$

$$\Delta ABC \cong \Delta DPQ \text{ (భు.కో.భు సర్వసమాన నియమం)}$$



$\Rightarrow \angle B = \angle P$ (సర్వసమాన త్రిభుజాల సరూప భాగాలు సమానం)

కానీ $\angle B = \angle E$ (దత్తాంశం)

$\therefore \angle P = \angle E \Rightarrow PQ \parallel EF$

$\Rightarrow \frac{DP}{PE} = \frac{DQ}{QF}$ (ప్రాథమిక అనుపాత సిద్ధాంతము నుండి)

$\Rightarrow \frac{DP}{DP + PE} = \frac{DQ}{DQ + QF}$

$\Rightarrow \frac{DP}{DE} = \frac{DQ}{DF}$

$\Rightarrow \frac{AB}{DE} = \frac{AC}{DF}$

అదేవిధంగా $\frac{AB}{DE} = \frac{BC}{EF}$

$\therefore \frac{AB}{DE} = \frac{BC}{EF} = \frac{AC}{DF}$

నిరూపించబడింది .

కో. కో సరూపనియమం : ఒక త్రిభుజం లోని రెండు కోణాలు వరుసగా రెండవ త్రిభుజం లోని రెండు కోణాలకు సమానమైన ఆరెండు త్రిభుజాలు సరూపాలు.

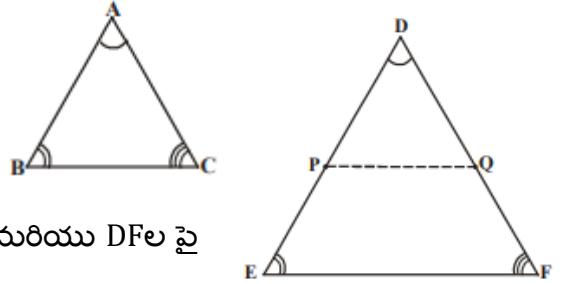
త్రిభుజాల సరూపకతకు భు. భు. భు నియమము

రెండు త్రిభుజాలలో, ఒక త్రిభుజములోని భుజాలు వేరొక త్రిభుజములోని భుజాలకు అనుపాతములో వున్న ఆ రెండు త్రిభుజాలలోని అనురూప కోణాలు సమానము ఇంకా ఆ రెండు త్రిభుజాలు సరూపాలు.

దత్తాంశము : $\triangle ABC$, $\triangle DEF$ లలో

$$\frac{AB}{DE} = \frac{BC}{EF} = \frac{AC}{DF} (< 1)$$

సారాంశము : $\angle A = \angle D$, $\angle B = \angle E$, $\angle C = \angle F$



నిర్మాణము : $AB = DP$ మరియు $AC = DQ$ అగునట్లు DE మరియు DF ల పై

వరుసగా P మరియు Q లను గుర్తించి PQ కలిపితిని.

ఉపపత్తి: $\frac{AB}{DE} = \frac{AC}{DF}$ (దత్తాంశము)

$\Rightarrow \frac{DP}{DE} = \frac{DQ}{DF}$ (నిర్మాణము)

$\Rightarrow PQ \parallel EF$ (ప్రాథమిక అనుపాత సిద్ధాంతవిపర్యయము నుండి)

$\angle P = \angle E$, $\angle Q = \angle F$ (సదృశ కోణాలు) మరియు $\angle D = \angle D$

$\triangle DPQ$, $\triangle DEF$ లలో అనూరుపకోణాలు సమానం

$\Rightarrow \triangle DPQ \sim \triangle DEF$

$\Rightarrow \frac{DP}{DE} = \frac{DQ}{DF} = \frac{PQ}{EF}$

$\Rightarrow \frac{AB}{DE} = \frac{AC}{DF} = \frac{PQ}{EF}$ ($\because DP = AB, DQ = AC$)

$$\Rightarrow \frac{BC}{EF} = \frac{PQ}{EF} \text{ (దత్తాంశము నుండి)}$$

$$\Rightarrow BC = PQ$$

In $\Delta ABC, \Delta DPQ$

$$AB = DP \text{ మరియు } AC = DQ \text{ (నిర్మాణము నుండి)}$$

$$BC = PQ \text{ (నిరూపించబడింది)}$$

$$\Rightarrow \Delta ABC \cong \Delta DPQ$$

$$\text{So } \angle A = \angle D, \angle B = \angle P = \angle E \text{ మరియు } \angle C = \angle Q = \angle F \text{ (CPCT)}$$

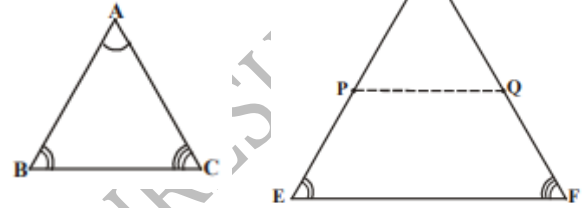
త్రిభుజాల సరూపకతకు భు. కో. భు నియమము

ఒక త్రిభుజములోని ఒక కోణము, వేరొక త్రిభుజములోని ఒక కోణమునకు సమానమై, ఈ కోణాలను కలిగి వున్న భుజాలు అనుపాతంలో వుంటే ఆ రెండు త్రిభుజాలు సరూపాలు..

దత్తాంశము : $\Delta ABC, \Delta DEF$ లలో

$$\frac{AB}{DE} = \frac{AC}{DF} (< 1) \text{ మరియు } \angle A = \angle D$$

సారాంశము : $\Delta ABC \sim \Delta DEF$



నిర్మాణము : $AB = DP$ మరియు $AC = DQ$ అగునట్లు DE మరియు DF ల పై

వరుసగా P మరియు Q లను గుర్తించి PQ కలిపితిని.

$$\text{ఉపపత్తి : } \frac{AB}{DE} = \frac{AC}{DF} \text{ (దత్తాంశము)}$$

$$\Rightarrow \frac{DP}{DE} = \frac{DQ}{DF} \text{ (నిర్మాణము నుండి)}$$

$$\Rightarrow PQ \parallel EF \text{ మరియు } \Delta ABC \cong \Delta DPQ$$

$$\angle A = \angle D, \angle B = \angle P, \angle C = \angle Q$$

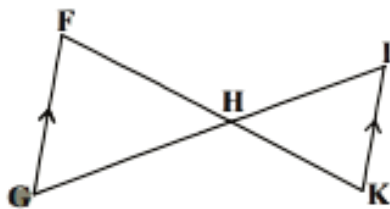
$$\Rightarrow \angle A = \angle D, \angle B = \angle E, \angle C = \angle F$$

$$\Rightarrow \Delta ABC \sim \Delta DEF \text{ (కో.కో.కో. సరూపకత)}$$

ప్రయత్నించండి

1. క్రింది త్రిభుజాలు సరూపాలా? సరూపాలయితే ఏ నియమం ఆధారంగానో వివరించండి. .

(i)



$\Delta HFG, \Delta HKI$ లలో

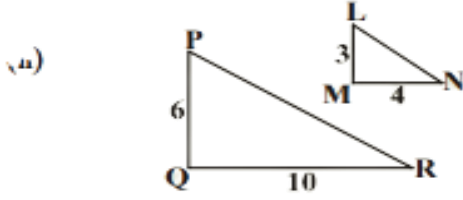
$$\angle F = \angle K \text{ (ఏకాంతర కోణాలు)}$$

$$\angle G = \angle I \text{ (ఏకాంతర కోణాలు)}$$

$$\angle FHG = \angle KHI \text{ (శీర్షాభిముఖ కోణాలు)}$$

$$\Delta HFG \sim \Delta HKI \text{ (కో.కో.కో. సరూపకత)}$$

(ii)

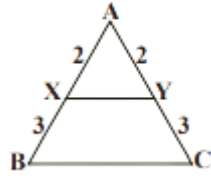


$$\frac{PQ}{LM} = \frac{6}{3} = 2 \quad \text{మరియు} \quad \frac{QR}{MN} = \frac{10}{4} = 2.5$$

$$\frac{PQ}{LM} \neq \frac{QR}{MN}$$

$\Rightarrow \Delta PQR, \Delta LMN$ లు సరూపాలు కావు

(iv)



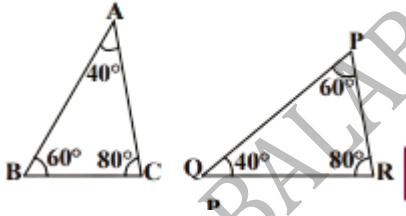
$$\frac{AP}{AB} = \frac{3}{8} \quad ; \quad \frac{AJ}{AC} = \frac{2}{16} = \frac{2 \times 3}{16} = \frac{3}{8}$$

$$\frac{AP}{AB} = \frac{AJ}{AC} \quad \text{మరియు}$$

$$\angle A = \angle A \quad (\text{ఉమ్మడి కోణం})$$

$$\Delta APJ \sim \Delta ABC \quad (\text{భు.కో.భు సరూపకత})$$

(vi)

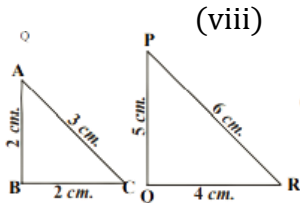


$$\angle A = \angle Q,$$

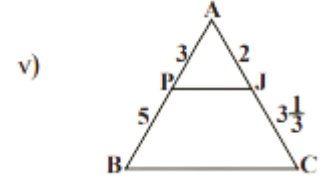
$$\angle B = \angle P \quad \text{మరియు}$$

$$\angle C = \angle R$$

$$\Delta ABC \sim \Delta QPR \quad (\text{కో.కో.కో. సరూపకత})$$



(iii)



$\Delta AXY, \Delta ABC$ లలో

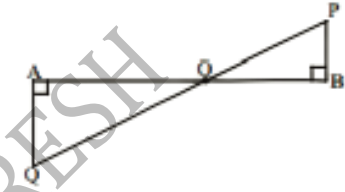
$$\frac{AX}{AB} = \frac{2}{5}, \quad \frac{AY}{AC} = \frac{2}{5}$$

$$\frac{AX}{AB} = \frac{AY}{AC}$$

$$\angle A = \angle A \quad (\text{ఉమ్మడి కోణం})$$

$$\Delta AXY \sim \Delta ABC \quad (\text{భు.కో.భు సరూపకత})$$

(v)



In $\Delta AOQ, \Delta BOP$

$$\angle A = \angle B = 90^\circ$$

$$\angle AOQ = \angle BOP \quad (\text{శిష్టాభిముఖ కోణాలు})$$

$$\Delta AOQ \sim \Delta BOP \quad (\text{కో.కో. సరూపకత})$$

(vii)

$$\frac{AB}{PQ} = \frac{2}{5}, \quad \frac{BC}{QR} = \frac{2}{4}$$

$$\frac{AB}{PQ} \neq \frac{BC}{QR}$$

$\Delta ABC, \Delta PQR$ లు సరూపాలు కావు

$$\frac{AB}{PQ} = \frac{6}{2.5} = \frac{60}{25} = \frac{12}{5}, \quad \frac{AC}{PR} = \frac{10}{5}$$

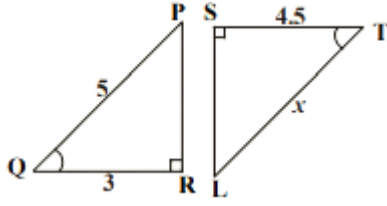
$$\frac{AB}{PQ} \neq \frac{AC}{PR}$$

$\Delta ABC, \Delta PQR$ లు సరూపాలు

కావు

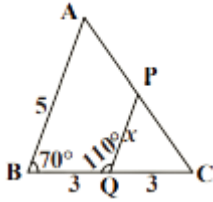
2. ఈ క్రింది త్రిభుజాలు ఎందుకు సరూపాలో వివరించి అప్పుడు 'x' విలువను కనుగొనండి.

(i)



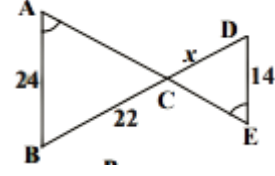
$$\begin{aligned} &\Delta PRQ, \Delta LST \text{ లలో} \\ &\angle R = \angle S = 90^\circ \text{ (దత్తాంశము)} \\ &\angle Q = \angle T \quad \text{(దత్తాంశము)} \\ &\Delta PRQ \sim \Delta LST \quad \text{(కో.కో.సరూపకత)} \\ &\Rightarrow \frac{LT}{PQ} = \frac{ST}{RQ} \\ &\Rightarrow \frac{x}{5} = \frac{4.5}{3} \\ &\Rightarrow x = \frac{4.5}{3} \times 5 = 7.5 \end{aligned}$$

(iii)



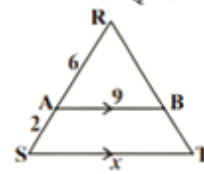
$$\begin{aligned} &\Delta ABC, \Delta EDC \text{ లలో} \\ &\angle A = \angle E \quad \text{(దత్తాంశము)} \\ &\angle ACB = \angle ECD \quad \text{(శిర్షాభి ముఖ కోణాలు)} \\ &\Delta ABC \sim \Delta EDC \quad \text{(కో.కో.సరూపకత)} \\ &\Rightarrow \frac{CD}{CB} = \frac{DE}{AB} \\ &\Rightarrow \frac{x}{22} = \frac{14}{24} \\ &\Rightarrow x = \frac{14}{24} \times 22 \\ &\Rightarrow x = \frac{77}{6} \end{aligned}$$

(ii)



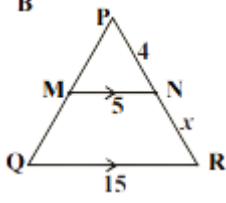
$$\begin{aligned} &\Delta PCQ, \Delta ACB \text{ లలో} \\ &\angle C = \angle C \quad \text{(ఉమ్మడి కోణం)} \\ &\angle PQC = \angle ABC = 70^\circ \\ &\Delta PCQ \sim \Delta ACB \quad \text{(కో.కో.సరూపకత)} \\ &\Rightarrow \frac{PQ}{AB} = \frac{CQ}{CB} \\ &\Rightarrow \frac{x}{5} = \frac{3}{6} \\ &\Rightarrow x = \frac{3}{6} \times 5 = 2.5 \end{aligned}$$

(iv)



$$\begin{aligned} &\text{In } \Delta ARB, \Delta SRT \\ &\angle R = \angle R \quad \text{(ఉమ్మడి కోణం)} \\ &\angle A = \angle S \quad \text{(సదృశ కోణాలు)} \\ &\Delta ARB \sim \Delta SRT \quad \text{(కో.కో.సరూపకత)} \\ &\Rightarrow \frac{ST}{AB} = \frac{SR}{AR} \\ &\Rightarrow \frac{x}{9} = \frac{8}{6} \\ &\Rightarrow x = \frac{8}{6} \times 9 \\ &\Rightarrow x = 12 \end{aligned}$$

(v)



$\Delta PQR, \Delta PMN$ లలో

$\angle PQR = \angle PMN$ (సదృశ కోణాలు)

$\angle PRQ = \angle PNM$ (సదృశ కోణాలు)

$\Delta PQR \sim \Delta PMN$ (కో.కో.సరూపకత)

$$\Rightarrow \frac{PR}{PN} = \frac{QR}{MN}$$

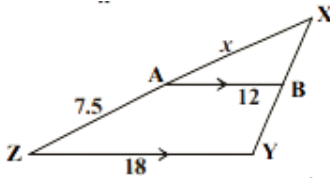
$$\Rightarrow \frac{x+4}{4} = \frac{15}{5}$$

$$\Rightarrow x+4 = \frac{15}{5} \times 4$$

$$\Rightarrow x+4 = 12$$

$$\Rightarrow x = 8$$

(vi)



$\Delta XZY, \Delta XAB$ లలో

$\angle XZY = \angle XAB$ (సదృశకోణాలు)

$\angle XYZ = \angle XBA$ (సదృశ కోణాలు)

$\Delta XZY \sim \Delta XAB$ (కో.కో.సరూపకత)

$$\Rightarrow \frac{XZ}{XA} = \frac{ZY}{AB}$$

$$\Rightarrow \frac{x+7.5}{x} = \frac{18}{12} = \frac{3}{2}$$

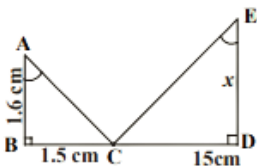
$$\Rightarrow 2(x+7.5) = 3x$$

$$\Rightarrow 2x+15 = 3x$$

$$\Rightarrow 3x-2x = 15$$

$$\Rightarrow x = 15$$

(vii)



$\Delta CDE, \Delta CBA$ లలో

$\angle D = \angle B = 90^\circ$ (దత్తాంశము)

$\angle E = \angle A$ (దత్తాంశము)

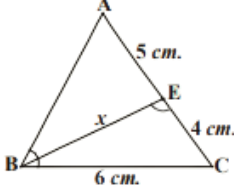
$\Delta CDE \sim \Delta CBA$ (కో.కో.సరూపకత)

$$\Rightarrow \frac{DE}{AB} = \frac{CD}{CB}$$

$$\Rightarrow \frac{x}{1.6} = \frac{15}{1.5} = 10$$

$$\Rightarrow x = 10 \times 1.6 = 16 \Rightarrow x = 16$$

(viii)



$\Delta ABC, \Delta BEC$ లలో

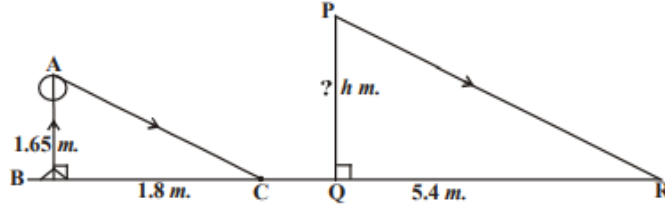
$\angle ABC = \angle BEC$ (దత్తాంశము)

$\angle C = \angle C$ (దత్తాంశము)

$\Delta ABC \sim \Delta BEC$ (కో.కో.సరూపకత)

x కనుగొనుటకు ఇచ్చిన వివరాలు సరిపోవు

ఉదాహరణ -5. 1.65 మీ పొడవు గల ఒక వ్యక్తి నీడ పొడవు 1.8 మీ. అదే సమయంలో, ఒక దీపస్థంభము 5.4 మీ. పొడవు గల నీడను ఏర్పరచిన, ఆ దీప స్థంభము పొడవు ఎంత?



సాధన : ΔABC మరియు ΔPQR లలో

$$\angle B = \angle Q = 90^\circ .$$

$\angle C = \angle R$ ($AC \parallel PR$, ఏ సమయంలోనైనా సూర్యకిరణాలు సమాంతరాలు)

$\Delta ABC \sim \Delta PQR$ (కో.కో.సరూపకత)

$$\frac{PQ}{AB} = \frac{QR}{BC} \text{ (సరూపత్రిభుజాల అనూరుప భుజాల నిష్పత్తులు సమానం)}$$

$$\frac{PQ}{1.65} = \frac{5.4}{1.8} = 3$$

$$PQ = 3 \times 1.65 = 4.95 \text{ మీ}$$

ఆ దీప స్థంభము ఎత్తు = 4.95 మీ

ఉదాహరణ -6. ఒక గోపురము నుండి 87.6 మీటర్ల దూరములో వుంచిన అద్దములో ఒక వ్యక్తి గోపుర శిఖరమును చూసెను. అద్దము నేలపై ఊర్ధ్వ దిశలో వుంచబడినది మరియు ఆ వ్యక్తి అద్దము నుండి 0.4 మీ దూరములో వున్నాడు. అతని కంటి చూపు భూమి నుండి 1.5 మీటర్ల ఎత్తులో నున్న ఆ గోపురము ఎత్తును కనుగొనుము?

సాధన : $\triangle ABC$ మరియు $\triangle EDC$ లలో

$$\angle ABC = \angle EDC = 90^\circ$$

$$\angle BCA = \angle DCE \text{ (పతన కోణము మరియు పరవర్తన కోణము)}$$

సమానము)

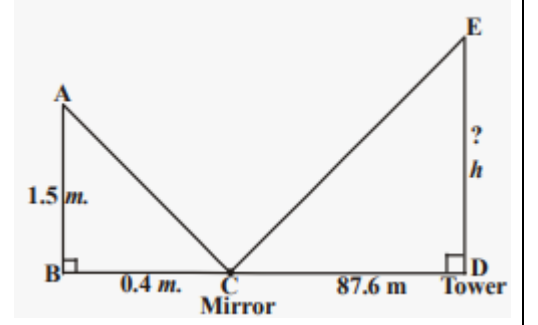
$\triangle ABC \sim \triangle EDC$ (కో.కో.సరూపకత)

$$\Rightarrow \frac{ED}{AB} = \frac{CD}{BC}$$

$$\Rightarrow \frac{h}{1.5} = \frac{87.6}{0.4} = 219$$

$$h = 219 \times 1.5 = 328.5 \text{ మీ}$$

ఆ గోపురము ఎత్తు = 328.5 మీ .



ఉదాహరణ 7. గోపాల్ తన ఇంటి హాలు ప్రక్క అపార్టుమెంటు పై అంతస్తులోని కిటికీ వద్ద నిలుచునే వ్యక్తులకు ఎప్పుడూ కనిపిస్తూ వుంటోందని ఆందోళన పడుతున్నాడు. దాని కొరకు వారికి కనిపించకుండా వుండేటందుకు తన యింటి ప్రహారీ గోడ ఎత్తు పెంచాలను కొన్నాడు. కొలతలు పటంలో ఈయబడ్డాయి. ప్రహారీ గోడను ఎంత ఎత్తు వరకు నిర్మించాలి ?.

సాధన : $\triangle ABD$ మరియు $\triangle ACE$ లలో

$$\angle B = \angle C = 90^\circ$$

$$\angle A = \angle A \text{ (ఉమ్మడి కోణం)}$$

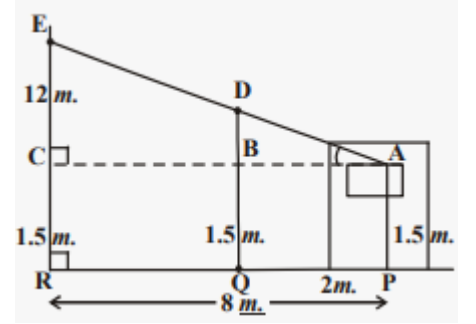
$\therefore \triangle ABD \sim \triangle ACE$ (కో.కో.సరూపకత)

$$\Rightarrow \frac{BD}{CE} = \frac{AB}{AC}$$

$$\Rightarrow \frac{BD}{12} = \frac{2}{8}$$

$$\Rightarrow BD = \frac{2 \times 1.2}{8} = 0.3 \text{ మీ.}$$

ప్రహారీ గోడ ఎత్తు = 1.5 మీ . + 0.3 మీ . = 1.8 మీ



అభ్యాసము -8.2

1. ఇచ్చిన పటంలో , $\angle ADE = \angle B$ (i) $\triangle ABC \sim \triangle ADE$ అని చూపండి (ii) $AD = 3.8$ సెం .మీ., $AE = 3.6$ సెం .మీ. $BE = 2.1$ సెం .మీ. $BC = 4.2$ సెం .మీ. అయిన DE పొడవును కనుగొనుము .

సాధన :

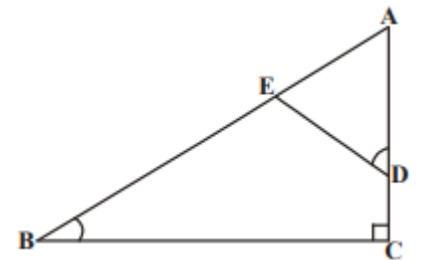
(i) $\triangle ABC$ మరియు $\triangle ADE$ లలో

$$\angle ADE = \angle B \text{ (దత్తాంశము)}$$

$$\angle A = \angle A \text{ (ఉమ్మడి కోణం)}$$

$\therefore \triangle ABC \sim \triangle ADE$ (కో.కో.సరూపకత)

(ii) $\triangle ABC \sim \triangle ADE$



$$\begin{aligned} \Rightarrow \frac{DE}{BC} &= \frac{AD}{AB} \\ \Rightarrow \frac{DE}{4.2} &= \frac{3.8}{3.6 + 2.1} \\ \Rightarrow \frac{DE}{4.2} &= \frac{3.8}{5.7} \\ \Rightarrow DE &= \frac{38}{57} \times 4.2 = 2 \times 1.4 = 2.8 \text{ మీ.} \end{aligned}$$

2. రెండు సరూప త్రిభుజాల చుట్టు కొలతలు వరుసగా 30 సెం.మీ మరియు 20 సెం.మీ మొదటి త్రిభుజములోని ఒక భుజము కొలత 12 సెం.మీ అయిన రెండవ త్రిభుజములో దాని అనురూపభుజము కొలతను కనుగొనండి.

సాధన : $\triangle ABC \sim \triangle DEF$ అనుకొనుము

$$\triangle ABC \text{ యొక్క చుట్టు కొలత} = AB + BC + CA = 30 \text{ సెం. మీ}$$

$$\triangle DEF \text{ యొక్క చుట్టు కొలత} = DE + EF + FD = 20 \text{ సెం. మీ}$$

$$AB = 12 \text{ సెం. మీ. అనుకొనుము}$$

$$\triangle ABC \sim \triangle DEF$$

$$\Rightarrow \frac{AB}{DE} = \frac{BC}{EF} = \frac{AC}{DF} = \frac{AB + BC + AC}{DE + EF + DF} = \frac{30}{20}$$

$$\Rightarrow \frac{AB}{DE} = \frac{30}{20}$$

$$\Rightarrow DE = \frac{20}{30} \times 12 = 8 \text{ సెం. మీ.}$$

$$\text{రెండవ త్రిభుజములో దాని అనురూపభుజము కొలత} = 8 \text{ సెం. మీ.}$$

$$\begin{aligned} \frac{a}{p} = \frac{b}{q} = \frac{c}{r} &= k \text{ అయితే} \\ \Rightarrow a &= pk, b = qk, c = rk \\ \Rightarrow a + b + c &= pk + qk + rk \\ \Rightarrow a + b + c &= k(p + q + r) \\ \Rightarrow k &= \frac{a + b + c}{p + q + r} \end{aligned}$$

రెండు సరూప త్రిభుజాల చుట్టు కొలతల నిష్పత్తి వాటి అనురూప భుజాల నిష్పత్తి కి సమానం

3. 90 సెం.మీ ఎత్తు గల ఒక బాలిక దీపస్తంభము నుండి దూరముగా 1.2 మీ/సె. వేగముతో నడుచు చున్నది. దీప స్తంభము ఎత్తు 3.6 మీ అయిన 4 సెకండ్ల తరువాత ఏర్పడే ఆ బాలిక నీడ పొడవును కనుగొనుము.

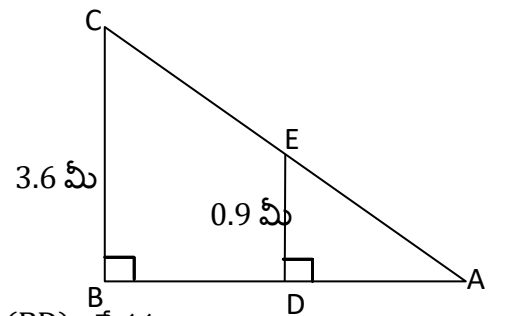
సాధన :

$$\text{దీపస్తంభము (BC)} = 3.6 \text{ మీ}$$

$$\text{బాలిక ఎత్తు (DE)} = 90 \text{ సెం. మీ.} = 0.9 \text{ మీ}$$

$$\text{బాలిక నీడ పొడవు} = AD$$

$$4 \text{ సెకండ్ల తరువాత దీపస్తంభము నుండి బాలికకు గల దూరం (BD)} = \text{వేగము} \times \text{కాలం}$$



$$= 1.2 \times 4 = 4.8 \text{ మీ}$$

$$\triangle ADE \text{ మరియు } \triangle ABC \text{ లలో}$$

$$\angle A = \angle A \text{ (ఉమ్మడి కోణం)}$$

$$\angle D = \angle B = 90^\circ$$

$$\triangle ADE \sim \triangle ABC \text{ (కో.కో. సరూపకత)}$$

$$\Rightarrow \frac{AD}{AB} = \frac{DE}{BC}$$

$$\begin{aligned} \Rightarrow \frac{AD}{AD+BD} &= \frac{DE}{BC} \\ \Rightarrow \frac{AD}{AD+4.8} &= \frac{0.9}{3.6} = \frac{1}{4} \\ \Rightarrow 4AD &= AD+4.8 \\ \Rightarrow 3AD &= 4.8 \\ \Rightarrow AD &= 1.6 \end{aligned}$$

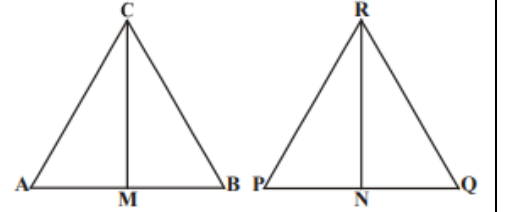
4 సెకండ్ల తరువాత ఏర్పడే ఆ బాలిక నీడ పొడవు = 1.6 m

4. CM మరియు RN లు వరుసగా సరూప త్రిభుజాలు $\triangle ABC$ మరియు

$\triangle PQR$ లలో గీయ బడిన మధ్యగత రేఖలు . అయిన

(i) $\triangle AMC \sim \triangle PNR$

(ii) $\frac{CM}{RN} = \frac{AB}{PQ}$ (iii) $\triangle CMB \sim \triangle RNQ$ అని చూపండి



సాధన : $\triangle ABC \sim \triangle PQR$

$$\frac{AB}{PQ} = \frac{BC}{QR} = \frac{AC}{PR} \rightarrow (1)$$

CM మరియు RN లు $\triangle ABC$ మరియు $\triangle PQR$ లలో గీయ బడిన మధ్యగత రేఖలు

$$AM = MB = \frac{AB}{2} \quad AB = 2AM = 2MB \rightarrow (2)$$

$$PN = NQ = \frac{PQ}{2} \quad PQ = 2PN = 2NQ \rightarrow (3)$$

(1),(2) మరియు (3) నుండి

$$\frac{2AM}{2PN} = \frac{AC}{PR} \quad \frac{AM}{PN} = \frac{AC}{PR} \rightarrow (4)$$

$\triangle AMC$, $\triangle PNR$ లలో

$$\angle A = \angle P \quad (\triangle ABC \sim \triangle PQR)$$

$$\frac{AM}{PN} = \frac{AC}{PR} \quad ((4) \text{ నుండి })$$

$\therefore \triangle AMC \sim \triangle PNR$ (భు. కో. భు సరూపకత) \rightarrow (i)

$\triangle AMC \sim \triangle PNR$

$$\Rightarrow \frac{CM}{RN} = \frac{AC}{PR} = \frac{AM}{PN}$$

$$\Rightarrow \frac{CM}{RN} = \frac{2AM}{2PN} \Rightarrow \frac{CM}{RN} = \frac{AB}{PQ} \rightarrow (ii)$$

$\triangle CMB$, $\triangle RNQ$ లలో

$$\angle B = \angle Q \quad (\triangle ABC \sim \triangle PQR)$$

$$\Rightarrow \frac{BM}{QN} = \frac{BC}{QR}$$

$\triangle CMB \sim \triangle RNQ$ (భు. కో. భు సరూపకత) \rightarrow (iii)

5. బ్రహ్మీజియం ABCD లో $AB \parallel DC$ కర్ణములు AC మరియు BDలు బిందువు 'O'. వద్ద ఖండించుకొనును. త్రిభుజాల

సరూప నియమాలను ఉపయోగించుకొని $\frac{OA}{OC} = \frac{OB}{OD}$ అని చూపండి.

సాధన : ΔOAB మరియు ΔOCD లలో

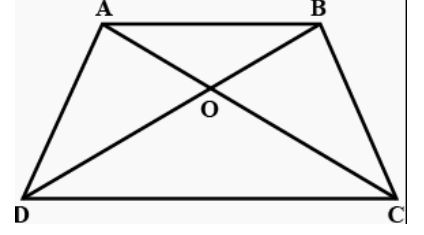
$$\angle AOB = \angle COD \text{ (శీర్షాభిముఖ కోణాలు)}$$

$$\angle ABO = \angle CDO \text{ (ఏకాంతర కోణాలు)}$$

$$\angle BAO = \angle DCO \text{ (ఏకాంతర కోణాలు)}$$

$$\therefore \Delta OAB \sim \Delta OCD \text{ (కో.కో.కో సరూపకత)}$$

$$\Rightarrow \frac{OA}{OC} = \frac{OB}{OD} \text{ (సరూప త్రిభుజాల అనూరుప భుజాల నిష్పత్తులు సమానం)}$$



6. AB, CD, PQ లు BD కి గీసిన లంబాలు. AB = x, CD = y మరియు PQ = z అయిన $\frac{1}{x} + \frac{1}{y} = \frac{1}{z}$ అని చూపండి

సాధన :

ΔPQD మరియు ΔABD లలో

$$\angle Q = \angle B = 90^\circ$$

$$\angle D = \angle D \text{ (ఉమ్మడి కోణం)}$$

$$\Delta PQD \sim \Delta ABD \text{ (కో.కో.సరూపకత)}$$

$$\Rightarrow \frac{PQ}{AB} = \frac{QD}{BD} \Rightarrow \frac{z}{x} = \frac{QD}{BD} \rightarrow (1)$$

ΔPQB మరియు ΔCDB లలో

$$\angle Q = \angle D = 90^\circ$$

$$\angle B = \angle B \text{ (ఉమ్మడి కోణం)}$$

$$\Delta PQB \sim \Delta CDB \text{ (కో.కో.సరూపకత)}$$

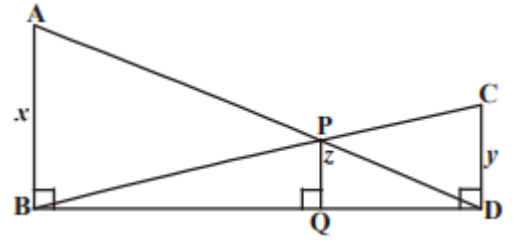
$$\Rightarrow \frac{PQ}{CD} = \frac{BQ}{BD} \Rightarrow \frac{z}{y} = \frac{BQ}{BD} \rightarrow (2)$$

(1) + (2) నుండి

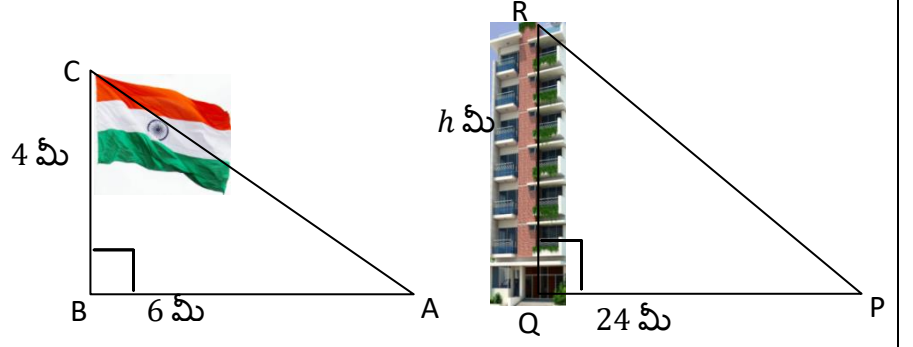
$$\frac{z}{x} + \frac{z}{y} = \frac{QD}{BD} + \frac{BQ}{BD}$$

$$\Rightarrow z \left(\frac{1}{x} + \frac{1}{y} \right) = \frac{QD + BQ}{BD} = \frac{BD}{BD} = 1$$

$$\Rightarrow \frac{1}{x} + \frac{1}{y} = \frac{1}{z}$$



7. 4మీ. పొడవు గల ఒక జెండా స్తంభము మీ, పొడవు గల నీడను వర్షరచును. అదే సమయంలో దగ్గరలో గల ఒక భవనం 24మీ. పొడవు గల నీడను ఏర్పరచిన, ఆ భవనము ఎత్తు ఎంత?



సాధన :

ΔPQR మరియు ΔABC లలో

$\angle PQR = \angle ABC = 90^\circ$

$\angle P = \angle A$ (సూర్యకిరణాలు ఒకే సమయంలో సమాంతరంగా ఉంటాయి. $PR \parallel AC$)

$\Delta PQR \sim \Delta ABC$ (కో.కో.సరూపకత)

$$\Rightarrow \frac{QR}{BC} = \frac{PQ}{AB}$$

$$\Rightarrow \frac{h}{4} = \frac{24}{6}$$

$$\Rightarrow h = 4 \times 4 = 16 \text{ మీ.}$$

భవనం ఎత్తు = 16 మీ.

8. ΔABC మరియు ΔFEG లలో AB మరియు FE భుజాలపై D మరియు H బిందువులు వరుసగా ఏర్పడునట్లు

$\angle ACB$ మరియు $\angle EGF$ లకు గీసిన కోణ సమద్విఖండన రేఖలు వరుసగా CD మరియు GH లు ఇంకా

$\Delta ABC \sim \Delta FEG$ అయిన

$$(i) \frac{CD}{GH} = \frac{AC}{FG} \quad (ii) \Delta DCB \sim \Delta HGE \quad (iii) \Delta DCA \sim \Delta HGF$$

సాధన : CD మరియు GH లు $\angle ACB$ మరియు $\angle EGF$ యొక్క కోణ సమద్విఖండన రేఖలు

$$\angle ACD = \angle BCD = \frac{1}{2} \angle ACB$$

$$\angle FGH = \angle EGH = \frac{1}{2} \angle FGE$$

$$\Delta ABC \sim \Delta FEG \Rightarrow \angle ACB = \angle FGE \text{ (స.త్రి.అ.కో.స.)}$$

$$\Rightarrow \frac{1}{2} \angle ACB = \frac{1}{2} \angle FGE$$

$$\Rightarrow \angle ACD = \angle BCD = \angle FGH = \angle EGH \rightarrow (1)$$

(i)

ΔACD మరియు ΔFGH

$$\angle ACD = \angle FGH \text{ ((1) నుండి)}$$

$$\angle A = \angle F \text{ (} \Delta ABC \sim \Delta FEG \text{)}$$

$\Delta ACD \sim \Delta FGH$ (కో.కో.సరూపకత)

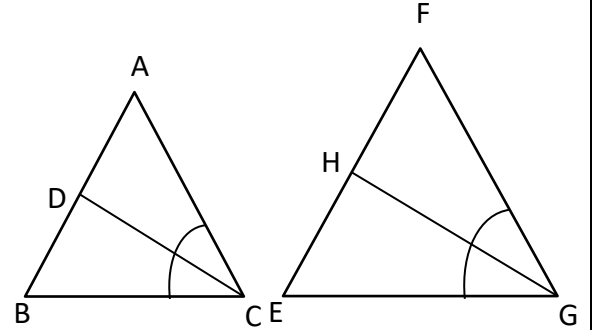
$$\Rightarrow \frac{CD}{GH} = \frac{AC}{FG} \text{ (స.త్రి.అ.భు.ని.స.)}$$

(ii) ΔDCB మరియు ΔHGE లలో

$$\angle BCD = \angle EGH \text{ ((1) నుండి)}$$

$$\angle B = \angle E \text{ (} \Delta ABC \sim \Delta FEG \text{)}$$

$\therefore \Delta DCB \sim \Delta HGE$ (కో.కో.సరూపకత)



(iii) ΔDCA మరియు ΔHGF లలో

$$\angle ACD = \angle FGH \text{ (1) నుండి)}$$

$$\angle A = \angle F \text{ (} \Delta ABC \sim \Delta FEG \text{)}$$

$$\therefore \Delta DCA \sim \Delta HGF \text{ (కో.కో. సరూపకత)}$$

9. ΔABC మరియు ΔDEF సరూప త్రిభుజాలలో గీసిన లంబాలు AX మరియు DY అయిన $AX : DY = AB : DE$ అని చూపుము.

సాధన : $\Delta ABC \sim \Delta DEF$ (దత్తాంశము)

$$AX \perp BC \text{ మరియు } DY \perp EF$$

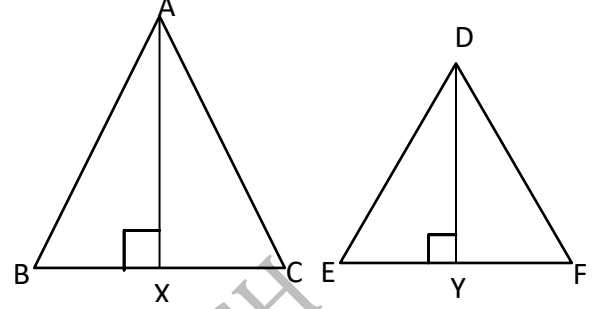
$$\Delta AXB \text{ మరియు } \Delta DYE \text{ లలో}$$

$$\angle AXB = \angle DYE = 90^\circ$$

$$\angle B = \angle E \text{ (} \Delta ABC \sim \Delta DEF \text{)}$$

$$\therefore \Delta AXB \sim \Delta DYE \text{ (కో.కో. సరూపకత)}$$

$$\Rightarrow \frac{AX}{DY} = \frac{AB}{DE} \Rightarrow AX : DY = AB : DE$$



సరూప త్రిభుజాల వైశాల్యాలు

సిద్ధాంతము -8.6 : రెండు సరూప త్రిభుజాల వైశాల్యాల నిష్పత్తి వాటి అనూరుప భుజాల నిష్పత్తి వర్గమునకు సమానము .

దత్తాంశము : $\Delta ABC \sim \Delta PQR$

$$\text{సారాంశము: } \frac{(\Delta ABC) \text{ వైశాల్యం}}{(\Delta PQR) \text{ వైశాల్యం}} = \left(\frac{AB}{PQ} \right)^2 = \left(\frac{BC}{QR} \right)^2 = \left(\frac{CA}{RP} \right)^2$$

నిర్మాణము : $AM \perp BC$ మరియు $PN \perp QR$

ఉపపత్తి : $\Delta ABC \sim \Delta PQR$ (దత్తాంశము)

$$\Rightarrow \frac{AB}{PQ} = \frac{BC}{QR} = \frac{AC}{PR} \rightarrow (1)$$

$$\Delta ABM \text{ మరియు } \Delta PQN \text{ లలో}$$

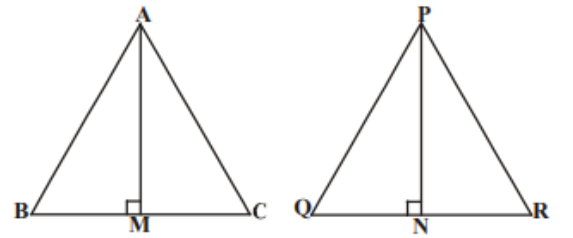
$$\angle B = \angle Q \text{ (} \because \Delta ABC \sim \Delta PQR \text{)}$$

$$\angle M = \angle N = 90^\circ$$

$$\therefore \Delta ABM \sim \Delta PQN \text{ (కో.కో. సరూపకత)}$$

$$\Rightarrow \frac{AM}{PN} = \frac{AB}{PQ} \rightarrow (2)$$

$$\begin{aligned} \frac{(\Delta ABC) \text{ వైశాల్యం}}{(\Delta PQR) \text{ వైశాల్యం}} &= \frac{\frac{1}{2} \times BC \times AM}{\frac{1}{2} \times QR \times PN} = \frac{BC}{QR} \times \frac{AM}{PN} \\ &= \frac{BC}{QR} \times \frac{AB}{PQ} \text{ ((2) నుండి)} \end{aligned}$$



$$= \frac{BC}{QR} \times \frac{BC}{QR}$$

$$\frac{(\Delta ABC) \text{వైశాల్యం}}{(\Delta PQR) \text{వైశాల్యం}} = \left(\frac{BC}{QR}\right)^2 \rightarrow (3)$$

(1),(3) ల నుండి

$$\frac{(\Delta ABC) \text{వైశాల్యం}}{(\Delta PQR) \text{వైశాల్యం}} = \left(\frac{AB}{PQ}\right)^2 = \left(\frac{BC}{QR}\right)^2 = \left(\frac{CA}{RP}\right)^2$$

ఉదాహరణ -8. రెండు సరూప త్రిభుజాల వైశాల్యాలు సమానమైన అవి సర్వసమాన త్రిభుజాలని చూపండి .

సాధన : $\Delta ABC \sim \Delta PQR$

$$\Rightarrow \frac{(\Delta ABC) \text{వైశాల్యం}}{(\Delta PQR) \text{వైశాల్యం}} = \left(\frac{AB}{PQ}\right)^2 = \left(\frac{BC}{QR}\right)^2 = \left(\frac{CA}{RP}\right)^2$$

కానీ $(\Delta ABC) \text{ వైశాల్యం} = (\Delta PQR) \text{ వైశాల్యం}$ (దత్తాంశము)

$$\frac{(\Delta ABC) \text{వైశాల్యం}}{(\Delta PQR) \text{వైశాల్యం}} = 1$$

$$\Rightarrow \left(\frac{AB}{PQ}\right)^2 = \left(\frac{BC}{QR}\right)^2 = \left(\frac{CA}{RP}\right)^2 = 1$$

$$\Rightarrow AB^2 = PQ^2; BC^2 = QR^2; AC^2 = PR^2$$

$$\Rightarrow AB = PQ; BC = QR; AC = PR$$

$\therefore \Delta ABC \cong \Delta PQR$ (భు. భు. భు. సర్వసమాన నియమం)

ఉదాహరణ -9. $\Delta ABC \sim \Delta DEF$ మరియు వాటి వైశాల్యాలు వరుసగా 64సెం.మీ.² మరియు 121 సెం.మీ.². ఇంకా $EF = 15.4$ సెం.మీ., అయిన BC కొలతను కనుగొనుము .

సాధన : $\Delta ABC \sim \Delta DEF$

$$\frac{(\Delta ABC) \text{వైశాల్యం}}{(\Delta DEF) \text{వైశాల్యం}} = \left(\frac{BC}{EF}\right)^2$$

$$\frac{BC}{EF} = \sqrt{\frac{(\Delta ABC) \text{వైశాల్యం}}{(\Delta DEF) \text{వైశాల్యం}}} = \sqrt{\frac{64}{121}} = \frac{8}{11}$$

$$\frac{BC}{15.4} = \frac{8}{11}$$

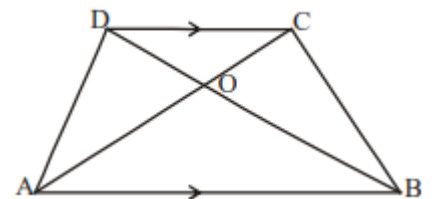
$$BC = \frac{8}{11} \times 15.4 = 8 \times 1.4 = 11.2 \text{ సెం. మీ}$$

ఉదాహరణ -10. ట్రిపీజియం ABCD లో $AB \parallel DC$, ఇంకా కర్ణములు AC మరియు BD లు 'O' వద్ద ఖండించు కొంటాయి. $AB = 2CD$ అయిన త్రిభుజములు AOB మరియు COD ల వైశాల్యముల నిష్పత్తిని కనుగొనండి

సాధన : ట్రిపీజియం ABCD, $AB \parallel DC$ మరియు $AB = 2CD$.

ΔAOB మరియు ΔCOD లలో

$$\angle AOB = \angle COD \text{ (శీర్షాభిముఖ కోణాలు)}$$



$\angle OAB = \angle OCD$ (ఏకాంతర కోణాలు)

$\triangle AOB \sim \triangle COD$ (కో. కో. సరూపకత)

$$\frac{(\triangle AOB) \text{ వైశాల్యం}}{(\triangle COD) \text{ వైశాల్యం}} = \left(\frac{AB}{CD}\right)^2 = \left(\frac{2CD}{CD}\right)^2 = 2^2 = 4 = 4:1$$

$(\triangle AOB) \text{ వైశాల్యం} : (\triangle COD) \text{ వైశాల్యం} = 4:1$

EXERCISE - 8.3

1. ఒక లంబకోణ త్రిభుజము మూడు భుజాలపై సమబాహు త్రిభుజాలు గీయబడ్డాయి.. కర్ణము మీద గీసిన త్రిభుజవైశాల్యము మిగిలిన రెండు భుజాల మీద గీసిన త్రిభుజాల వైశాల్యాల మొత్తమునకు సమానమని చూపండి.

సాధన :

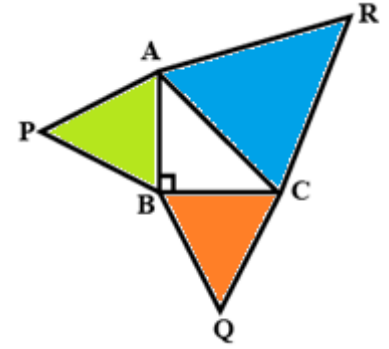
$$\text{భుజము "a" గా కలిగిన సమబాహు త్రిభుజ వైశాల్యం} = \frac{\sqrt{3}}{4} a^2$$

ABC లంబకోణ త్రిభుజంలో

$\angle B = 90^\circ$ మరియు $AB = c$, $BC = a$, $AC = b$

$$b^2 = a^2 + c^2 \quad (\text{పైథాగరస్ సిద్ధాంతము}) \rightarrow (1)$$

$$\begin{aligned} (\triangle APB) \text{ వైశాల్యం} + (\triangle BQC) \text{ వైశాల్యం} &= \frac{\sqrt{3}}{4} c^2 + \frac{\sqrt{3}}{4} a^2 \\ &= \frac{\sqrt{3}}{4} (c^2 + a^2) = \frac{\sqrt{3}}{4} b^2 = (\triangle ARC) \text{ వైశాల్యం} \end{aligned}$$



2. ఒక చతురస్రము భుజముపై గీసిన సమబాహు త్రిభుజ వైశాల్యము, ఆ చతురస్ర కర్ణముపై గీసిన సమబాహు త్రిభుజ వైశాల్యములో సగము వుంటుందని చూపండి.

సాధన :

ABCD ఒక చతురస్రము మరియు BD కర్ణము

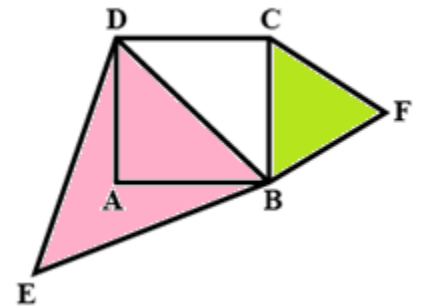
చతురస్ర భుజము $= a$; కర్ణము $= \sqrt{2}a$

$\triangle BCF$ మరియు $\triangle BDE$ లు సమబాహు త్రిభుజాలు

$\triangle BCF \sim \triangle BDE$

$$\Rightarrow \frac{(\triangle BCF) \text{ వైశాల్యం}}{(\triangle BDE) \text{ వైశాల్యం}} = \frac{\frac{\sqrt{3}}{4} a^2}{\frac{\sqrt{3}}{4} (\sqrt{2}a)^2} = \frac{a^2}{2a^2} = \frac{1}{2}$$

$$\Rightarrow (\triangle BCF) \text{ వైశాల్యం} = \frac{1}{2} \times (\triangle BDE) \text{ వైశాల్యం}$$



3. $\triangle ABC$ లో BC, CA, AB భుజాల మధ్య బిందువులు వరుసగా D, E, F అయిన $\triangle DEF$ మరియు $\triangle ABC$ ల వైశాల్యాల నిష్పత్తిని కనుగొనండి.

సాధన :

“ఒక త్రిభుజం లోని రెండు భుజాల మధ్య బిందువులను కలిపే రేఖా ఖండం మూడవ భుజానికి

సమాంతరంగాను మరియు అందులో సగం ఉంటుంది ”

ΔABC లో D, E, F లు వరుసగా BC, CA, AB భుజాల మధ్యబిందువులు

$$\Rightarrow DF = \frac{1}{2}BC; \quad EF = \frac{1}{2}AB; \quad DE = \frac{1}{2}AC$$

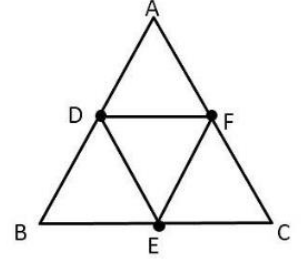
$$\Rightarrow \frac{DF}{BC} = \frac{1}{2}; \quad \frac{EF}{AB} = \frac{1}{2}; \quad \frac{DE}{AC} = \frac{1}{2}$$

$$\Rightarrow \frac{DF}{BC} = \frac{EF}{AB} = \frac{DE}{AC} = \frac{1}{2}$$

$\Rightarrow \Delta DEF \sim \Delta ABC$ (భు. భు. భు. సరూపకత)

$$\Rightarrow \frac{\text{ar}(\Delta DEF)}{\text{ar}(\Delta ABC)} = \left(\frac{DF}{BC}\right)^2 = \left(\frac{1}{2}\right)^2 = \frac{1}{4}$$

$\therefore (\Delta DEF)$ వైశాల్యం : (ΔABC) వైశాల్యం = 1:4



4. ΔABC లో $XY \parallel AC$ మరియు XY ఆ త్రిభుజాన్ని రెండు సమాన వైశాల్యాలు కల భాగాలుగా విభజించును.

అయిన $\frac{AX}{XB}$ నిష్పత్తిని కనుగొనండి.

సాధన : ΔABC లో $XY \parallel AC$ మరియు

XY ఆ త్రిభుజాన్ని రెండు సమాన వైశాల్యాలు కల భాగాలుగా విభజించును

$$(\Delta BXY) \text{ వైశాల్యం} = (\Delta XYC) \text{ వైశాల్యం} \rightarrow (1)$$

ΔABC మరియు ΔXBY లలో

$$\angle ABC = \angle XBY \text{ (ఉమ్మడి కోణం)}$$

$$\angle BCA = \angle BYX \text{ (} XY \parallel AC \text{, సదృశ కోణాలు)}$$

$$\Delta ABC \sim \Delta XBY \text{ (కో. కో. సరూపకత)}$$

సరూప త్రిభుజాల వైశాల్యాల నిష్పత్తి వాటి అనూరుప భుజాల నిష్పత్తి వర్గమునకు సమానము కావున

$$\frac{(\Delta ABC) \text{ వైశాల్యం}}{(\Delta XBY) \text{ వైశాల్యం}} = \left(\frac{AB}{XB}\right)^2$$

$$\Rightarrow \frac{(\Delta XBY) \text{ వైశాల్యం} + (\Delta XYC) \text{ వైశాల్యం}}{(\Delta XBY) \text{ వైశాల్యం}} = \left(\frac{AB}{XB}\right)^2$$

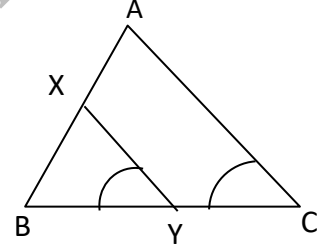
$$\Rightarrow \frac{(\Delta XBY) \text{ వైశాల్యం} + (\Delta XBY) \text{ వైశాల్యం}}{(\Delta XBY) \text{ వైశాల్యం}} = \left(\frac{AB}{XB}\right)^2 \text{ ((1) నుండి)}$$

$$\Rightarrow \frac{2 \times (\Delta XBY) \text{ వైశాల్యం}}{(\Delta XBY) \text{ వైశాల్యం}} = \left(\frac{AB}{XB}\right)^2$$

$$\Rightarrow \left(\frac{AB}{XB}\right)^2 = 2$$

$$\Rightarrow \frac{AB}{XB} = \sqrt{2}$$

$$\Rightarrow \frac{AB}{XB} = \frac{\sqrt{2}}{1}$$



$$\Rightarrow \frac{AB - XB}{XB} = \frac{\sqrt{2} - 1}{1}$$

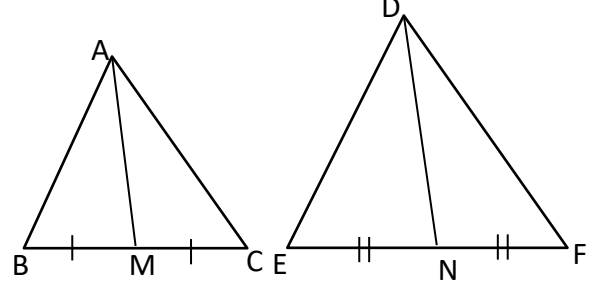
$$\Rightarrow \frac{AX}{XB} = \sqrt{2} - 1$$

5. రెండు సరూప త్రిభుజాల వైశాల్యాల నిష్పత్తి వాటి అనూరుప మధ్యగతాల నిష్పత్తి వర్గమునకు సమానమని చూపండి.

సాధన : దత్తాంశము $\Delta ABC \sim \Delta DEF$ మరియు

AO మరియు DP మధ్యగతాలు

$$\text{సారాంశము : } \frac{(\Delta ABC) \text{వైశాల్యం}}{(\Delta DEF) \text{వైశాల్యం}} = \left(\frac{AM}{DN}\right)^2$$



ఉపపత్తి : AO మరియు DP మధ్యగతాలు

$$\Rightarrow BM = MC = \frac{BC}{2} \text{ మరియు } EN = NF = \frac{EF}{2} \rightarrow (1)$$

$$\Rightarrow 2BM = 2MC = BC \text{ మరియు } 2EN = 2NF = EF \rightarrow (2)$$

$$\Delta ABC \sim \Delta DEF \Rightarrow \frac{AB}{DE} = \frac{BC}{EF} \text{ (సరూప త్రిభుజాల అనూరుప భుజాల నిష్పత్తులు సమానము)}$$

$$\Rightarrow \frac{AB}{DE} = \frac{2BM}{2EN} \text{ ((2)నుండి)}$$

$$\Rightarrow \frac{AB}{DE} = \frac{BM}{EN} \rightarrow (3)$$

ΔABM మరియు ΔDEN లలో

$$\angle B = \angle E \text{ (} \Delta ABC \sim \Delta DEF \text{)}$$

$$\frac{AB}{DE} = \frac{BM}{EN} \text{ ((3)నుండి)}$$

$\Delta ABM \sim \Delta DEN$ (భు. కో. భు. సరూపకత)

$$\Rightarrow \frac{AB}{DE} = \frac{AM}{DN} \rightarrow (4)$$

సరూప త్రిభుజాల వైశాల్యాల నిష్పత్తి వాటి అనూరుప భుజాల నిష్పత్తి వర్గమునకు సమానము కావున

$$\Rightarrow \frac{(\Delta ABC) \text{వైశాల్యం}}{(\Delta DEF) \text{వైశాల్యం}} = \left(\frac{AB}{DE}\right)^2$$

$$\Rightarrow \frac{(\Delta ABC) \text{వైశాల్యం}}{(\Delta DEF) \text{వైశాల్యం}} = \left(\frac{AM}{DN}\right)^2 \text{ ((4) నుండి)}$$

6. $\Delta ABC \sim \Delta DEF$. $BC = 3$ సెం. మీ. $EF = 4$ సెం. మీ. మరియు ΔABC వైశాల్యం = 54 చ.సెం. మీ. అయిన ΔDEF వైశాల్యమును కనుగొనుము.

సాధన : రెండు సరూప త్రిభుజాల వైశాల్యాల నిష్పత్తి వాటి అనూరుప భుజాల నిష్పత్తి వర్గమునకు సమానము

కావున

$$\Delta ABC \sim \Delta DEF$$

$$\Rightarrow \frac{(\Delta ABC) \text{ వైశాల్యం}}{(\Delta DEF) \text{ వైశాల్యం}} = \left(\frac{BC}{EF}\right)^2$$

$$\Rightarrow \frac{54}{(\Delta DEF) \text{వైశాల్యం}} = \left(\frac{3}{4}\right)^2 = \frac{9}{16}$$

$$\Rightarrow (\Delta DEF) \text{వైశాల్యం} = \frac{54 \times 16}{9} = 96$$

ΔDEF వైశాల్యము=96చ. సెం. మీ.

7. త్రిభుజం ABC లో AB భుజాన్ని P వద్ద , AC భుజాన్ని Q వద్ద తాకునట్లు PQ ఒక సరళ రేఖ ఇంకా AP = 1 సెం. మీ., మరియు BP = 3సెం. మీ., AQ = 1.5 సెం. మీ., CQ = 4.5 సెం. మీ.. అయిన ΔAPQ వైశాల్యం = $\frac{1}{16}(\Delta ABC$ వైశాల్యము) అని చూపండి.

$$\text{సాధన } \frac{AP}{BP} = \frac{1}{3} \text{ మరియు } \frac{AQ}{QC} = \frac{1.5}{4.5} = \frac{15}{45} = \frac{1}{3}$$

$$\therefore \frac{AP}{PB} = \frac{AQ}{QC}$$

ప్రాథమిక అనుపాత సిద్ధాంతవిషయము నుండి .

$$PQ \parallel BC$$

ΔAPQ , ΔABC లలో

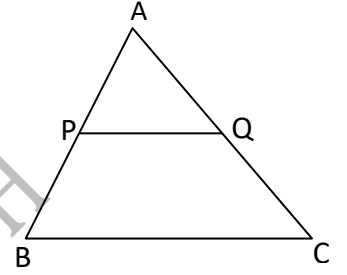
$$\angle A = \angle A \text{ (ఉమ్మడి కోణం)}$$

$$\angle APQ = \angle ABC \text{ (} PQ \parallel BC, \text{ సదృశ కోణాలు)}$$

$$\therefore \Delta APQ \sim \Delta ABC \text{ (కో.కో. సరూపకత)}$$

$$\Rightarrow \frac{(\Delta APQ) \text{వైశాల్యము}}{(\Delta ABC) \text{వైశాల్యము}} = \left(\frac{AP}{AB}\right)^2 = \left(\frac{1}{4}\right)^2 = \frac{1}{16}$$

$$\Rightarrow (\Delta APQ) \text{వైశాల్యము} = \frac{1}{16} \times (\Delta ABC) \text{వైశాల్యము}$$



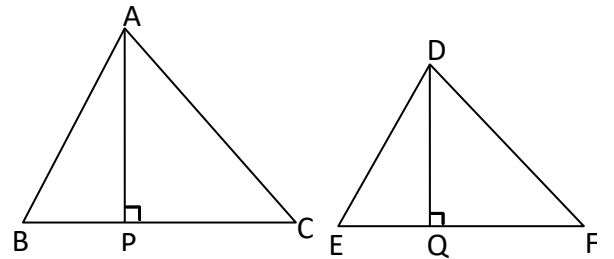
8. రెండు సరూప త్రిభుజాల వైశాల్యాలు 81చ.సెం. మీ. మరియు 49చ. సెం. మీ. పెద్ద త్రిభుజములో గీసిన లంబము పొడవు 4.5 సెం. మీ.అయిన చిన్న త్రిభుజము లో దాని అనూరుప లంబము పొడవును కనుగొనండి.

సాధన : Let $(\Delta ABC) \text{వైశాల్యము} = 81 \text{చ.సెం. మీ.}$

$$(\Delta DEF) \text{ వైశాల్యము} = 49 \text{ చ.సెం. మీ.}$$

$$\Delta ABC \text{ యొక్క లంబము} = AP = 4.5 \text{ సెం. మీ.}$$

$$\Delta DEF \text{ యొక్క లంబము} = DQ = ?$$



రెండు సరూప త్రిభుజాల వైశాల్యాల నిష్పత్తి వాటి అనూరుప లంబాల నిష్పత్తి వర్గమునకు సమానము.

$$\Delta ABC \sim \Delta DEF$$

$$\Rightarrow \frac{(\Delta ABC) \text{వైశాల్యము}}{(\Delta DEF) \text{వైశాల్యము}} = \left(\frac{AP}{DQ}\right)^2$$

$$\Rightarrow \frac{81}{49} = \left(\frac{4.5}{DQ}\right)^2$$

$$\Rightarrow \frac{4.5}{DQ} = \sqrt{\frac{81}{49}} = \frac{9}{7}$$

$$\Rightarrow DQ = \frac{4.5 \times 7}{9} = 3.5$$

చిన్న త్రిభుజము లో దాని అనూరుప లంబము పొడవు=3.5 సెం .మీ.

1. బొధాయన సిద్ధాంతము (పైథాగరస్ సిద్ధాంతము) వ్రాసి నిరూపించుము .

సాధన : బొధాయన సిద్ధాంతము (పైథాగరస్ సిద్ధాంతము)

“ఒక లంబ కోణత్రిభుజంలో కర్ణము మీది వర్గము, మిగిలిన రెండు భుజాల వర్గాల మొత్తానికి సమానం ”.

దత్తాంశము : ΔABC లో $\angle B = 90^\circ$

సారాంశము : $AC^2 = AB^2 + BC^2$

నిర్మాణము : $BD \perp AC$ గీచితిని

ఉపపత్తి : $\Delta ADB, \Delta ABC$ లలో

$$\angle A = \angle A \text{ (ఉమ్మడి కోణం)}$$

$$\angle ADB = \angle ABC = 90^\circ$$

$\Delta ADB \sim \Delta ABC$ (కో .కో సరూపత నియమం)

$$\Rightarrow \frac{AD}{AB} = \frac{AB}{AC} \text{ (సరూప త్రిభుజాల భుజాలు అనుపాతం లో ఉంటాయి)}$$

$$\Rightarrow AD \times AC = AB^2 \rightarrow (1)$$

అదే విధంగా

$\Delta BDC \sim \Delta ABC$ (కో .కో సరూపత నియమం)

$$\Rightarrow \frac{DC}{BC} = \frac{BC}{AC} \Rightarrow DC \times AC = BC^2 \rightarrow (2)$$

$$(1)+(2) \Rightarrow AD \times AC + DC \times AC = AB^2 + BC^2$$

$$AC \times (AD + DC) = AB^2 + BC^2$$

$$AC \times (AC) = AB^2 + BC^2$$

$$AC^2 = AB^2 + BC^2$$

2. బొధాయన సిద్ధాంతము (పైథాగరస్ సిద్ధాంతము) యొక్క విపర్యయ సిద్ధాంతం వ్రాసి నిరూపించుము .

సాధన : బొధాయన సిద్ధాంతము (పైథాగరస్ సిద్ధాంతము) యొక్క విపర్యయ సిద్ధాంతం:

“ఒక త్రిభుజంలో ఒక భుజము మీది వర్గము మిగిలిన రెండు భుజాల వర్గాల మొత్తానికి సమానమైన,

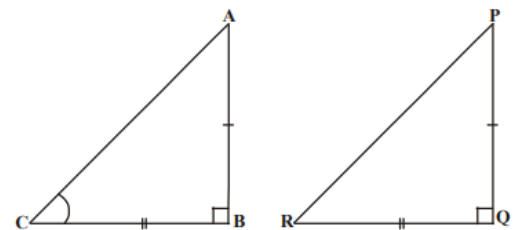
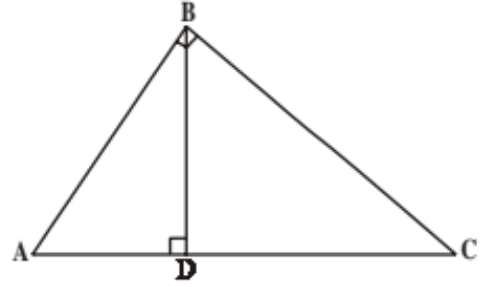
మొదటి భుజానికి ఎదురుగా వుండే కోణము లంబకోణము అనగా ఆ త్రిభుజము లంబకోణ

త్రిభుజం అవుతుంది ”.

దత్తాంశము : ΔABC లో $AC^2 = AB^2 + BC^2$

సారాంశము : $\angle B = 90^\circ$

నిర్మాణము : $PQ = AB$, $QR = BC$ మరియు $\angle Q = 90^\circ$.



అగునట్లు ΔPQR ని నిర్మించితిని

ఉపపత్తి : ΔPQR లో $\angle Q = 90^\circ$

$$PR^2 = PQ^2 + QR^2 \text{ (పైథాగరస్ సిద్ధాంతం)}$$

$$PR^2 = AB^2 + BC^2 \text{ (నిర్మాణము నుండి)}$$

$$= AC^2 \text{ (దత్తాంశము నుండి } AC^2 = AB^2 + BC^2 \text{)}$$

$$\therefore PR = AC$$

ΔABC మరియు ΔPQR లలో

$$AB = PQ \text{ (నిర్మాణము)}$$

$$BC = QR \text{ (నిర్మాణము)}$$

$$AC = PR \text{ (నిరూపించబడింది)}$$

$$\therefore \Delta ABC \cong \Delta PQR \text{ (భు.భు.భు.సర్వసమానత్వ నియమం)}$$

$$\therefore \angle B = \angle Q \text{ (సర్వసమాన త్రిభుజాల సదృశ భాగాలు)}$$

$$\text{కానీ } \angle Q = 90^\circ \text{ (నిర్మాణం నుండి)}$$

$$\therefore \angle B = 90^\circ.$$

ఉదాహరణ -11. 25 మీ పొడవుగల ఒక నిచ్చెన, గోడపై 20 మీ ఎత్తున గల ఒక కిటికీని తాకుచున్నది.

అయిన ఆ నిచ్చెన అడుగు భాగము నేలపై గోడ నుండి ఎంత దూరము లో నున్నది.

సాధన : ΔABC లో $\angle C = 90^\circ$

$$\Rightarrow AC^2 + BC^2 = AB^2 \text{ (పైథాగరస్ సిద్ధాంతం)}$$

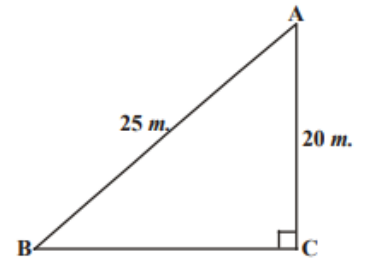
$$\Rightarrow 20^2 + BC^2 = 25^2$$

$$\Rightarrow 400 + BC^2 = 625$$

$$\Rightarrow BC^2 = 625 - 400 = 225$$

$$\Rightarrow BC = \sqrt{225} = 15$$

నిచ్చెన అడుగు భాగము నేలపై గోడ నుండి 15 మీ. దూరములో నున్నది.



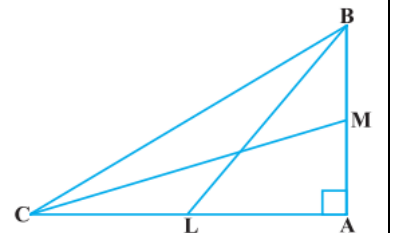
ఉదాహరణ -12. లంబకోణ త్రిభుజము ABC లో శీర్షము 'A' వద్ద లంబకోణము కలదు. BL మరియు CM లు

దీనిలో మధ్యగత రేఖలు అయిన

$$4(BL^2 + CM^2) = 5BC^2 \text{ అనిచూపండి.}$$

సాధన : BL మరియు CM లు ΔABC యొక్క మధ్యగత రేఖలు

$$\Rightarrow L, M \text{ అనేవి } AC, AB \text{ ల మధ్య బిందువులు}$$



$$\Rightarrow CL = AL = \frac{AC}{2} \text{ మరియు } BM = AM = \frac{AB}{2}$$

$$\Delta ABC \text{ లో } \angle A = 90^\circ$$

$$BC^2 = AC^2 + AB^2 \text{ (పైథాగరస్ సిద్ధాంతం)} \rightarrow (1)$$

$$\Delta ABC \text{ లో } \angle A = 90^\circ.$$

$$BL^2 = AL^2 + AB^2 \text{ (పైథాగరస్ సిద్ధాంతం)}$$

$$\Rightarrow BL^2 = \left(\frac{AC}{2}\right)^2 + AB^2$$

$$\Rightarrow BL^2 = \frac{AC^2}{4} + AB^2$$

$$\Rightarrow 4BL^2 = AC^2 + 4AB^2 \rightarrow (2)$$

$$\Delta MAC \text{ లో } \angle A = 90^\circ.$$

$$CM^2 = AC^2 + AM^2 \text{ (పైథాగరస్ సిద్ధాంతం)}$$

$$\Rightarrow CM^2 = AC^2 + \left(\frac{AB}{2}\right)^2$$

$$\Rightarrow CM^2 = AC^2 + \frac{AB^2}{4}$$

$$\Rightarrow 4CM^2 = 4AC^2 + AB^2 \rightarrow (3)$$

$$(2)+(3) \Rightarrow 4BL^2 + 4CM^2 = AC^2 + 4AB^2 + 4AC^2 + AB^2$$

$$\Rightarrow 4(BL^2 + CM^2) = 5AC^2 + 5AB^2$$

$$\Rightarrow 4(BL^2 + CM^2) = 5(AC^2 + AB^2)$$

$$\Rightarrow 4(BL^2 + CM^2) = 5BC^2 \text{ ((1)నుండి)}$$

ఉదాహరణ -13. దీర్ఘచతురస్రం ABCD అంతరంలో ఏదైనా బిందువు 'O' అయిన $OB^2 + OD^2 = OA^2 + OC^2$

అని చూపండి.

సాధన : PQ || BC అగునట్లు 'O' బిందువు గుండా

రేఖను గీచితిని

$$\therefore PQ \perp AB \text{ \& } PQ \perp DC \text{ (}\because \angle B = \angle C = 90^\circ\text{)}$$

$$\text{కావున, } \angle BPQ = 90^\circ \text{ \& } \angle CQP = 90^\circ$$

\therefore BPQC మరియు APQD లు రెండు దీర్ఘచతురస్రాలు

$$\Delta OPB \text{ లో } \angle P = 90^\circ$$

$$OB^2 = BP^2 + OP^2 \rightarrow (1)$$

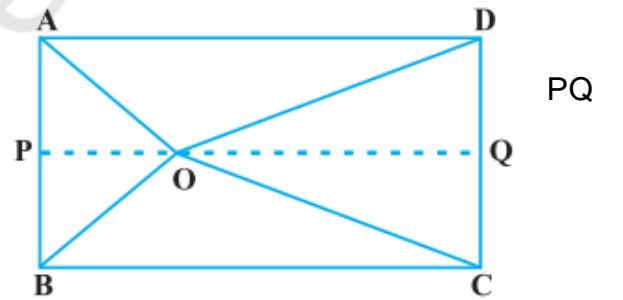
ఆదేవిధంగా

$$\Delta OQD \text{ నుండి } OD^2 = OQ^2 + DQ^2 \rightarrow (2)$$

$$\Delta OQC \text{ నుండి } OC^2 = OQ^2 + CQ^2 \rightarrow (3)$$

$$\Delta OPA \text{ నుండి } OA^2 = AP^2 + OP^2 \rightarrow (4)$$

$$(1)+(2) \Rightarrow OB^2 + OD^2 = BP^2 + OP^2 + OQ^2 + DQ^2$$



$$\begin{aligned}
&= CQ^2 + OP^2 + OQ^2 + AP^2 (\because BP = CQ \text{ మరియు } DQ = AP) \\
&= (AP^2 + OP^2) + (OQ^2 + CQ^2) \\
&= OA^2 + OC^2 \text{ ((3) \&(4) ల నుండి)}
\end{aligned}$$

ఇవి చేయండి

1. ΔACB లో $\angle C = 90^\circ$, $CD \perp AB$ అయిన $\frac{BC^2}{AC^2} = \frac{BD}{AD}$ అని నిరూపించండి .

సాధన : $\Delta ACB, \Delta ADC$ లలో

$$\angle ACB = \angle ADC = 90^\circ$$

$$\angle A = \angle A$$

$\therefore \Delta ACB \sim \Delta ADC$ (కో. కో. సరూపత నియమం)

$$\frac{AC}{AD} = \frac{AB}{AC} \Rightarrow AC^2 = AB \times AD \rightarrow (1)$$

$\Delta ACB, \Delta CDB$ లలో

$$\angle ACB = \angle CDB = 90^\circ$$

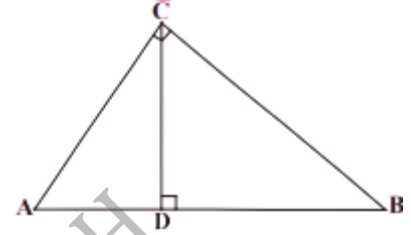
$$\angle B = \angle B$$

$\therefore \Delta ACB \sim \Delta CDB$ (కో. కో. సరూపత నియమం)

$$\frac{AB}{BC} = \frac{BC}{BD} \Rightarrow BC^2 = AB \times BD \rightarrow (2)$$

$$\frac{(2)}{(1)} \Rightarrow \frac{BC^2}{AC^2} = \frac{AB \times BD}{AB \times AD}$$

$$\Rightarrow \frac{BC^2}{AC^2} = \frac{BD}{AD}$$



2. 15 మీ పొడవు గల ఒక నిచ్చెన రోడ్డుపై ఒక వైపు నున్న భవనంపై నేలనుండి 9 మీ ఎత్తున గల కిటికీని తాకును. నిచ్చెన అడుగుభాగమును అదే ప్రదేశములో ఉంచి నిచ్చెనను రోడ్డుకు అవతలి వైపున ఉన్న భవనము వైపునకు తిప్పిన దానిపై నేలనుండి 12 మీ ఎత్తున గల కిటికీని తాకును. అయిన ఆరోడ్డు వెడల్పు ను కనుగొనుము.

సాధన :

$$\text{నిచ్చెన పొడవు} = PD = PB = 15 \text{ మీ}$$

$$\text{మొదటి కిటికీ ఎత్తు} = AB = 9 \text{ మీ}$$

$$\text{రెండవ కిటికీ ఎత్తు} = PD = 12 \text{ మీ}$$

ΔPAB నుండి

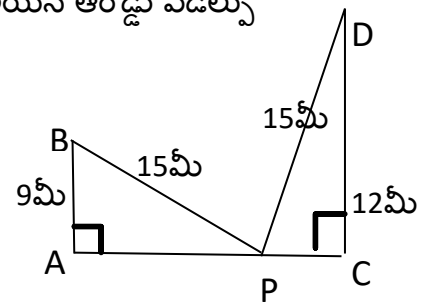
$$AP^2 + AB^2 = PB^2$$

$$\Rightarrow AP^2 + 9^2 = 15^2$$

$$\Rightarrow AP^2 + 81 = 225$$

$$\Rightarrow AP^2 = 225 - 81 = 144$$

$$\Rightarrow AP = 12 \text{ మీ}$$



ΔPCD నుండి

$$PC^2 + CD^2 = PD^2$$

$$\Rightarrow PC^2 + 12^2 = 15^2$$

$$AC = AP + PC = 12 + 9 = 21 \text{ మీ.}$$

$$\text{ఆరోడ్డు వెడల్పు} = 21 \text{ మీ}$$

$$\Rightarrow PC^2 + 144 = 225$$

$$\Rightarrow PC^2 = 225 - 144 = 81$$

$$\Rightarrow PC = 9 \text{ మీ}$$

3. ఇచ్చిన పటంలో $AD \perp BC$ అయిన $AB^2 + CD^2 = BD^2 + AC^2$ అని చూపండి.

సాధన : ΔADB లో $\angle D = 90^\circ$

$$AD^2 + BD^2 = AB^2$$

$$\Rightarrow AD^2 = AB^2 - BD^2 \rightarrow (1)$$

ΔADC లో $\angle D = 90^\circ$

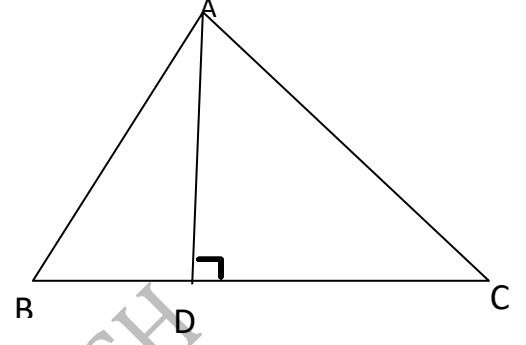
$$AD^2 + CD^2 = AC^2$$

$$\Rightarrow AD^2 = AC^2 - CD^2 \rightarrow (2)$$

(1) మరియు (2)ల నుండి

$$AB^2 - BD^2 = AC^2 - CD^2$$

$$AB^2 + CD^2 = BD^2 + AC^2$$



ఉదాహరణ -14. ఒక లంబకోణ త్రిభుజంలో కర్ణము, దాని అతి చిన్న భుజము రెట్టింపుకన్న 6 మీ ఎక్కువ మూడవ భుజము కర్ణము కన్నా 2 మీ తక్కువ అయిన ఆ త్రిభుజ భుజాలను కనుగొనుము .

సాధన : అతిచిన్న భుజము = x మీ అనుకొనుము

$$\text{కర్ణము} = (2x + 6) \text{ మీ}$$

$$\text{మూడవ భుజము} = (2x + 6 - 2) \text{ మీ} = (2x + 4) \text{ మీ} .$$

పైథాగరస్ సిద్ధాంతము నుండి

$$(\text{భుజము})^2 + (\text{భుజము})^2 = (\text{కర్ణము})^2$$

$$(x)^2 + (2x + 4)^2 = (2x + 6)^2$$

$$x^2 + 4x^2 + 16x + 16 = 4x^2 + 24x + 36$$

$$x^2 + 4x^2 + 16x + 16 - 4x^2 - 24x - 36 = 0$$

$$x^2 - 8x - 20 = 0$$

$$(x - 10)(x + 2) = 0$$

$$x - 10 = 0 \text{ లేదా } x + 2 = 0$$

$$x = 10 \text{ లేదా } x = -2$$

$$\Rightarrow x = 10 \text{ (త్రిభుజ భుజము ఋణ విలువ కాదు)}$$

$$\text{అతిచిన్న భుజము} = x \text{ m} = 10 \text{ m}$$

$$\text{కర్ణము} = (2x + 6) \text{ మీ} = (2 \times 10 + 6) \text{ మీ} = 26 \text{ మీ}$$

$$\text{మూడవ భుజము} = (2x + 4) \text{ మీ} = (2 \times 10 + 4) \text{ మీ} = 24 \text{ మీ} .$$

కావలసిన త్రిభుజ భుజాలు 10 మీ , 26 మీ మరియు 24 మీ .

ఉదాహరణ -15. లంబకోణ త్రిభుజము ABC లో లంబకోణము శీర్షము 'C' వద్ద కలదు . BC = a, CA = b, AB = c అనుకొనుము. ఇంకా శీర్షము 'C' నుండి AB కి గీసిన లంబము పొడవు p అయిన

(i) $pc = ab$ (ii) $\frac{1}{p^2} = \frac{1}{a^2} + \frac{1}{b^2}$ అని చూపండి

సాధన :

(i) $CD \perp AB$ మరియు $CD = p$
AB ని భూమి గా తీసుకుంటే

$$\begin{aligned} \Delta ABC \text{ వైశాల్యం} &= \frac{1}{2} \times AB \times CD \\ &= \frac{1}{2} \times c \times p = \frac{1}{2} cp \rightarrow (1) \end{aligned}$$

BC భూమి గా తీసుకుంటే

$$\begin{aligned} \Delta ABC \text{ వైశాల్యం} &= \frac{1}{2} \times BC \times AC \\ &= \frac{1}{2} \times a \times b = \frac{1}{2} ab \rightarrow (2) \end{aligned}$$

(1), (2) ల నుండి

$$\begin{aligned} \frac{1}{2} cp &= \frac{1}{2} ab \\ \Rightarrow cp &= ab \end{aligned}$$

(ii) In ΔABC , $\angle C = 90^\circ$

$$AB^2 = BC^2 + AC^2$$

$$c^2 = a^2 + b^2$$

$$\left(\frac{ab}{p}\right)^2 = a^2 + b^2$$

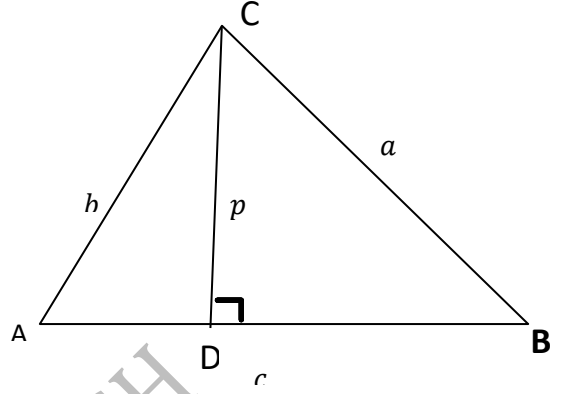
$$\frac{a^2 b^2}{p^2} = a^2 + b^2$$

$$\frac{1}{p^2} = \frac{a^2 + b^2}{a^2 b^2}$$

$$\frac{1}{p^2} = \frac{a^2}{a^2 b^2} + \frac{b^2}{a^2 b^2}$$

$$\frac{1}{p^2} = \frac{1}{b^2} + \frac{1}{a^2} \Rightarrow \frac{1}{p^2} = \frac{1}{a^2} + \frac{1}{b^2}$$

(i)నుండి $cp=ab \Rightarrow c = \frac{ab}{p}$



అభ్యాసము - 8.4

1. ఒక రాంబస్ లో భుజాల వర్గాల మొత్తము, దాని కర్ణముల వర్గముల మొత్తమునకు సమానము .

సాధన : ABCD ఒక రాంబస్

రాంబస్ లో కర్ణాలు పరస్పరం లంబ సమద్విఖండన చేసుకుంటాయి

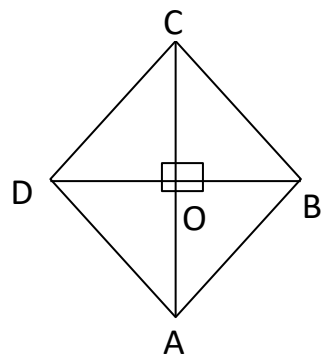
$$OA = OC = \frac{AC}{2} \text{ మరియు } OB = OD = \frac{BD}{2}$$

$$\Delta AOB \text{ లో } \angle O = 90^\circ$$

$$AB^2 = OA^2 + OB^2 \text{-----(1)}$$

అదే విధంగా

$$BC^2 = OC^2 + OB^2 \text{-----(2)}$$



$$CD^2 = OC^2 + OD^2 \text{-----}(3)$$

$$AD^2 = OA^2 + OD^2 \text{-----}(4)$$

(1)+(2)+(3)+(4) నుండి

$$\begin{aligned} AB^2 + BC^2 + CD^2 + AD^2 &= 2OA^2 + 2OB^2 + 2OC^2 + 2OD^2 \\ &= 2 \times \frac{AC^2}{4} + 2 \times \frac{BD^2}{4} + 2 \times \frac{AC^2}{4} + 2 \times \frac{BD^2}{4} \\ &= \frac{AC^2}{2} + \frac{BD^2}{2} + \frac{AC^2}{2} + \frac{BD^2}{2} \\ &= 2 \times \frac{AC^2}{2} + 2 \times \frac{BD^2}{2} \\ &= AC^2 + BD^2 \end{aligned}$$

2. లంబ కోణ త్రిభుజం ABC లో లంబకోణము శీర్షము B వద్ద కలదు . D మరియు E బిందువులు వరుసగా AB , BC లపై కలవు అనుకొనుము అయిన $AE^2 + CD^2 = AC^2 + DE^2$ అని చూపండి .

సాధన : $\triangle ABE$ లో $\angle B = 90^\circ$

$$AE^2 = AB^2 + BE^2 \rightarrow (1)$$

$\triangle DBC$ లో $\angle B = 90^\circ$

$$CD^2 = BD^2 + BC^2 \rightarrow (2)$$

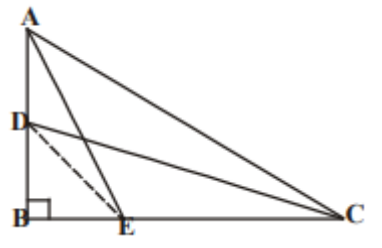
$\triangle DBE$ లో $\angle B = 90^\circ$

$$DE^2 = BD^2 + BE^2 \rightarrow (3)$$

$\triangle ABC$ లో $\angle B = 90^\circ$

$$AC^2 = AB^2 + BC^2 \rightarrow (4)$$

$$\begin{aligned} (1)+(2) \Rightarrow AE^2 + CD^2 &= AB^2 + BE^2 + BD^2 + BC^2 \\ &= (AB^2 + BC^2) + (BD^2 + BE^2) \\ &= AC^2 + DE^2 \quad ((3), (4) \text{ ల నుండి}) \end{aligned}$$



3. ఒక సమబహు త్రిభుజములో భుజము వర్గమునకు మూడు రెట్లు దాని ఉన్నతి (లంబము)వర్గమునకు నాలుగు రెట్లు అని చూపండి .

సాధన : $\triangle ABC$ ఒక సమబహు త్రిభుజము , AD దాని ఉన్నతి (లంబము).

$AB=BC=CA=a$ మరియు $AD=h$ అనుకొనుము

$\triangle ADB, \triangle ADC$ లలో
 $\angle ADB = \angle ADC = 90^\circ$ ($AD \perp BC$)

$AB = AC$

$AD = AD$ (ఉమ్మడి భుజం)

$\triangle ADB \cong \triangle ADC$ (లం. క. భు. సర్వ సమానత్వ నియమం)

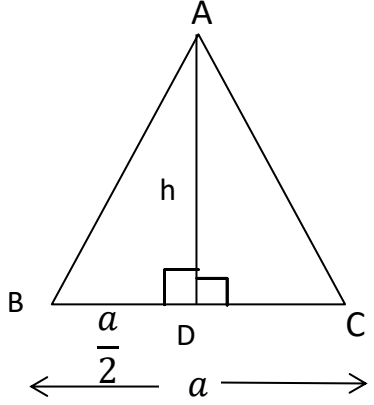
$BD = DC$ (సర్వ సమాన త్రిభుజాల సదృశ భాగాలు)

$$BD = DC = \frac{a}{2}$$

$\triangle ADB$ లో $\angle D = 90^\circ$

$$AB^2 = AD^2 + BD^2$$

$$a^2 = h^2 + \left(\frac{a}{2}\right)^2$$



$$a^2 = h^2 + \frac{a^2}{4}$$

$$4a^2 = 4h^2 + a^2$$

$$4a^2 - a^2 = 4h^2$$

$$3a^2 = 4h^2$$

4. PQR త్రిభుజంలో లంబకోణము శీర్షము P వద్ద కలదు. $PM \perp QR$ అగునట్లు QR పై బిందువు M అయిన

$$PM^2 = QM \cdot MR \text{ అని చూపండి.}$$

సాధన : ΔPQR లో $\angle P = 90^\circ$

$$PM \perp QR \Rightarrow \angle PMQ = 90^\circ \text{ మరియు } \Rightarrow \angle PMR = 90^\circ$$

ΔQPR మరియు ΔQMP లలో

$$\angle QPR = \angle QMP = 90^\circ$$

$$\angle Q = \angle Q$$

$$\Delta QPR \sim \Delta QMP \text{ (కో.కో.సరూపత నియమం)} \rightarrow (1)$$

ΔQPR మరియు ΔPMR

$$\angle QPR = \angle PMR = 90^\circ$$

$$\angle R = \angle R$$

$$\Delta QPR \sim \Delta PMR \text{ (కో.కో.సరూపత నియమం)} \rightarrow (2)$$

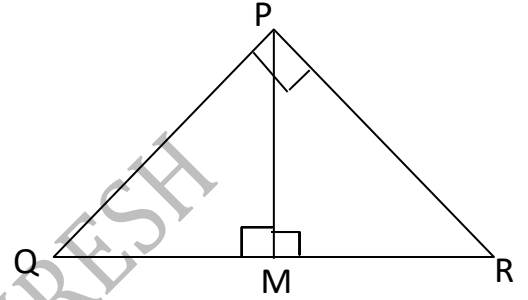
(1) మరియు (2)ల నుండి

$$\Delta QMP \sim \Delta PMR$$

$$\frac{QM}{PM} = \frac{MP}{MR} \text{ (సరూప త్రిభుజాల అనూరుప భుజాల నిష్పత్తులు సమానం)}$$

$$PM \times PM = QM \times MR$$

$$PM^2 = QM \cdot MR$$



5. త్రిభుజం ABD లో లంబకోణము A వద్ద కలదు. మరియు $AC \perp BD$ అయిన

$$(i) AB^2 = BC \cdot BD \quad (ii) AC^2 = BC \cdot DC$$

$$(iii) AD^2 = BD \cdot CD \text{ అని చూపండి}$$

సాధన : ΔDAB మరియు ΔDCA లలో

$$\angle DAB = \angle DCA = 90^\circ$$

$$\angle D = \angle D$$

$$\Delta DAB \sim \Delta DCA \text{ (కో.కో.సరూపత నియమం)} \rightarrow (1)$$

ΔDAB మరియు ΔACB

$$\angle DAB = \angle ACB = 90^\circ$$

$$\angle B = \angle B$$

$$\Delta DAB \sim \Delta ACB \text{ (కో.కో.సరూపత నియమం)} \rightarrow (2)$$

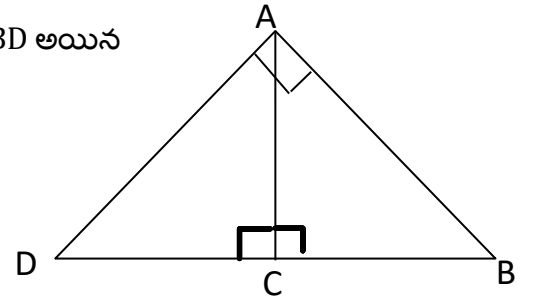
(1) మరియు (2)ల నుండి

$$\Delta DAB \sim \Delta DCA \sim \Delta ACB$$

$$(i) \Delta DAB \sim \Delta ACB$$

$$\Rightarrow \frac{AB}{BC} = \frac{BD}{AB} \Rightarrow AB^2 = BC \cdot BD$$

$$(ii) \Delta DCA \sim \Delta ACB$$



$\Delta ABC \sim \Delta PQR$ అయిన

$$\frac{AB}{PQ} = \frac{BC}{QR} = \frac{AC}{PR}$$

$$\Rightarrow \frac{AC}{BC} = \frac{DC}{AC} \Rightarrow AC^2 = BC \cdot DC$$

$$(iii) \Delta DAB \sim \Delta DCA \Rightarrow \frac{AD}{CD} = \frac{BD}{AD} \Rightarrow AD^2 = BD \cdot CD$$

6. సమద్విబాహు త్రిభుజం ABC లో లంబకోణము Cవద్ద కలదు . అయిన $AB^2 = 2AC^2$ అని చూపండి .

సాధన : ΔABC లో $\angle C = 90^\circ$ మరియు $AC = BC$

పైథాగరస్ సిద్ధాంతం నుండి

$$AB^2 = AC^2 + BC^2$$

$$AB^2 = AC^2 + AC^2 \quad (AC = BC)$$

$$AB^2 = 2AC^2$$

7. త్రిభుజం ABC అంతరంలో ఏదైనా బిందువు 'O', $OD \perp BC$, $OE \perp AC$ మరియు $OF \perp AB$ అయిన

$$(i) OA^2 + OB^2 + OC^2 - OD^2 - OE^2 - OF^2 = AF^2 + BD^2 + CE^2$$

$$(ii) AF^2 + BD^2 + CE^2 = AE^2 + CD^2 + BF^2$$

సాధన : (i) ΔAFO లో $\angle F = 90^\circ$

$$OA^2 = AF^2 + OF^2 \quad (\text{పైథాగరస్ సిద్ధాంతం})$$

$$\Rightarrow OA^2 - OF^2 = AF^2 \rightarrow (1)$$

$$\Delta BDO \text{ లో } \angle D = 90^\circ$$

$$OB^2 = BD^2 + OD^2 \quad (\text{పైథాగరస్ సిద్ధాంతం})$$

$$\Rightarrow OB^2 - OD^2 = BD^2 \rightarrow (2)$$

$$\Delta CEO \text{ లో } \angle E = 90^\circ$$

$$OC^2 = CE^2 + OE^2 \quad (\text{పైథాగరస్ సిద్ధాంతం})$$

$$\Rightarrow OC^2 - OE^2 = CE^2 \rightarrow (3)$$

$$(1) + (2) + (3)$$

$$\Rightarrow OA^2 - OF^2 + OB^2 - OD^2 + OC^2 - OE^2 = AF^2 + BD^2 + CE^2$$

$$\Rightarrow OA^2 + OB^2 + OC^2 - OD^2 - OE^2 - OF^2 = AF^2 + BD^2 + CE^2$$

$$(ii) \Delta AEO \text{ నుండి } OA^2 = AE^2 + OE^2$$

$$\Rightarrow OA^2 - OE^2 = AE^2 \rightarrow (3)$$

$$\Delta BFO \text{ నుండి } OB^2 = BF^2 + OF^2$$

$$\Rightarrow OB^2 - OF^2 = BF^2 \rightarrow (4)$$

$$\Delta CDO \text{ నుండి } OC^2 = CD^2 + OD^2$$

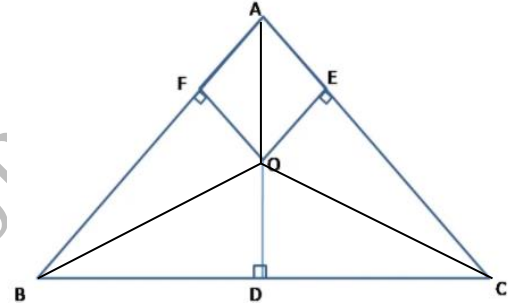
$$\Rightarrow OC^2 - OD^2 = CD^2 \rightarrow (5)$$

$$(3) + (4) + (5)$$

$$\Rightarrow OA^2 - OE^2 + OB^2 - OF^2 + OC^2 - OD^2 = AE^2 + BF^2 + CD^2$$

$$\Rightarrow OA^2 + OB^2 + OC^2 - OD^2 - OE^2 - OF^2 = AE^2 + CD^2 + BF^2$$

$$\Rightarrow AF^2 + BD^2 + CE^2 = AE^2 + CD^2 + BF^2 \quad ((i) \text{నుండి})$$



8. 18మీ పొడవు గల ఒక నిలువు స్థంబంకు 24మీ పొడవుగల ఒక తీగ కట్టబడినది. తీగ రెండవ చివరకు ఒక

మేకు కట్టబడినది. భూమి పై స్థంబం నుండి ఎంత దూరములో ఆ మేకు ను పాతిన ఆతీగ బిగుతుగా నుండును

సాధన : నిలువు స్థంబం పొడవు (AB)=18మీ

తీగ పొడవు (BC)=24మీ

$$\Delta ABC \text{ లో } \angle A = 90^\circ$$

$$AB^2 + AC^2 = BC^2 \text{ (పైథాగరస్ సిద్ధాంతం)}$$

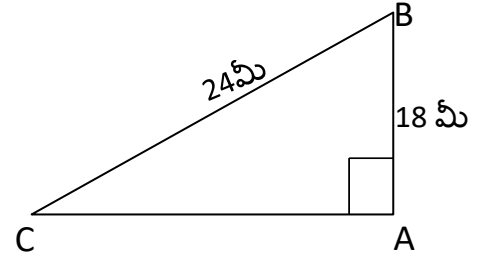
$$(18)^2 + AC^2 = (24)^2$$

$$324 + AC^2 = 576$$

$$AC^2 = 576 - 324 = 252$$

$$AC = \sqrt{252} = \sqrt{36 \times 7} = 6\sqrt{7}$$

భూమి పై స్థంబం నుండి మేకుకు గల దూరం = $6\sqrt{7}$ మీ .



9. 6మీ మరియు 11మీ పొడవుగల స్థంబాలు ఒక చదునైన నేలపై కలవు. నేల పై ఆ రెండు స్థంబాల అడుగు భాగముల మధ్య దూరము 12మీ అయిన ఆ రెండు స్థంబాల పై భాగముల మధ్య దూరము ఎంత ?

సాధన : మొదటి స్థంబం ఎత్తు (AB) = 6మీ

రెండవ స్థంబం ఎత్తు (CD) = 11మీ

రెండు స్థంబాల అడుగు భాగముల మధ్య దూరము (AC) = 12మీ

BE || AC అనుకొనుము

BE = AC = 12మీ ; AB = CE = 6మీ

DE = 11 - 6 = 5మీ

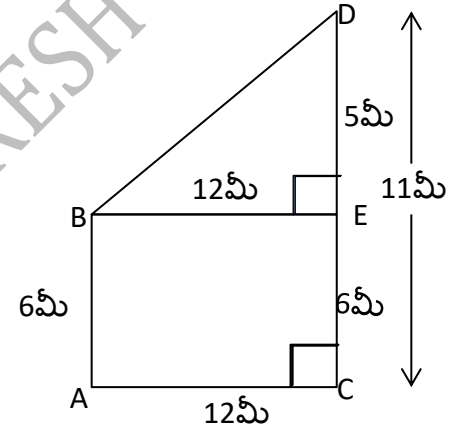
ΔBED లో $\angle E = 90^\circ$

$$BD^2 = BE^2 + DE^2 \text{ (పైథాగరస్ సిద్ధాంతం)}$$

$$BD^2 = (12)^2 + (5)^2 = 144 + 25 = 169$$

$$BD = \sqrt{169} = 13$$

ఆ రెండు స్థంబాల పై భాగముల మధ్య దూరము = 13మీ



10. సమబాహు త్రిభుజం ABCలో, భుజం BC పై బిందువు D ఇంకా $BD = \frac{1}{3}BC$ అయిన $9AD^2 = 7AB^2$ అని చూపండి.

సాధన : ΔABC ఒక సమబాహు త్రిభుజము $\Rightarrow AB = BC = AC$

$$BD = \frac{1}{3}BC$$

AE \perp BC అనుకొనుము

$$\Rightarrow BE = CE = \frac{1}{2}BC$$

$$DE = BE - BD = \frac{1}{2}BC - \frac{1}{3}BC = \frac{1}{6}BC = \frac{1}{6}AB$$

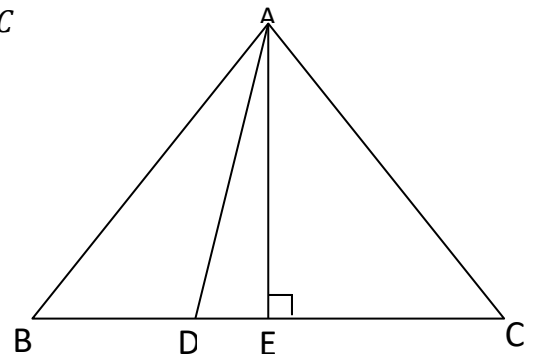
$$\Rightarrow DE^2 = \frac{1}{36}AB^2$$

ΔAEC లో $\angle E = 90^\circ$

$$AE^2 + CE^2 = AC^2 \text{ (పైథాగరస్ సిద్ధాంతం)}$$

$$\Rightarrow AE^2 = AC^2 - CE^2$$

$$\Rightarrow AE^2 = AB^2 - \left(\frac{1}{2}AB\right)^2 \text{ (} AB = BC = AC \text{)}$$



$$\Rightarrow AE^2 = AB^2 - \frac{1}{4}AB^2 = \frac{3}{4}AB^2$$

$$\Delta AED \text{ లో } \angle E = 90^\circ$$

$$AD^2 = AE^2 + DE^2 \text{ (పైథాగరస్ సిద్ధాంతం)}$$

$$= \frac{3}{4}AB^2 + \frac{1}{36}AB^2 = \frac{27+1}{36}AB^2 = \frac{28}{36}AB^2 = \frac{7}{9}AB^2$$

$$AD^2 = \frac{7}{9}AB^2$$

$$9AD^2 = 7AB^2$$

11. ఇచ్చిన పటంలో ΔABC ఒక లంబకోణ త్రిభుజము. శీర్షము B వద్ద లంబకోణము కలదు .BC భుజాన్ని D మరియు E బిందువులు సమత్రిఖండన చేయును అయిన $8AE^2 = 3AC^2 + 5AD^2$ అని చూపండి

సాధన : ΔABC లో $\angle B = 90^\circ$ మరియు $BD = DE = EC = \frac{1}{3}BC$

$$BD = DE = EC = x \text{ అనుకొనుము } \Rightarrow BE = 2x, BC = 3x$$

$$\Delta ABC \text{ లో } \angle B = 90^\circ$$

$$AC^2 = AB^2 + BC^2 \text{ (పైథాగరస్ సిద్ధాంతం)}$$

$$\Delta ABD \text{ లో } \angle B = 90^\circ$$

$$AD^2 = AB^2 + BD^2 \text{ (పైథాగరస్ సిద్ధాంతం)}$$

$$\Delta ABE \text{ లో } \angle B = 90^\circ$$

$$AE^2 = AB^2 + BE^2 = AB^2 + 4x^2$$

$$3AC^2 + 5AD^2 = 3(AB^2 + BC^2) + 5(AB^2 + BD^2)$$

$$= 3AB^2 + 3BC^2 + 5AB^2 + 5BD^2$$

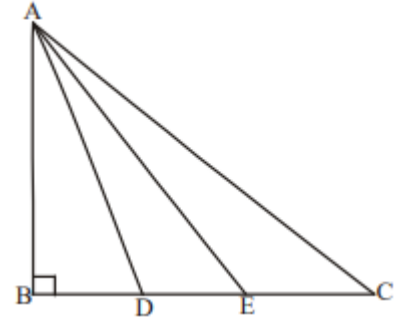
$$= 8AB^2 + 3BC^2 + 5BD^2$$

$$= 8AB^2 + 3(3x)^2 + 5(x)^2$$

$$= 8AB^2 + 3 \times 9x^2 + 5x^2$$

$$= 8AB^2 + 27x^2 + 5x^2$$

$$= 8AB^2 + 32x^2 = 8(AB^2 + 4x^2) = AE^2$$



12. సమద్విభాహ త్రిభుజం ABC లో, లంబకోణము 'B' వద్ద కలదు . AC మరియు AB భుజాల పై సమబహు త్రిభుజాలు ACD మరియు ABE నిర్మింపబడినవి . అయిన ΔABE మరియు ΔACD ల వైశాల్యాల నిష్పత్తిని కనుగొనుము.

సాధన : ABC ఒక సమద్విభాహ త్రిభుజం, $\angle B = 90^\circ$

$$AC^2 = AB^2 + BC^2$$

$$AC^2 = AB^2 + AB^2$$

$$AC^2 = 2AB^2 \rightarrow (1)$$

$$\Delta ABE \sim \Delta ACD \text{ (భు. భు. భు. సరూపత నియమం)}$$

రెండు సరూప త్రిభుజాల వైశాల్యాల నిష్పత్తి వాటి అనూరూప భుజాల వర్గాల నిష్పత్తికి సమానం

$$\frac{(\Delta ABE) \text{ వైశాల్యం}}{(\Delta ACD) \text{ వైశాల్యం}} = \frac{AB^2}{AC^2} = \frac{AB^2}{2AB^2} = \frac{1}{2}$$

$$\Delta ABE \text{ మరియు } \Delta ACD \text{ ల వైశాల్యాల నిష్పత్తి} = 1:2$$

