

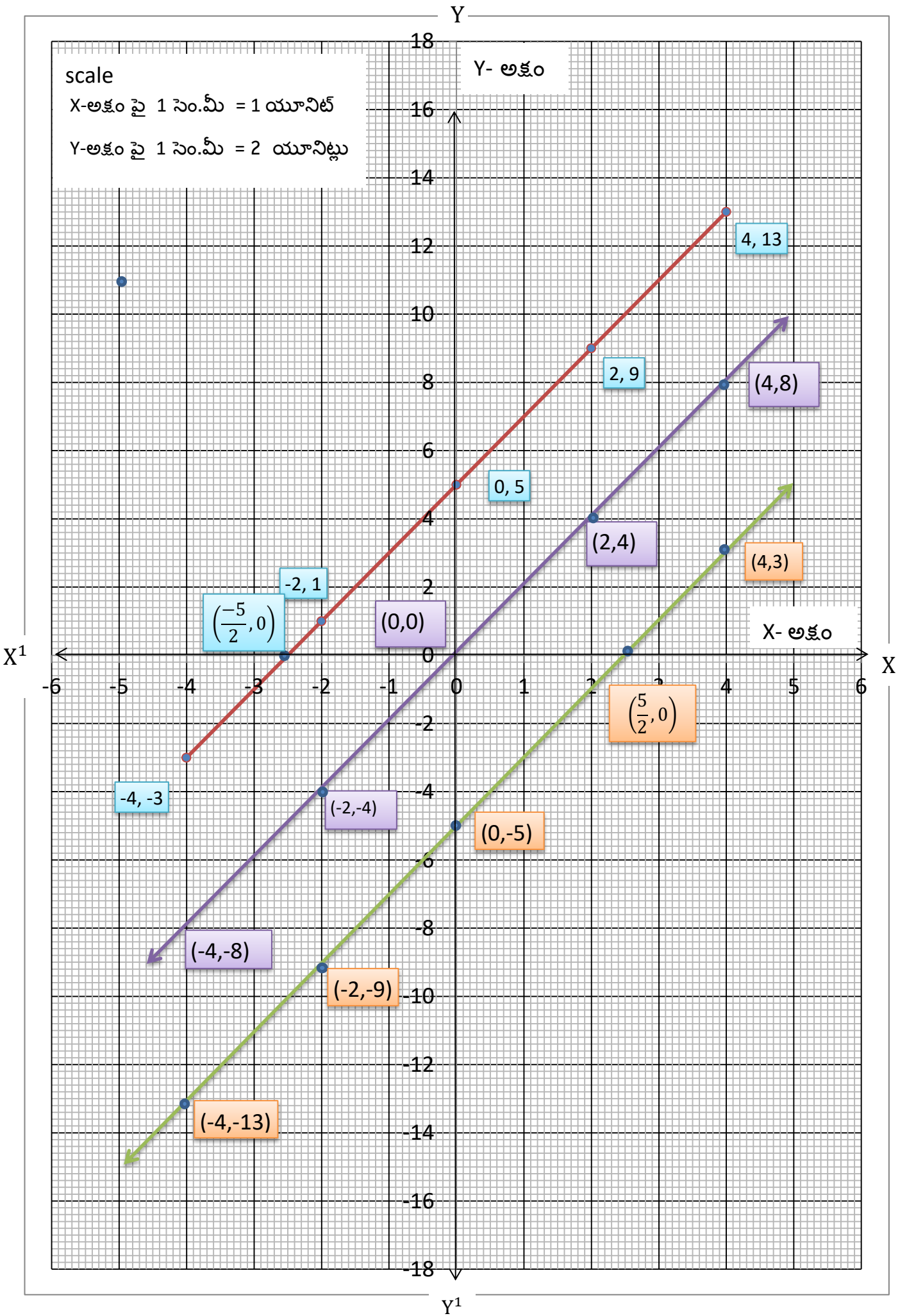
బహుపదులు -GRAPHS

అధ్యాయము

3

Prepared By: బలభద్ర సురేష్

1. $y = ax + b(a \neq 0)$ రేఖీయ బహుపది రేఖాచిత్రం ఒక సరళరేఖ . ఈ రేఖాచిత్రం X-అక్షం ను ఖచ్చితంగా ఒకే బిందువు $\left(\frac{-b}{a}, 0\right)$ వద్ద ఖండిస్తుంది .
2. ఒక బహుపది రేఖాచిత్రం X-అక్షం ను ఖండించే బిందువుల x- నిరూపకాలు ఆ బహుపదికి శూన్యాలు అవుతాయి .
3. $ax + b(a \neq 0)$ యొక్క శూన్య విలువ $= \frac{-b}{a}$.
4. $a > 0$ అయినచో $y = ax^2 + bx + c(a \neq 0)$ యొక్క రేఖాచిత్రం \cup ఆకారంలో ఉంటుంది . $a < 0$ అయినచో $y = ax^2 + bx + c(a \neq 0)$ యొక్క రేఖాచిత్రం \cap ఆకారంలో ఉంటుంది .
5. $y = ax^2 + bx + c(a \neq 0)$ యొక్క రేఖాచిత్రం ను పరావలయం అందురు .
6. $y = ax^2 + bx + c(a \neq 0)$ రేఖాచిత్రం X-అక్షం ను $(\alpha, 0)$ మరియు $(\beta, 0)$ అనే రెండు వేరు వేరు బిందువుల వద్ద ఖండిస్తే $ax^2 + bx + c$ యొక్క బహుపది శూన్యాలు α, β లు అవుతాయి
7. $y = ax^2 + bx + c(a \neq 0)$ రేఖాచిత్రం X-అక్షం ను ఒకే ఒక బిందువు $(\alpha, 0)$ వద్ద తాకుతుంటే $ax^2 + bx + c$ యొక్క బహుపదికి ఒకే ఒక శూన్యం α అవుతుంది .
8. $y = ax^2 + bx + c(a \neq 0)$ రేఖాచిత్రం X-అక్షం ను ఖండించ కుండా ,తాకకుండా ఉంటే $ax^2 + bx + c$ బహుపదికి వాస్తవ శూన్యాలు ఉండవు .
9. రేఖీయ బహుపదికి ఒకే ఒక శూన్యం ఉంటుంది .
10. వర్గ బహుపదికి అత్యధికంగా(గరిష్టంగా) రెండు శూన్యాలు మాత్రమే ఉంటాయి .
11. ఘన బహుపదికి అత్యధికంగా(గరిష్టంగా) మూడు శూన్యాలు మాత్రమే ఉంటాయి





ఇవి చేయండి

(i) $y = 2x + 5$, (ii) $y = 2x - 5$, (iii) $y = 2x$ అను సమీకరణాలకు రేఖాచిత్రాలు గీయండి. ఈ రేఖలు x -అక్షాన్ని ఖండించే బిందువులు కనుగొనండి. వీటి x - నిరూపకాలు సంబంధిత బహుపదుల శూన్యవిలువలేనా?

(i). $y = 2x + 5 = p(x)$

x	-4	-2	0	2	4
$2x$	-8	-4	0	4	8
5	5	5	5	5	5
$y = 2x + 5$	-3	1	5	9	13
(x, y)	$(-4, -3)$	$(-2, 1)$	$(0, 5)$	$(2, 9)$	$(4, 13)$

$y = 2x + 5$ యొక్క రేఖాచిత్రం X - అక్షం ను ఖండించే బిందువు $\left(\frac{-5}{2}, 0\right)$.

ఖండన బిందువు యొక్క x - నిరూపకం $= \frac{-5}{2}$

$$p\left(\frac{-5}{2}\right) = 2 \times \left(\frac{-5}{2}\right) + 5 = -5 + 5 = 0$$

$\frac{-5}{2}$ అనేది $y = 2x + 5$ యొక్క శూన్యవిలువ అవుతుంది

(ii). $y = 2x - 5 = p(x)$

x	-4	-2	0	2	4
$2x$	-8	-4	0	4	8
-5	-5	-5	-5	-5	-5
$y = 2x - 5$	-13	-9	-5	-1	3
(x, y)	$(-4, -13)$	$(-2, -9)$	$(0, -5)$	$(2, -1)$	$(4, 3)$

$y = 2x - 5$ యొక్క రేఖాచిత్రం X - అక్షం ను ఖండించే బిందువు $\left(\frac{5}{2}, 0\right)$.

ఖండన బిందువు యొక్క x - నిరూపకం $= \frac{5}{2}$

$$p\left(\frac{5}{2}\right) = 2 \times \left(\frac{5}{2}\right) - 5 = 5 - 5 = 0$$

$\frac{5}{2}$ అనేది $y = 2x - 5$ యొక్క శూన్యవిలువ అవుతుంది.

(iii). $y = 2x = p(x)$

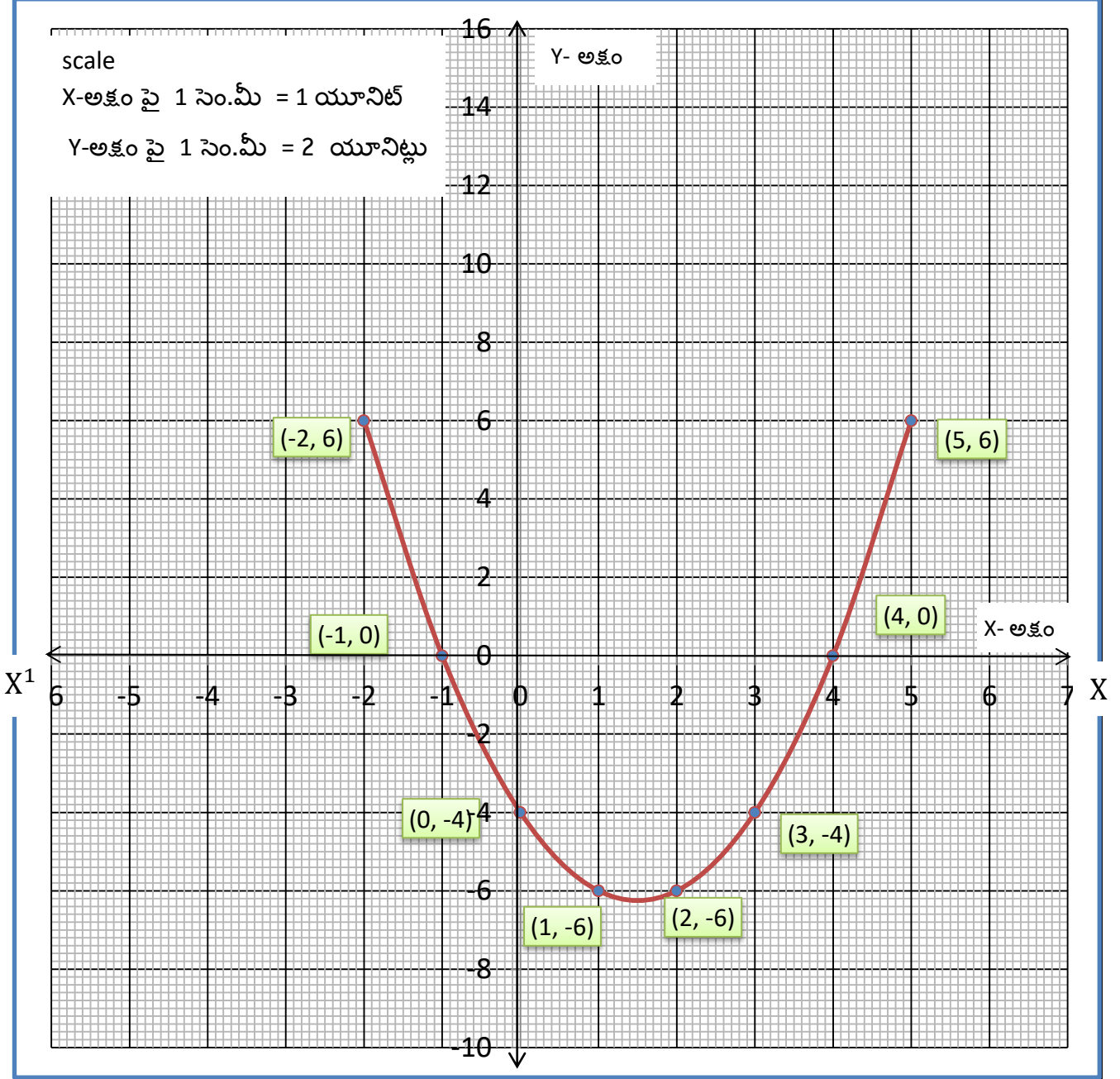
x	-4	-2	0	2	4
$y = 2x$	-8	-4	0	4	8
(x, y)	$(-4, -8)$	$(-2, -4)$	$(0, 0)$	$(2, 4)$	$(4, 8)$

$y = 2$ రేఖాచిత్రం X - అక్షం ను ఖండించే బిందువు $(0, 0)$. దీని x - నిరూపకం $= 0$

$$p(0) = 2 \times (0) = 0$$

0 అనేది $y = 2x$ యొక్క శూన్యవిలువ అవుతుంది .

Y



Y¹

ఉదాహరణ : $P(x) = x^2 - 3x - 4$ వర్గ బహుపది రేఖా చిత్రం గీచి శూన్యాలు కనుగొనండి . ఫలితాన్ని సరి చూడండి .

సాధన : $P(x) = x^2 - 3x - 4 = y$

x	-2	-1	0	1	2	3	4	5
x^2	4	1	0	1	4	9	16	25
$-3x$	6	3	0	-3	-6	-9	-12	-15
-4	-4	-4	-4	-4	-4	-4	-4	-4
$y = x^2 - 3x - 4$	6	0	-4	-6	-6	-4	0	6
(x, y)	(-2,6)	(-1,0)	(0,-4)	(1,-6)	(2,-6)	(3,-4)	(4,0)	(5,6)

$y = x^2 - 3x - 4$ రేఖాచిత్రం X-అక్షం ను ఖండించే బిందువులు (-1,0) మరియు (4,0).

$P(x) = x^2 - 3x - 4$ బహుపది యొక్క శూన్యాలు -1 మరియు 4.

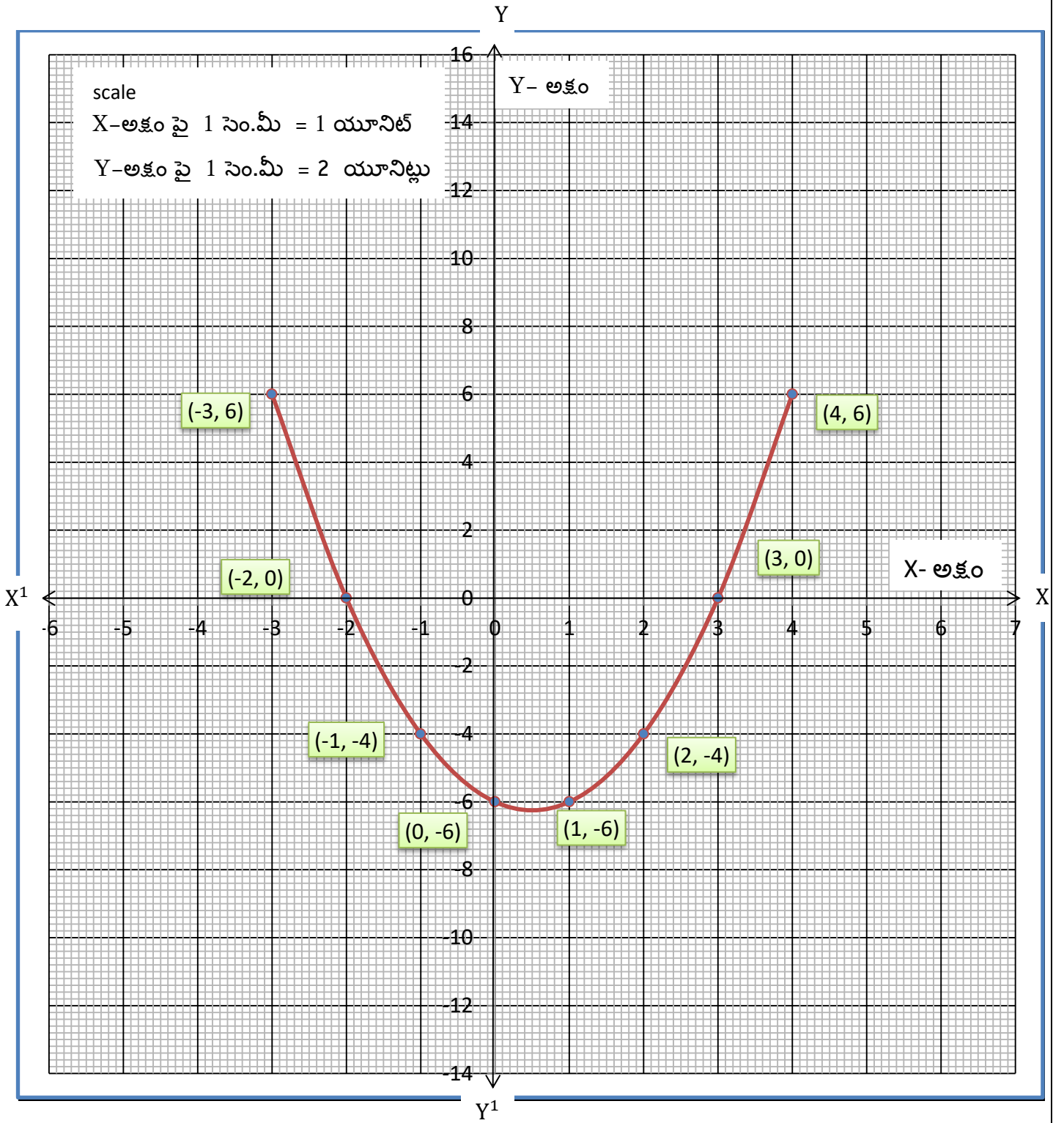
సరిచూచుట : $P(x) = x^2 - 3x - 4$

$$\begin{aligned}
 P(-1) &= (-1)^2 - 3(-1) - 4 \\
 &= 1 + 3 - 4 \\
 &= 4 - 4 \\
 &= 0
 \end{aligned}$$

$$\begin{aligned}
 P(4) &= 4^2 - 3 \times 4 - 4 \\
 &= 16 - 12 - 4 \\
 &= 16 - 16 \\
 &= 0
 \end{aligned}$$

$$P(-1) = 0 \text{ మరియు } P(4) = 0$$

\therefore -1 మరియు 4 లు వర్గ బహుపది $P(x) = x^2 - 3x - 4$ యొక్క శూన్యాలు అవుతాయి



TRY THIS:(Page-53):

(i) $y = x^2 - x - 6$ యొక్క రేఖాచిత్రం గీయండి . బహుపది శూన్యాలు కనుగొనండి . మీరు ఏమి గమనించారు ?

సాధన : $p(x) = x^2 - x - 6 = y$

x	-3	-2	-1	-0	1	2	3	4
x^2	9	4	1	0	1	4	9	16
$-x$	3	2	1	0	-1	-2	-3	-4
-6	-6	-6	-6	-6	-6	-6	-6	-6
$y = x^2 - x - 6$	6	0	-4	-6	-6	-4	0	6
(x, y)	(-3,6)	(-2,0)	(-1,-4)	(0,-6)	(1,-6)	(2,-4)	(3,0)	(4,6)

$y = x^2 - x - 6$ రేఖాచిత్రం X-అక్షంను ఖండించే బిందువులు (-2,0) మరియు (3,0).

$p(x) = x^2 - x - 6$ వర్గ బహుపది యొక్క శూన్యాలు -2 మరియు 3

సరి చూచుట : $P(x) = x^2 - x - 6$

$$\begin{aligned} P(-2) &= (-2)^2 - (-2) - 6 \\ &= 4 + 2 - 6 \\ &= 6 - 6 \\ &= 0 \end{aligned}$$

$$\begin{aligned} P(3) &= 3^2 - 3 - 6 \\ &= 9 - 3 - 6 \\ &= 9 - 9 \\ &= 0 \end{aligned}$$

$$P(-2) = 0 \text{ మరియు } P(3) = 0$$

$\therefore -2$ మరియు 3 లు వర్గ బహుపది $P(x) = x^2 - x - 6$ యొక్క శూన్యాలు అవుతాయి

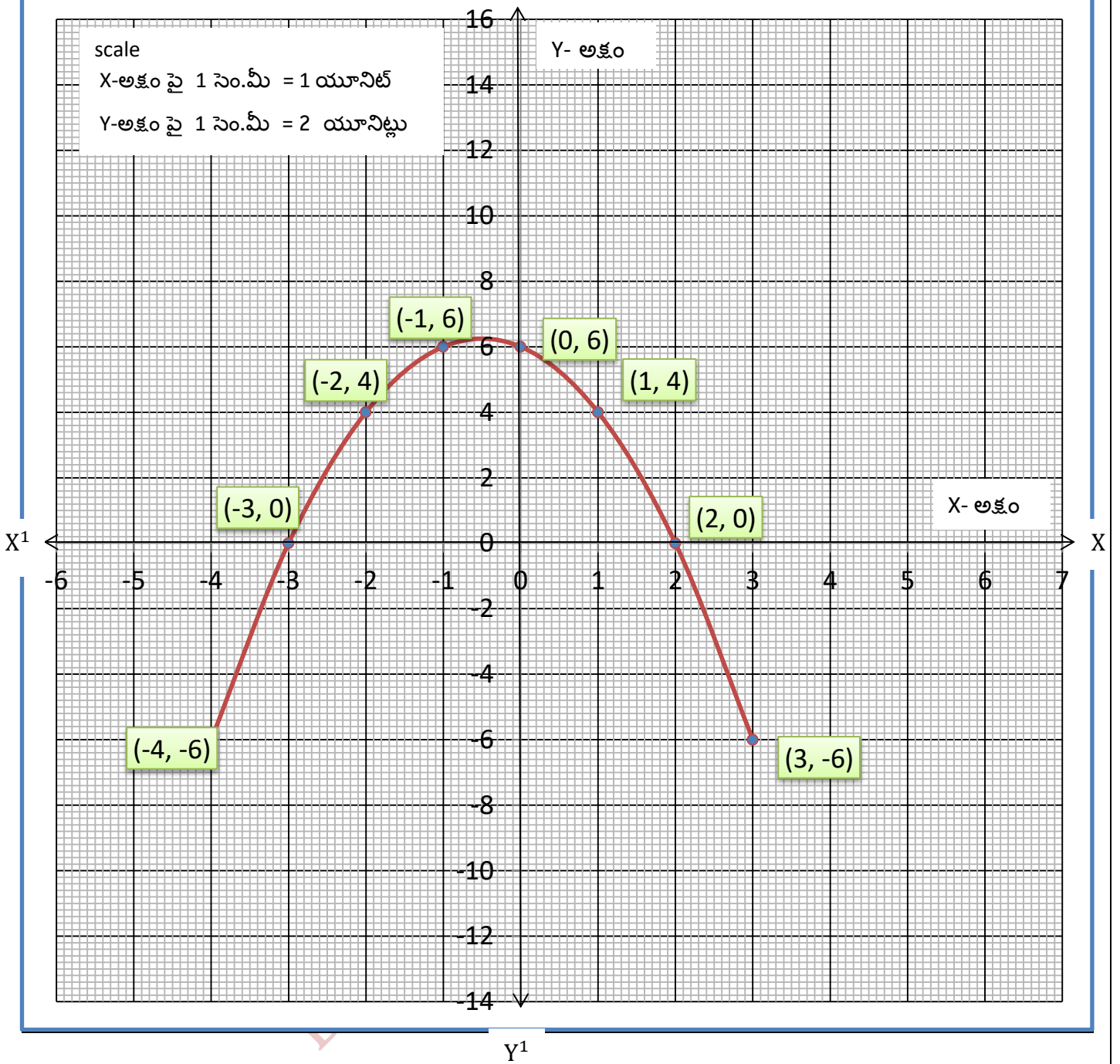
గమనించిన విషయం : $a > 0$ అయినప్పుడు $p(x) = ax^2 + bx + c$ యొక్క రేఖాచిత్రం \cup ఆకారంలో పై వైపుకు ఉంటుంది .

scale

X-అక్షం పై 1 సెం.మీ = 1 యూనిట్

Y-అక్షం పై 1 సెం.మీ = 2 యూనిట్లు

Y- అక్షం



(ii) $y = 6 - x - x^2$ యొక్క రేఖాచిత్రం గీయండి . బహుపది శూన్యాలు కనుగొనండి . మీరు ఏమి గమనించారు ?

సాధన : $p(x) = 6 - x - x^2 = -x^2 - x + 6 = y$

x	-4	-3	-2	-1	-0	1	2	3
$-x^2$	-16	-9	-4	-1	0	-1	-4	-9
$-x$	4	3	2	1	0	-1	-2	-3
6	6	6	6	6	6	6	6	6
$y = 6 - x - x^2$	-6	0	4	6	6	4	0	-6
(x, y)	(4, -6)	(-3, 0)	(-2, 4)	(-1, 6)	(0, 6)	(1, 4)	(2, 0)	(3, -6)

$y = 6 - x - x^2$ యొక్క రేఖాచిత్రం X-అక్షం ను (-3,0) మరియు (2,0) ల వద్ద ఖండించినది

$P(x) = 6 - x - x^2$ వర్గ బహుపది యొక్క శూన్యాలు -3 మరియు 2


సరిచూచుట : $P(x) = 6 - x - x^2$

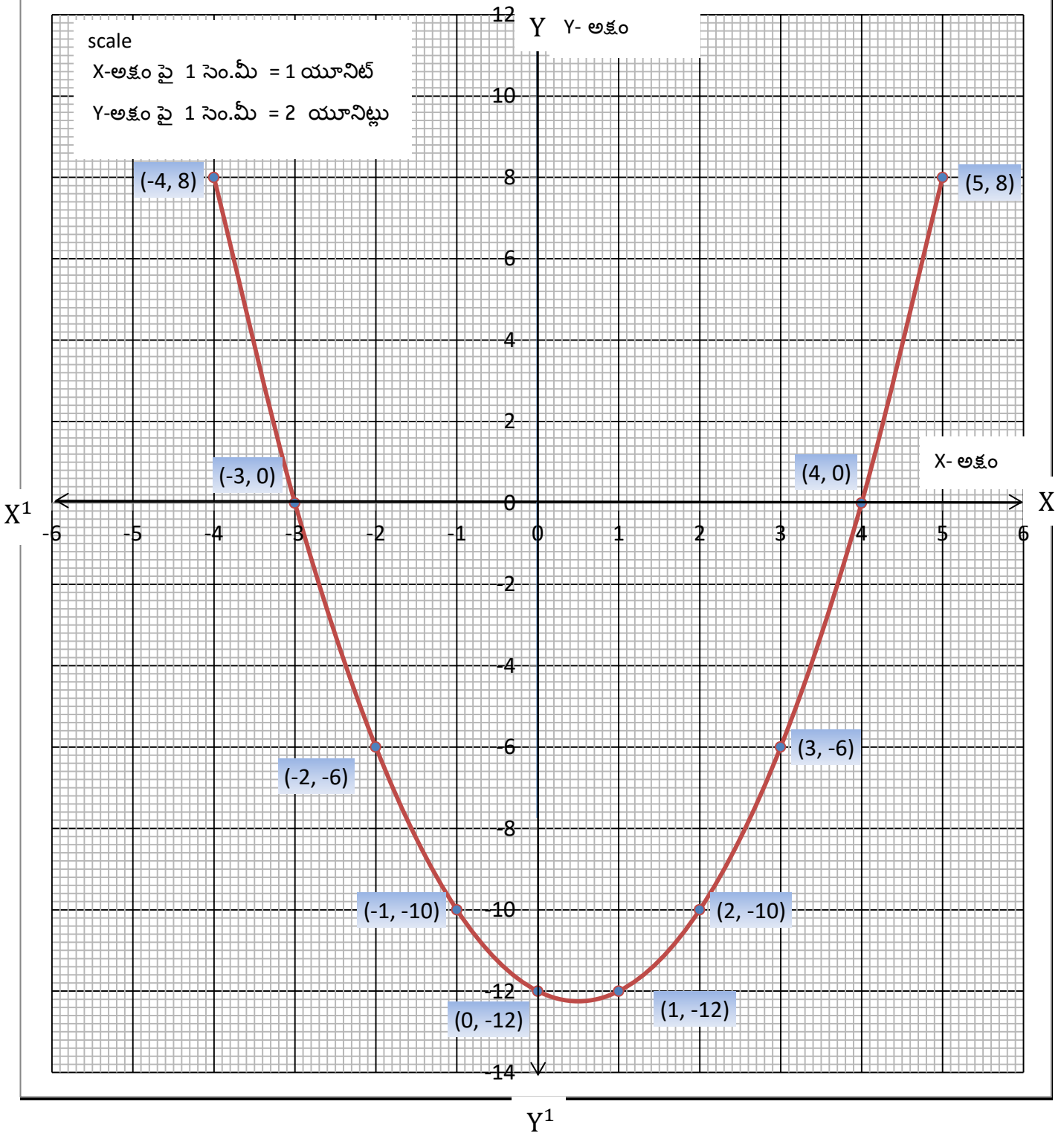
$$\begin{aligned} P(-3) &= 6 - (-3) - (-3)^2 \\ &= 6 + 3 - 9 \\ &= 9 - 9 \\ &= 0 \end{aligned}$$

$$\begin{aligned} P(2) &= 6 - 2 - 2^2 \\ &= 6 - 2 - 4 \\ &= 6 - 6 \\ &= 0 \end{aligned}$$

$$P(-3) = 0 \text{ మరియు } P(2) = 0$$

$\therefore -3$ మరియు 2 లు $P(x) = 6 - x - x^2$ బహుపది యొక్క శూన్యాలు అగును

గమనించిన విషయం : $a < 0$ అయినపుడు $p(x) = ax^2 + bx + c$ యొక్క రేఖాచిత్రం  ఆకారంలో కింది వైపుకు ఉంటుంది .





EXERCISE – 3.2

3. (i) $p(x) = x^2 - x - 12$ బహుపది యొక్క రేఖాచిత్రం గీయండి . శూన్యాలు కనుగొనండి . ఫలితాన్ని సమర్థించండి.

సాధన : $P(x) = x^2 - x - 12 = y$

x	-4	-3	-2	-1	0	1	2	3	4
x^2	16	9	4	1	0	1	4	9	16
$-x$	4	3	2	1	0	-1	-2	-3	-4
-12	-12	-12	-12	-12	-12	-12	-12	-12	-12
$y = x^2 - x - 12$	0	0	-6	-10	-12	-12	-10	-6	0
(x, y)	(-4,8)	(-3,0)	(-2,-6)	(-1,-10)	(0,-12)	(1,-12)	(2,-10)	(3,-6)	(4,0)

$y = x^2 - x - 12$ రేఖాచిత్రం X- అక్షం ను (-3,0) మరియు (4,0)ల వద్ద ఖండించినది .

$P(x) = x^2 - x - 12$ బహుపది యొక్క శూన్యాలు -3 మరియు 4.

సమర్థించడం :- $P(x) = x^2 - x - 12$

$$P(-3) = (-3)^2 - (-3) - 12$$

$$= 9 + 3 - 12$$

$$= 12 - 12 = 0$$

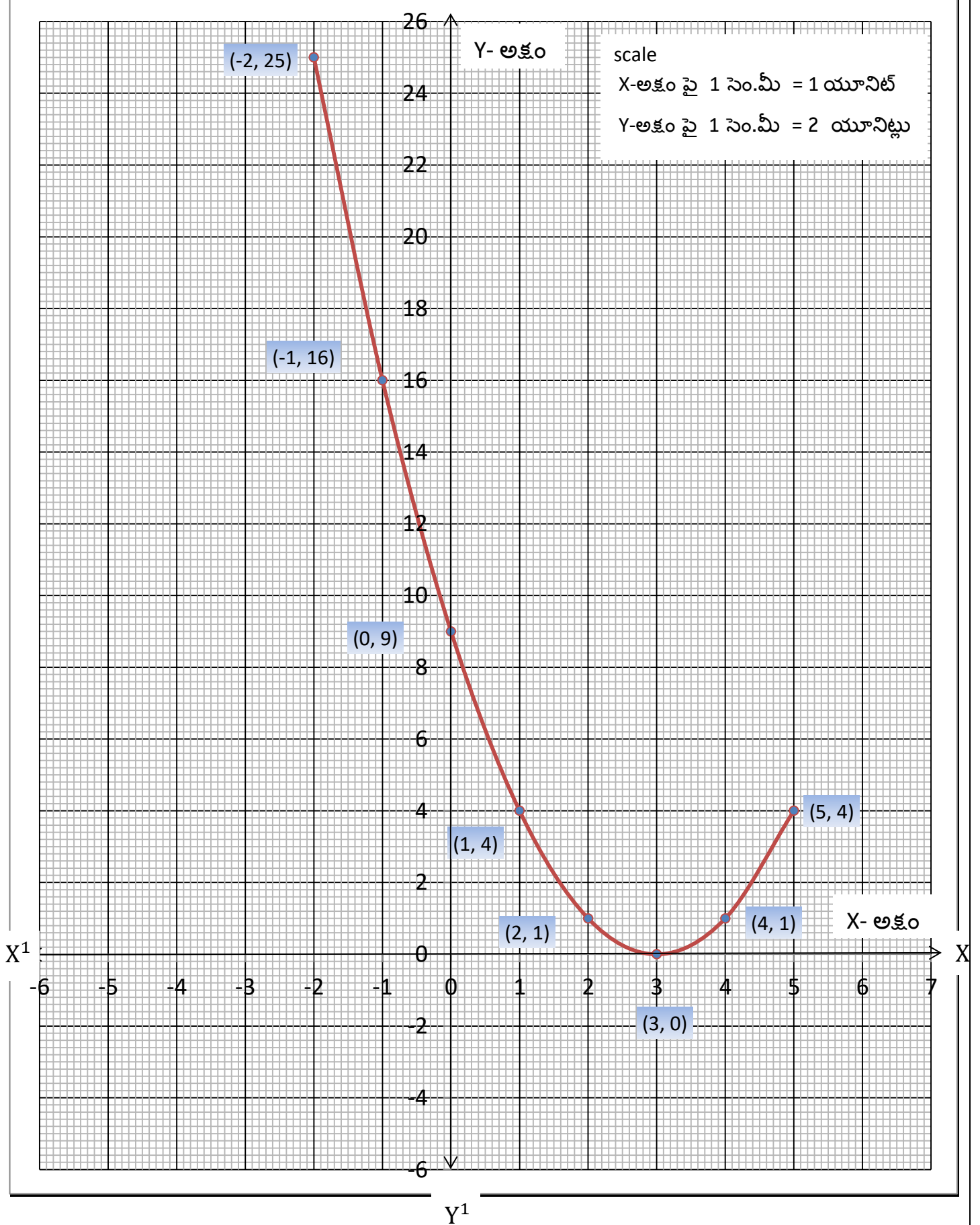
$$P(-3) = 0 \quad \text{మరియు} \quad P(4) = 0$$

$$P(4) = (4)^2 - 4 - 12$$

$$= 16 - 16$$

$$= 0$$

\therefore -3 మరియు 4 లు $P(x) = x^2 - x - 12$ బహుపది యొక్క శూన్యాలు అవుతాయి .



(ii) $p(x) = x^2 - 6x + 9$ యొక్క రేఖాచిత్రం గీయండి . బహుపది శూన్యాలు కనుగొనండి . ఫలితాన్ని సమర్థించండి.

సాధన : $P(x) = x^2 - 6x + 9 = y$

x	-2	-1	0	1	2	3	4	5
x^2	4	1	0	1	4	9	16	25
$-6x$	12	6	0	-6	-12	-18	-24	-30
9	9	9	9	9	9	9	9	9
$y = x^2 - 6x + 9$	25	16	9	4	1	0	1	4
(x, y)	(-2,25)	(-1,16)	(0,9)	(1,4)	(2,1)	(3,0)	(4,1)	(5,4)

$y = x^2 - 6x + 9$ యొక్క రేఖాచిత్రం X-అక్షం ను (3,0) వద్ద తాకుచున్నది .

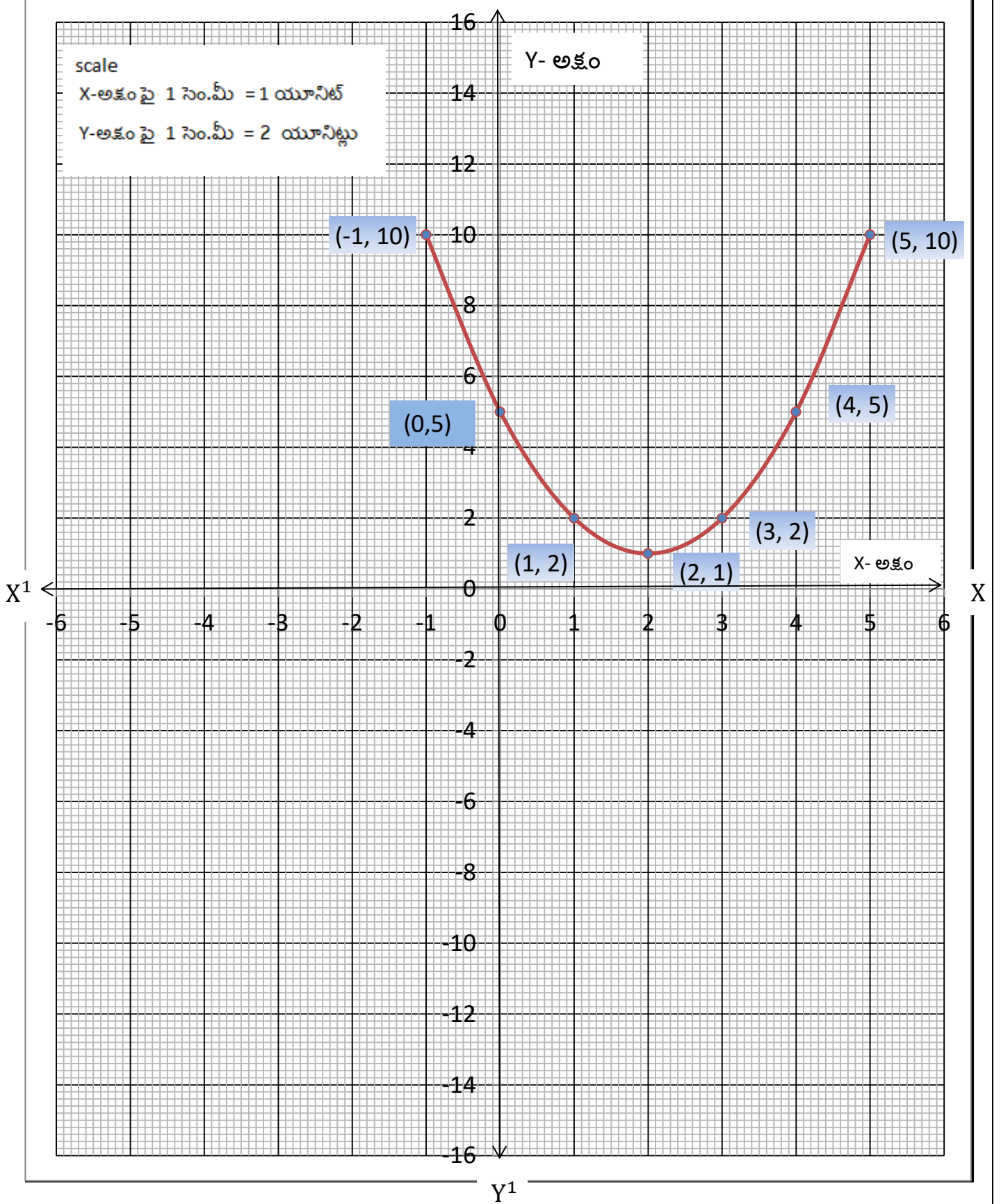
$P(x) = x^2 - 6x + 9$ బహుపది యొక్క శూన్యం 3.

సమర్థించడం: $P(x) = x^2 - 6x + 9$

$$\begin{aligned} P(3) &= 3^2 - 6 \times 3 + 9 \\ &= 9 - 18 + 9 \\ &= 18 - 18 = 0 \end{aligned}$$

3 అనేది $P(x) = x^2 - 6x + 9$ బహుపది యొక్క శూన్యం అవుతుంది .

BALABHADRA SURESH



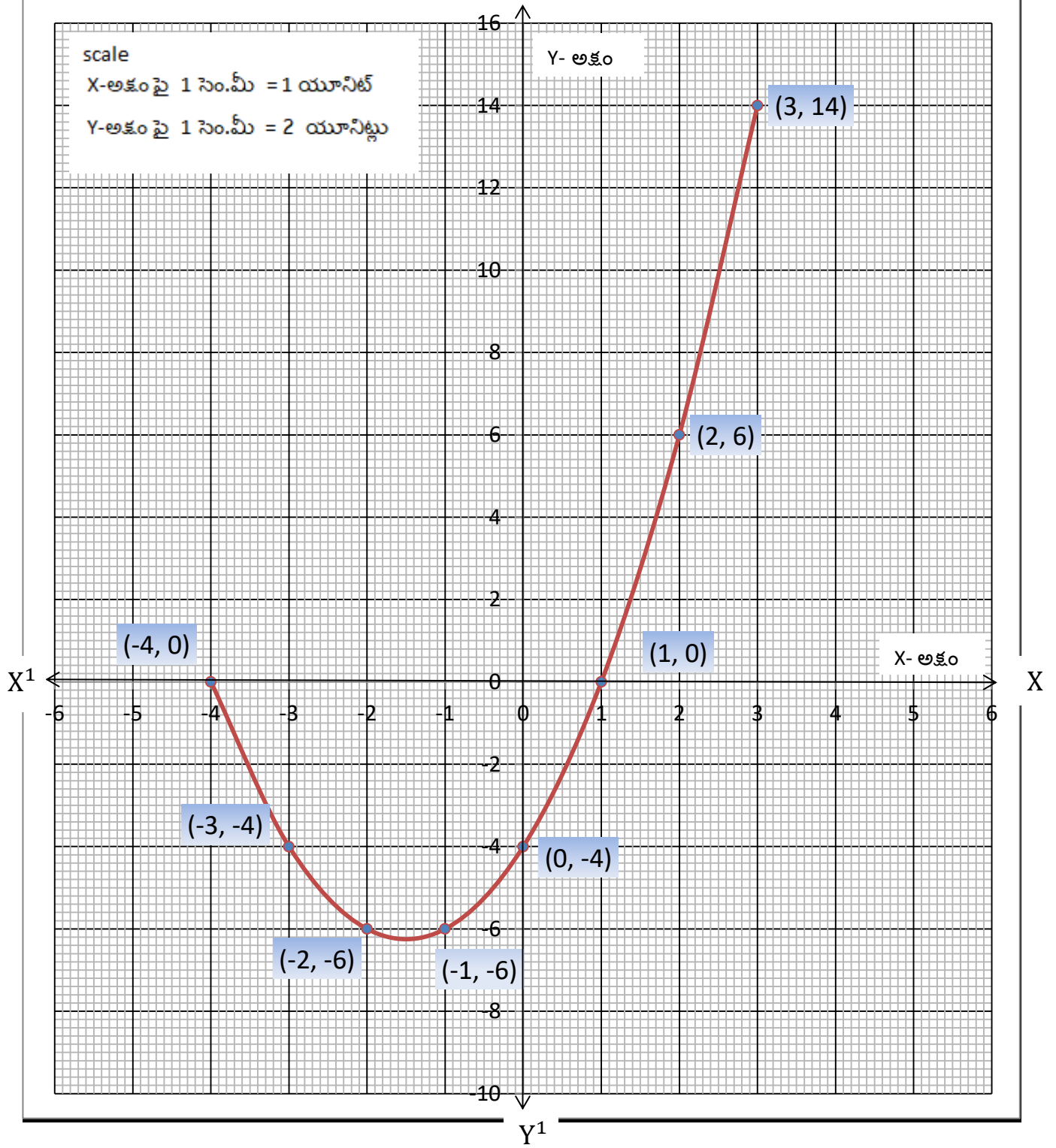
(iii) $p(x) = x^2 - 4x + 5$ యొక్క రేఖాచిత్రం గీయండి . బహుపది శూన్యాలు కనుగొనండి . ఫలితాన్ని సమర్థించండి

సాధన : $P(x) = x^2 - 4x + 5 = y$

x	-2	-1	0	1	2	3	4
x^2	4	1	0	1	4	9	16
$-4x$	8	4	0	-4	-8	-12	-16
5	5	5	5	5	5	5	5
$y = x^2 - 4x + 5$	17	10	5	2	1	2	5
(x, y)	(-2,17)	(-1,10)	(0,5)	(1,2)	(2,1)	(3,3)	(4,5)

$y = x^2 - 4x + 5$ యొక్క రేఖాచిత్రం X- అక్షం ను ఖండించుట లేదు ,తాకుట లేదు .

$P(x) = x^2 - 4x + 5$ బహుపదికి వాస్తవ శూన్యాలు లేవు .



(iv) $p(x) = x^2 + 3x - 4$ యొక్క రేఖాచిత్రం గీయండి . బహుపది శూన్యాలు కనుగొనండి . ఫలితాన్ని సమర్థించండి

సాధన : $P(x) = x^2 + 3x - 4 = y$

x	-4	-3	-2	-1	0	1	2	3
x^2	16	9	4	1	0	1	4	9
$3x$	-12	-9	-6	-3	0	3	6	9
-4	-4	-4	-4	-4	-4	-4	-4	-4
$y = x^2 + 3x - 4$	0	-4	-6	-6	-4	0	6	14
(x, y)	(-4,0)	(-3,-4)	(-2,-6)	(-1,-6)	(0,-4)	(1,0)	(2,6)	(3,14)

$y = x^2 + 3x - 4$ యొక్క రేఖాచిత్రం X- అక్షం ను (-4,0) మరియు (1,0) ల వద్ద ఖండించినది .

$P(x) = x^2 + 3x - 4$ బహుపది యొక్క శూన్యాలు -4 మరియు 1.

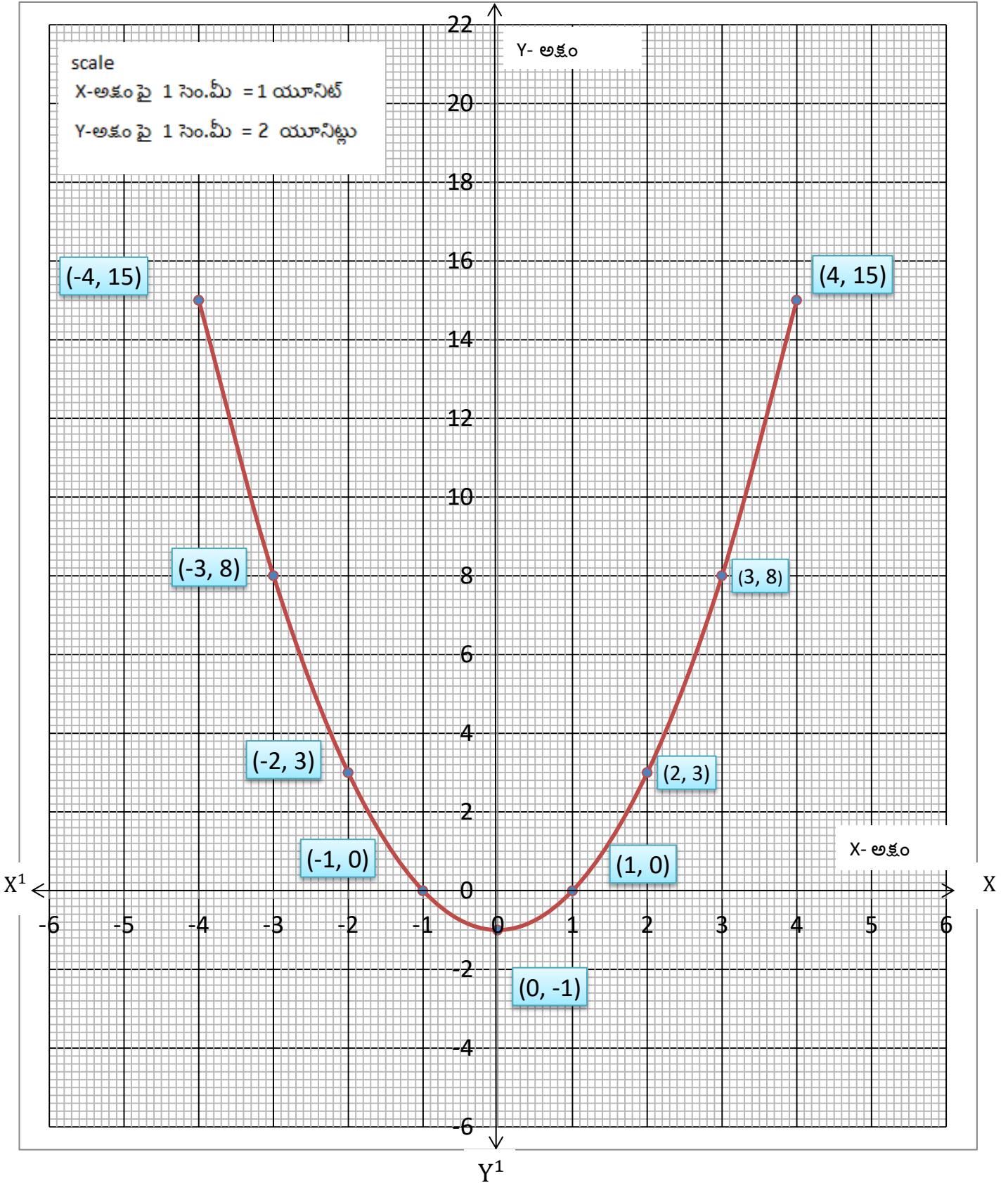
సమర్థించడం :- $P(x) = x^2 + 3x - 4$

$$\begin{aligned} P(-4) &= (-4)^2 + 3(-4) - 4 \\ &= 16 - 12 - 4 \\ &= 16 - 16 \\ &= 0 \end{aligned}$$

$$\begin{aligned} P(1) &= (1)^2 + 3 \times 1 - 4 \\ &= 1 + 3 - 4 \\ &= 4 - 4 \\ &= 0 \end{aligned}$$

$P(-4) = 0$ మరియు $P(1) = 0$

\therefore -4 మరియు 1లు $P(x) = x^2 + 3x - 4$ బహుపది యొక్క శూన్యాలు అవుతాయి .



(v) $P(x) = x^2 - 1$ యొక్క రేఖాచిత్రం గీయండి . బహుపది శూన్యాలు కనుగొనండి . ఫలితాన్ని సమర్థించండి

సాధన : $P(x) = x^2 - 1 = y$

x	-4	-3	-2	-1	0	1	2	3	4
x^2	16	9	4	1	0	1	4	9	16
-1	-1	-1	-1	-1	-1	-1	-1	-1	-1
$y = x^2 - 1$	15	8	3	0	-1	0	3	8	15
(x, y)	(-4,15)	(-3,8)	(-2,3)	(-1,0)	(0,-1)	(1,0)	(2,3)	(3,8)	(4,15)

$y = x^2 - 1$ యొక్క రేఖాచిత్రం X- అక్షం ను $(-1,0)$ మరియు $(1,0)$ ల వద్ద ఖండించినది .

$P(x) = x^2 - 1$ బహుపది యొక్క శూన్యాలు -1 మరియు 1 .

సమర్థించడం : $P(x) = x^2 - 1$

$$P(1) = 1^2 - 1$$

$$= 1 - 1$$

$$= 0$$

$$P(1) = 0 \quad \text{మరియు}$$

$$P(-1) = (-1)^2 - 1$$

$$= 1 - 1$$

$$= 0$$

$$P(-1) = 0$$

$\therefore 1$ మరియు -1 లు $P(x) = x^2 - 1$ బహుపది యొక్క శూన్యాలు అవుతాయి .

BALABHADRA SURESH

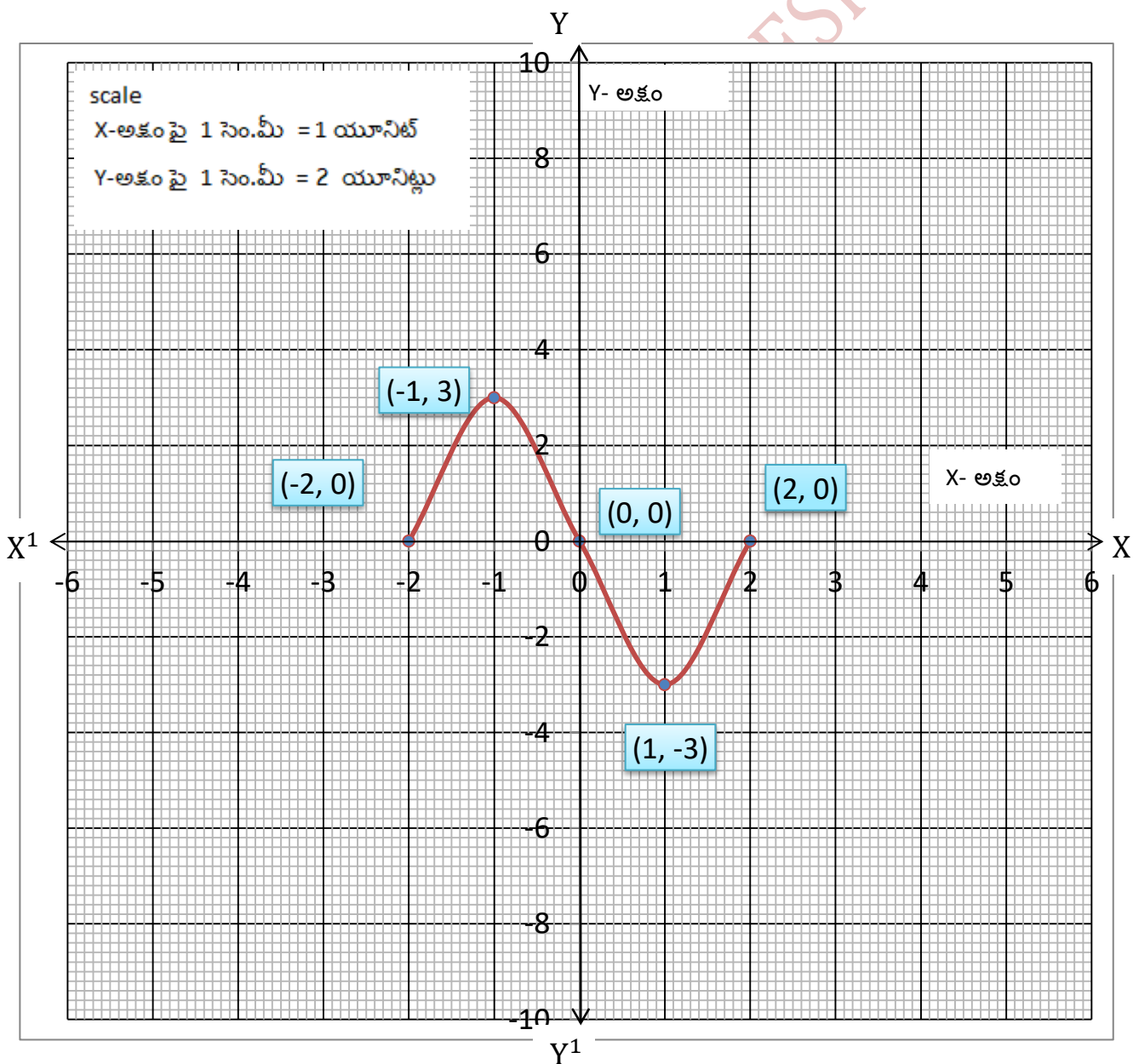
1. $p(x) = x^3 - 4x$ ఘన బహుపది యొక్క రేఖాచిత్రం గీచి , శూన్యాలు కనుగొనండి .

సాధన : $p(x) = x^3 - 4x = y$

x	-2	-1	0	1	2
x^3	-8	-1	0	1	8
$-4x$	8	4	0	-4	-8
$y = x^3 - 4x$	0	3	0	-3	0
(x, y)	(-2,0)	(-1,3)	(0,0)	(1,-3)	(2,0)

$y = x^3 - 4x$ యొక్క రేఖాచిత్రం x-అక్షం ను $(-2,0)$, $(0,0)$ మరియు $(2,0)$ ల వద్ద ఖండించినది

$p(x) = x^3 - 4x$ ఘన బహుపది యొక్క శూన్యాలు $-2, 0$ మరియు 2



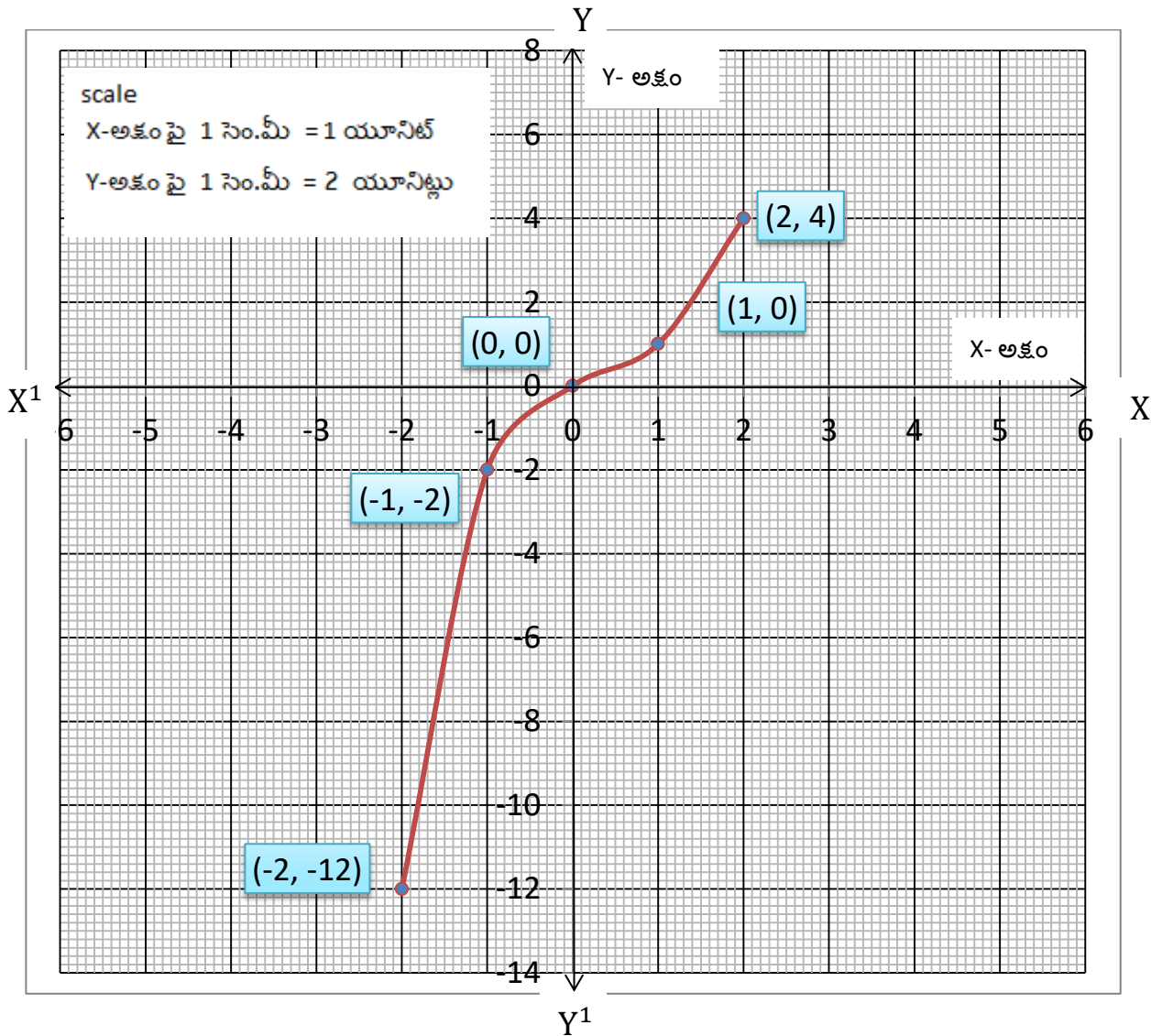
2. $p(x) = x^3$ ఘన బహుపది యొక్క రేఖాచిత్రం గీచి , శూన్యాలు కనుగొనండి.

సాధన : $p(x) = x^3 = y$

x	-2	-1	0	1	2
$y = x^3$	-8	-1	0	1	8
(x, y)	$(-2, -8)$	$(-1, -1)$	$(0, 0)$	$(1, 1)$	$(2, 8)$

$y = x^3$ యొక్క రేఖాచిత్రం X-అక్షం ను $(0,0)$ వద్ద ఖండించినది

$p(x) = x^3$ యొక్క శూన్య విలువ 0 .

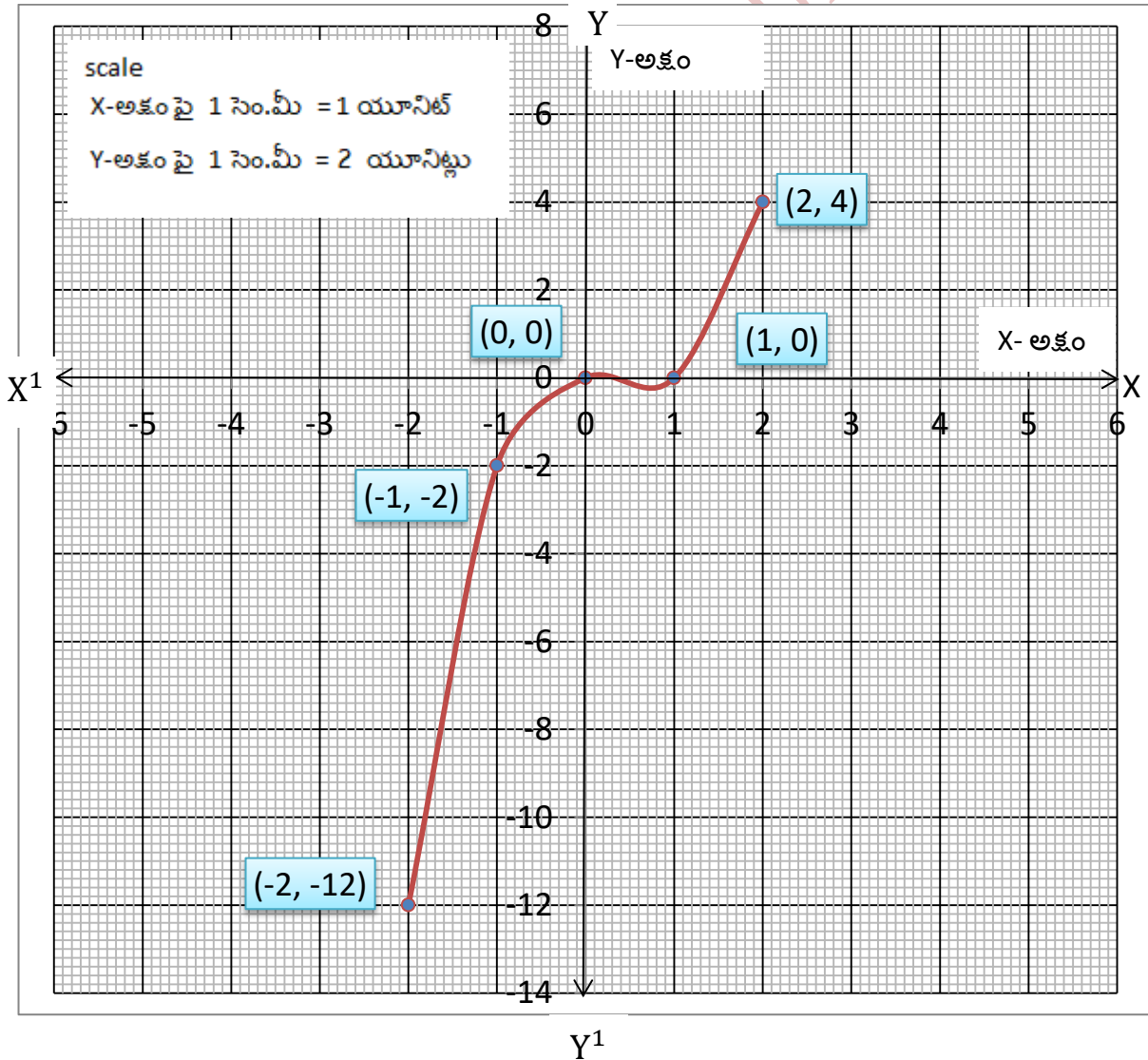


3. $p(x) = x^3 - x^2$ ఘన బహుపది యొక్క రేఖాచిత్రం గీచి , శూన్యాలు కనుగొనండి.

సాధన : $p(x) = x^3 - 4x = y$

x	-2	-1	0	1	2
x^3	-8	-1	0	1	8
$-x^2$	-4	-1	0	-1	-4
$y = x^3 - x^2$	-12	-2	0	0	4
(x, y)	$(-2, -12)$	$(-1, -2)$	$(0, 0)$	$(1, 0)$	$(2, 4)$

$y = x^3 - x^2$ యొక్క రేఖాచిత్రం x-అక్షం ను $(0, 0)$ మరియు $(1, 0)$ ల వద్ద ఖండించినది . $p(x) = x^3 - x^2$ ఘన బహుపది యొక్క శూన్యాలు 0 మరియు 1.



బహుపదులు (Polynomials)

1. **బహుపది** : ఒక బీజీయ సమాసం లోని చర రాశుల ఘాతాంకాలు పూర్ణాంకాలు అయితే అది ఒక బహుపది .

ఉదాహరణ : $2x + 5, 3x^2 + 5x + 6, -5y \dots$

బహుపదులు	బహుపదులుకాదు
$2x$	$4x^{\frac{1}{2}}$
$\frac{1}{3}x - 4$	$3x^2 + 4x^{-1} + 5$
$x^2 - 2x - 1$	$4 + \frac{1}{x}$

2. **బహుపది పరిమాణం** : x చరరాశిలో గల బహుపది $p(x)$ లో x యొక్క గరిష్ట ఘాతాంకమును బహుపది $p(x)$

యొక్క పరిమాణం అందురు

3. **రేఖీయ బహుపది** : బహుపది పరిమాణం 1 అయితే దానిని రేఖీయ బహుపది అందురు .

ఉదాహరణ: $3x + 5, 7x - 8, -9x, \dots$

చరరాశి x లో రేఖీయ బహుపది సాధారణ రూపం $ax + b$ ($a, b \in R, a \neq 0$).

4. **వర్గ బహుపది** : బహుపది పరిమాణం 2 అయితే దానిని వర్గ బహుపది అందురు.

ఉదాహరణ: $x^2 - 5x + 6, 2x^2 - 5, 7x^2, \dots$

చరరాశి x లో వర్గ బహుపది సాధారణ రూపం $ax^2 + bx + c$ ($a, b, c \in R, a \neq 0$).

5. **ఘన బహుపది** : బహుపది పరిమాణం 3 అయితే దానిని ఘన బహుపది అందురు.

ఉదాహరణ: $5x^3 - 4x^2 + x - 1, 2x^3 - 3x + 5, -3x^3 - 10, \dots$

చరరాశి x లో ఘన బహుపది సాధారణ రూపం $ax^3 + bx^2 + cx + d$ ($a, b, c, d \in R, a \neq 0$).

6. **చరరాశి x లో n వ పరిమాణ బహుపది సాధారణ రూపం** :

$$p(x) = a_0x^n + a_1x^{n-1} + a_2x^{n-2} + \dots + a_{n-1}x + a_n$$

ఇందులో $a_0, a_1, a_2, \dots, a_{n-1}, a_n$ అనేవి చరరాశి వాస్తవ గుణకాలు మరియు $a_0 \neq 0$.

7. **బహుపది యొక్క విలువ :**

$p(x)$ అనే బహుపదికి k వద్ద వచ్చు విలువ = $p(k)$. (xకు బదులుగా k ప్రతిక్షేపించాలి)

$p(x)$ అనే బహుపదికి 2 వద్ద వచ్చు విలువ = $p(2)$

ఇవి చేయండి (page 49)

i) $P(x) = x^2 - 5x - 6$, అయిన $p(1), p(2), p(3), p(0), p(-1), p(-2), p(-3)$ విలువలు కనుగొనండి .

సాధన : $P(x) = x^2 - 5x - 6$

$$P(1) = (1)^2 - 5 \times 1 - 6$$

$$= 1 - 5 - 6$$

$$= 1 - 11$$

$$= -10$$

$$P(2) = (2)^2 - 5 \times 2 - 6$$

$$= 4 - 10 - 6$$

$$= 4 - 16$$

$$= -12$$

$$P(3) = (3)^2 - 5 \times 3 - 6$$

$$= 9 - 15 - 6$$

$$= 9 - 21$$

$$= -12$$

$$P(0) = (0)^2 - 5 \times 0 - 6$$

$$= 0 - 0 - 6$$

$$= -6$$

$$P(-1) = (-1)^2 - 5 \times (-1) - 6$$

$$= 1 + 5 - 6$$

$$= 6 - 6$$

$$= 0$$

$$P(-2) = (-2)^2 - 5 \times (-2) - 6$$

$$= 4 + 10 - 6$$

$$= 14 - 6$$

$$= 8$$

$$P(-3) = (-3)^2 - 5 \times (-3) - 6$$

$$= 9 + 15 - 6$$

$$= 21 - 6 = 15$$

ii) $P(m) = m^2 - 3m + 1$ అయిన $p(1)$ మరియు $p(-1)$ విలువలు కనుగొనండి.

సాధన : $P(m) = m^2 - 3m + 1$

$$P(1) = (1)^2 - 3 \times 1 + 1$$

$$= 1 - 3 + 1$$

$$= 2 - 3$$

$$= -1$$

$$P(-1) = (-1)^2 - 3 \times (-1) + 1$$

$$= 1 + 3 + 1$$

$$= 5$$

బహుపది శూన్యాలు :

$p(x)$ ఒక బహుపది, k ఒక వాస్తవ సంఖ్య $p(k) = 0$ అయిన k ను బహుపది $p(x)$ యొక్క శూన్య విలువ అంటారు.



ఇవి చేయండి

(i) $p(x) = x^2 - 4x + 3$ అయిన $p(0)$, $p(1)$, $p(2)$, $p(3)$ విలువలు కనుగొనండి. $p(x)$ యొక్క శూన్యాలు ఏవో తెల్పండి.

(ii) $x^2 - 9$ అనే బహుపదికి -3 మరియు 3 శూన్యాలు అవుతాయో కాదో సరిచూడండి.

i)

సాధన : $p(x) = x^2 - 4x + 3$

$$p(0) = (0)^2 - 4 \times 0 + 3$$

$$= 0 - 0 + 3$$

$$= 3$$

$$p(1) = (1)^2 - 4 \times 1 + 3$$

$$= 1 - 4 + 3$$

$$= 4 - 4$$

$$= 0$$

$$p(2) = (2)^2 - 4 \times 2 + 3$$

$$= 4 - 8 + 3$$

$$= 7 - 8$$

$$= -1$$

$$p(3) = (3)^2 - 4 \times 3 + 3$$

$$= 9 - 12 + 3$$

$$= 12 - 12$$

$$= 0$$

$p(1) = 0$ మరియు $p(3) = 0$ కావున

$\therefore 1, 3$ లు బహుపది $p(x) = x^2 - 4x + 3$ కు శూన్యాలు అవుతాయి

ii)

సాధన : $p(x) = x^2 - 9$

$$p(-3) = (-3)^2 - 9$$

$$= 9 - 9$$

$$= 0$$

$$p(3) = (3)^2 - 9$$

$$= 9 - 9$$

$$= 0$$

$p(-3) = 0$ మరియు $p(3) = 0$ కావున

$x^2 - 9$ అనే బహుపదికి -3 మరియు 3 శూన్యాలు అవుతాయి .



అభ్యాసం - 3.1

1. $p(x) = 5x^7 - 6x^5 + 7x - 6$, అయిన

$p(x)$ యొక్క పరిమాణం

స్థిరపదము

$$p(x) = 5x^7 - 6x^5 + 7x - 6$$

(i). x^5 యొక్క గుణకం Ans: -6

(ii). $p(x)$ యొక్క పరిమాణం Ans: 7

(iii). స్థిరపదము . Ans: -6

x^5 యొక్క గుణకం

2. కింది ప్రవచనాలలో ఏవి సత్యం ? ఏవి అసత్యం ? కారణాలను తెల్పండి ?

(i). $\sqrt{2}x^2 - 3x + 1$ అనే బహుపది పరిమాణం $\sqrt{2}$.

సాధన: అసత్యము . ఎదువలన అనగా ఇచ్చిన బహుపది పరిమాణం 2 .

(ii). $p(x) = 3x^3 - 4x^2 + 5x + 7$ అనే బహుపదిలో x^2 యొక్క గుణకం 2 .

సాధన: అసత్యము . ఎదువలన అనగా ఇచ్చిన బహుపదిలో x^2 యొక్క గుణకం -4

(iii). $\frac{1}{x^2 - 5x + 6}$ అనేది ఒక వర్గ బహుపది .

సాధన: అసత్యము

(iv). ఒక బహుపది పరిమాణం దానిలో పదాల సంఖ్య కన్నా ఒకటి ఎక్కువ .

సాధన: అసత్యము. ఎదువలన అనగా బహుపది $5x^7 - 6x^5 + 7x - 6$ లోని పదాల సంఖ్య 4. కానీ దాని

పరిమాణం 7

3. $p(t) = t^3 - 1$ అయిన $p(1), p(-1), p(0), p(2)$ మరియు $p(-2)$ విలువలు కనుగొనండి .

సాధన: $P(t) = t^3 - 1$

$$\begin{aligned} P(1) &= 1^3 - 1 \\ &= 1 - 1 \\ &= 0 \end{aligned}$$

$$\begin{aligned} P(-1) &= (-1)^3 - 1 \\ &= -1 - 1 \\ &= -2 \end{aligned}$$

$$\begin{aligned} P(0) &= 0^3 - 1 \\ &= 0 - 1 \\ &= -1 \end{aligned}$$

$$\begin{aligned} P(-2) &= (-2)^3 - 1 \\ &= -8 - 1 \\ &= -9 \end{aligned}$$

4. -2 మరియు 2 అనేవి $x^4 - 16$ అనే బహుపదికి శూన్యాలు అగునో, కాదో సరి చూడండి .

సాధన : $p(x) = x^4 - 16$

$$\begin{aligned} p(-2) &= (-2)^4 - 16 \\ &= 16 - 16 \\ &= 0 \end{aligned}$$

$$\begin{aligned} p(2) &= (2)^4 - 16 \\ &= 16 - 16 \\ &= 0 \end{aligned}$$

$$p(-2) = 0 \text{ మరియు } p(2) = 0$$

కావున -2 మరియు 2 అనేవి $x^4 - 16$ అనే బహుపదికి శూన్యాలు అవుతాయి .

5. $p(x) = x^2 - x - 6$ అనే బహుపదికి 3 మరియు -2 అనేవి శూన్యాలు అగునో, కాదో సరి చూడండి

సాధన : $P(x) = x^2 - x - 6$

$$\begin{aligned} P(3) &= 3^2 - 3 - 6 \\ &= 9 - 3 - 6 \\ &= 9 - 9 \\ &= 0 \end{aligned}$$

$$\begin{aligned} P(-2) &= (-2)^2 - (-2) - 6 \\ &= 4 + 2 - 6 \\ &= 6 - 6 \\ &= 0 \end{aligned}$$

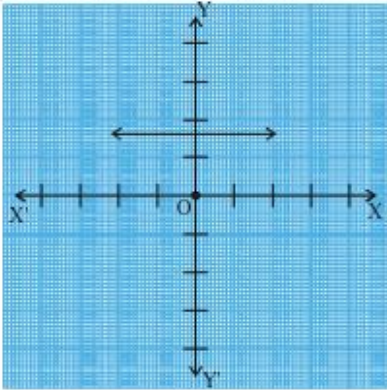
$$P(3) = 0 \text{ మరియు } P(-2) = 0 .$$

కావున $P(x) = x^2 - x - 6$ బహుపదికి 3 మరియు -2 శూన్యాలు అవుతాయి.

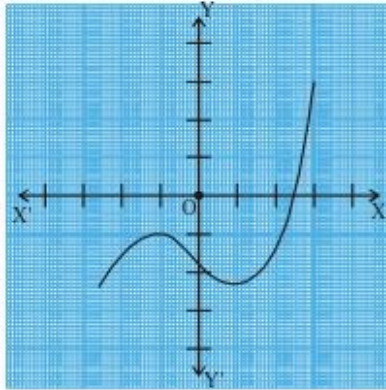


అభ్యాసం - 3.2

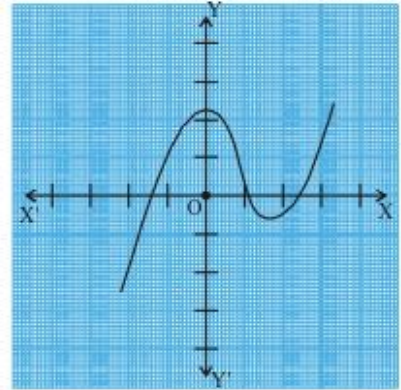
1. కొన్ని $p(x)$ బహుపదుల సంబంధిత $y = p(x)$ యొక్క పటాలు దిగువ ఇవ్వబడినవి. $p(x)$ యొక్క శూన్యాల సంఖ్యను పటాలు పరిశీలించి తెలపండి.



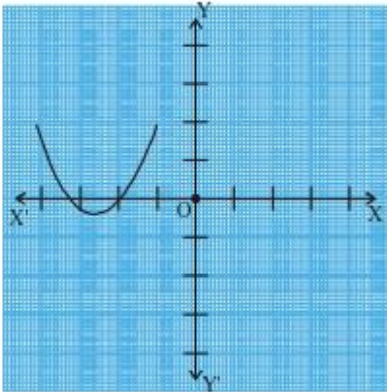
(i)



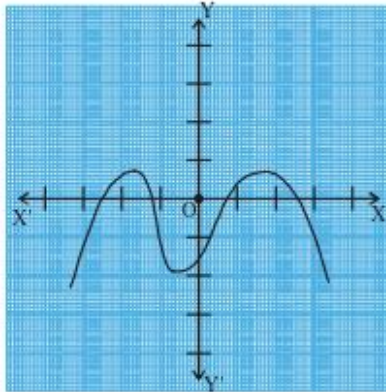
(ii)



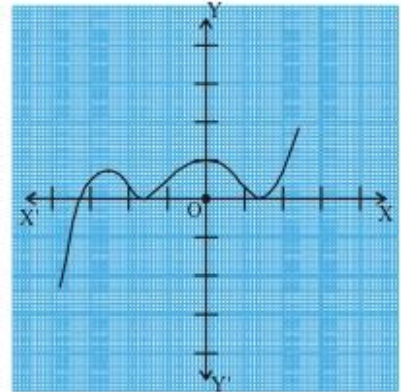
(iii)



(iv)



(v)



(vi)

Sol: (i) రేఖా చిత్రం X -అక్షంను ఖండించుట లేదు . కావున శూన్యాల సంఖ్య = 0 (శూన్యాలు లేవు)

(ii) రేఖా చిత్రం X -అక్షంను ఒక బిందువు వద్ద ఖండించింది . కావున శూన్యాల సంఖ్య = 1

(iii) రేఖా చిత్రం X -అక్షంను మూడు బిందువుల వద్ద ఖండించింది . కావున శూన్యాల సంఖ్య = 3

(iv) రేఖా చిత్రం X -అక్షంను రెండు బిందువుల వద్ద ఖండించింది . కావున శూన్యాల సంఖ్య = 2

(v) రేఖా చిత్రం X -అక్షంను నాలుగు బిందువుల వద్ద ఖండించింది . కావున శూన్యాల సంఖ్య = 4

(vi) రేఖా చిత్రం X -అక్షంను మూడు బిందువుల వద్ద ఖండించింది . కావున శూన్యాల సంఖ్య = 3

2. కింది బహుపదుల శూన్యాలు కనుగొనండి .

(i). $P(x) = 3x$

సాధన : $P(x) = 0$ తీసుకొనగా

$$3x = 0$$

$$x = 0$$

ఇచ్చిన బహుపది $P(x) = 3x$ యొక్క శూన్యం = 0.

(ii). $P(x) = x^2 + 5x + 6$

సాధన : $P(x) = 0$ తీసుకొనగా

$$x^2 + 5x + 6 = 0$$

$$x^2 + 2x + 3x + 6 = 0$$

$$x(x + 2) + 3(x + 2) = 0$$

$$(x + 2)(x + 3) = 0$$

$$(x + 2) = 0 \quad \text{or} \quad (x + 3) = 0$$

$$x = -2 \quad \text{or} \quad x = -3$$

$\therefore P(x) = x^2 + 5x + 6$ బహుపది యొక్క శూన్యాలు -2 మరియు -3 .

(iii). $p(x) = (x + 2)(x + 3)$

సాధన : $P(x) = 0$ తీసుకొనగా

$$(x + 2)(x + 3) = 0$$

$$(x + 2) = 0 \quad \text{or} \quad (x + 3) = 0$$

$$x = -2 \quad \text{or} \quad x = -3$$

$\therefore P(x) = (x + 2)(x + 3)$ బహుపది యొక్క శూన్యాలు -2 మరియు -3 .

(iv). $p(x) = x^4 - 16$

సాధన : $P(x) = 0$ తీసుకొనగా

$$x^4 - 16 = 0$$

$$(x^2)^2 - 4^2 = 0$$

$$(x^2 + 4)(x^2 - 4) = 0$$

$$(x^2 + 4) = 0 \quad \text{or} \quad (x^2 - 4) = 0$$

$$x^2 = -4 \quad \text{or} \quad x^2 = 4$$

$$x = \sqrt{-4} \quad \text{or} \quad x = \sqrt{4} = \pm 2$$

$$a^2 - b^2 = (a + b)(a - b)$$

$$x = 2, -2 \quad (\sqrt{-4} \text{ అనేది వాస్తవ సంఖ్య కాదు})$$

$$\therefore p(x) = x^4 - 16 \text{ బహుపది యొక్క శూన్యాలు } 2 \text{ మరియు } -2$$

4. $p(x) = 4x^2 + 3x - 1$ అనే బహుపదికి $\frac{1}{4}$ మరియు -1 అనేవి శూన్యాలు ఏవిధంగా అగునో తెలపండి .

$$\text{సాధన : } p(x) = 4x^2 + 3x - 1$$

$$p\left(\frac{1}{4}\right) = 4\left(\frac{1}{4}\right)^2 + 3 \times \frac{1}{4} - 1$$

$$= 4 \times \frac{1}{16} + \frac{3}{4} - 1$$

$$= \frac{1}{4} + \frac{3}{4} - 1$$

$$= \frac{4}{4} - 1 = 1 - 1 = 0$$

$$p\left(\frac{1}{4}\right) = 0 \text{ మరియు } p(-1) = 0$$

$$p(-1) = 4(-1)^2 + 3 \times (-1) - 1$$

$$= 4 \times 1 - 3 - 1$$

$$= 4 - 3 - 1$$

$$= 4 - 4$$

$$= 0$$

కావున $p(x) = 4x^2 + 3x - 1$ అనే బహుపదికి $\frac{1}{4}$ మరియు -1 అనేవి శూన్యాలు అవుతాయి .

ఒక బహుపది గుణకలకు , శూన్యాలకు మధ్యసంబంధము

1. α మరియు β లు వర్గ బహుపది $ax^2 + bx + c$ ($a, b, c \in R, a \neq 0$) యొక్క శూన్యాలు అయితే

$$\text{i) శూన్యాల మొత్తం} = \alpha + \beta = \frac{-(x \text{ యొక్క గుణకం})}{x^2 \text{ యొక్క గుణకం}} = \frac{-b}{a}$$

$$\text{ii) శూన్యాల లబ్ధం} = \alpha\beta = \frac{\text{స్థిర పదము}}{x^2 \text{ యొక్క గుణకం}} = \frac{c}{a}$$

$$x^2 \text{ యొక్క గుణకం} = a$$

$$x \text{ యొక్క గుణకం} = b$$

$$\text{స్థిర పదము} = c$$

2. α మరియు β లు శూన్యాలు గా గల వర్గ బహుపది = $k[x^2 - (\alpha + \beta)x + \alpha\beta]$

$$= k [x^2 - (\text{శూన్యాల మొత్తం})x + \text{శూన్యాల లబ్ధం}] \text{ (k ఒక స్థిర సంఖ్య)}$$



ఇవి చేయండి

దిగువ ఇవ్వబడిన వర్గ బహుపదుల యొక్క శూన్యాలను కనుగొనండి. ఇదేవిధంగా శూన్యాల మొత్తము మరియు లబ్ధమును కనుగొని, బహుపది పదాల గుణకాలకు బహుపదిశూన్యాలకు మధ్యన గల సంబంధాన్ని సరిచూడండి.

$$\text{(i) } p(x) = x^2 - x - 6$$

$$\text{(ii) } p(x) = x^2 - 4x + 3$$

$$\text{(iii) } p(x) = x^2 - 4$$

$$\text{(iv) } p(x) = x^2 + 2x + 1$$

$$\text{(i). } p(x) = x^2 - x - 6$$

$$x^2 \text{ యొక్క గుణకం} = a=1$$

$$x \text{ యొక్క గుణకం} = b=-1$$

$$\text{స్థిర పదము} = c = -6$$

$$\text{సాధన : } p(x) = x^2 - x - 6$$

$$= x^2 - 3x + 2x - 6$$

$$= x(x - 3) + 2(x - 3)$$

$$= (x - 3)(x + 2)$$

శూన్యాల కొరకు $p(x) = 0$ అనుకొనుము

$$(x - 3)(x + 2) = 0$$

$$x - 3 = 0 \quad \text{లేదా} \quad x + 2 = 0$$

$$x = 3 \quad \text{లేదా} \quad x = -2$$

$p(x) = x^2 - x - 6$ బహుపది యొక్క శూన్యాలు 3 మరియు -2

$$\alpha = 3 \quad \text{మరియు} \quad \beta = -2$$

$$\text{శూన్యాల మొత్తం} = (3) + (-2) = 1 = \frac{-(-1)}{1} = \frac{-(x \text{ యొక్క గుణకం})}{x^2 \text{ యొక్క గుణకం}} = \frac{-b}{a}$$

$$\text{శూన్యాల లబ్ధం} = (3) \times (-2) = -6 = \frac{-6}{1} = \frac{\text{స్థిర పదము}}{x^2 \text{ యొక్క గుణకం}} = \frac{c}{a}$$

$$(ii). \quad p(x) = x^2 - 4x + 3$$

$$\text{సాధన : } p(x) = x^2 - 4x + 3$$

$$= x^2 - 3x - x + 3$$

$$= x(x - 3) - 1(x - 3)$$

$$= (x - 3)(x - 1)$$

శూన్యాల కొరకు $p(x) = 0$ అనుకొనుము

$$(x - 3)(x - 1) = 0$$

$$x - 3 = 0 \quad \text{or} \quad x - 1 = 0$$

$$x = 3 \quad \text{or} \quad x = 1$$

$p(x) = x^2 - 4x + 3$ బహుపది యొక్క శూన్యాలు 3 మరియు 1

$$\alpha = 3 \quad \text{మరియు} \quad \beta = 1$$

$$\text{శూన్యాల మొత్తం} = (3) + (1) = 4 = \frac{-(-4)}{1} = \frac{-(x \text{ యొక్క గుణకం})}{x^2 \text{ యొక్క గుణకం}} = \frac{-b}{a}$$

$$\text{శూన్యాల లబ్ధం} = (3) \times (1) = 3 = \frac{3}{1} = \frac{\text{స్థిర పదము}}{x^2 \text{ యొక్క గుణకం}} = \frac{c}{a}$$

$$x^2 \text{ యొక్క గుణకం} = a = 1$$

$$x \text{ యొక్క గుణకం} = b = -4$$

$$\text{స్థిర పదము} = c = 3$$

$$x^2 \text{ యొక్క గుణకం} = a = 1$$

$$x \text{ యొక్క గుణకం} = b = 0$$

$$(iii). p(x) = x^2 - 4$$

$$\text{సాధన : } p(x) = x^2 - 4$$

$$= x^2 - 2^2$$

$$= (x + 2)(x - 2)$$

శూన్యాల కొరకు $p(x) = 0$ అనుకొనుము

$$(x + 2)(x - 2) = 0$$

$$x + 2 = 0 \quad \text{లేదా} \quad x - 2 = 0$$

$$x = -2 \quad \text{లేదా} \quad x = 2$$

$p(x) = x^2 - 4$ బహుపది యొక్క శూన్యాలు -2 మరియు 2

$$\alpha = -2 \quad \text{మరియు} \quad \beta = 2$$

$$\text{శూన్యాల మొత్తం} = (-2) + 2 = 0 = \frac{-(-0)}{1} = \frac{-(x \text{ యొక్క గుణకం})}{x^2 \text{ యొక్క గుణకం}} = \frac{-b}{a}$$

$$\text{శూన్యాల లబ్ధం} = (-2) \times 2 = -4 = \frac{-4}{1} = \frac{\text{స్థిర పదము}}{x^2 \text{ యొక్క గుణకం}} = \frac{c}{a}$$

$$(iv). p(x) = x^2 + 2x + 1$$

$$\text{సాధన : } p(x) = x^2 + 2x + 1$$

$$= x^2 + x + x + 1$$

$$= x(x + 1) + 1(x + 1)$$

$$= (x + 1)(x + 1)$$

శూన్యాల కొరకు $p(x) = 0$ అనుకొనుము

$$(x + 1)(x + 1) = 0$$

$$x + 1 = 0 \quad \text{లేదా} \quad x + 1 = 0$$

$$x = -1 \quad \text{లేదా} \quad x = -1$$

$$x^2 \text{ యొక్క గుణకం} = a = 1$$

$$x \text{ యొక్క గుణకం} = b = 2$$

$$\text{స్థిర పదము} = c = 1$$

$$p(x) = x^2 + 2x + 1 \text{ బహుపది యొక్క శూన్యాలు } -1 \text{ మరియు } -1$$

$$\alpha = -1 \text{ మరియు } \beta = -1$$

$$\text{శూన్యాల మొత్తం} = (-1) + (-1) = -2 = \frac{-(-2)}{1} = \frac{-(x \text{ యొక్క గుణకం})}{x^2 \text{ యొక్క గుణకం}} = \frac{-b}{a}$$

$$\text{శూన్యాల లబ్ధం} = (-1) \times (-1) = 1 = \frac{1}{1} = \frac{\text{స్థిర పదము}}{x^2 \text{ యొక్క గుణకం}} = \frac{c}{a}$$

ఉదాహరణ-3. $x^2 + 7x + 10$ అనే వర్ణబహుపది యొక్క శూన్యాలను కనుగొని, శూన్యాలకు, బహుపది గుణకాలకు సంబంధాన్ని సరిచూడండి.

$$\text{సాధన : } p(x) = x^2 + 7x + 10$$

$$= x^2 + 5x + 2x + 10$$

$$= x(x + 5) + 2(x + 5)$$

$$= (x + 5)(x + 2)$$

$$x^2 \text{ యొక్క గుణకం} = a = 1$$

$$x \text{ యొక్క గుణకం} = b = 7$$

$$\text{స్థిర పదము} = c = 10$$

శూన్యాల కొరకు $p(x) = 0$ అనుకొనుము

$$(x + 5)(x + 2) = 0$$

$$x + 5 = 0 \quad \text{లేదా} \quad x + 2 = 0$$

$$x = -5 \quad \text{లేదా} \quad x = -2$$

$$p(x) = x^2 + 7x + 10 \text{ బహుపది యొక్క శూన్యాలు } -5 \text{ మరియు } -2$$

$$\alpha = -5 \text{ మరియు } \beta = -2$$

$$\text{శూన్యాల మొత్తం} = (-5) + (-2) = -7 = \frac{-(-7)}{1} = \frac{-(x \text{ యొక్క గుణకం})}{x^2 \text{ యొక్క గుణకం}} = \frac{-b}{a}$$

$$\text{శూన్యాల లబ్ధం} = (-5) \times (-2) = 10 = \frac{10}{1} = \frac{\text{స్థిర పదము}}{x^2 \text{ యొక్క గుణకం}} = \frac{c}{a}$$

ఉదాహరణ-4. $x^2 - 3$ అనే బహుపది యొక్క శూన్యాలు కనుగొని, శూన్యాలకు బహుపది గుణకాలకు మధ్యగల సంబంధాన్ని సరిచూడండి.

$$\text{సాధన : } (x) = x^2 - 3$$

$$x^2 \text{ యొక్క గుణకం} = a = 1$$

$$x \text{ యొక్క గుణకం} = b = 0$$

$$\text{స్థిర పదము} = c = -3$$

$$= x^2 - \sqrt{3}^2$$

$$= (x + \sqrt{3})(x - \sqrt{3})$$

శూన్యాల కొరకు $p(x) = 0$ అనుకొనుము

$$(x + \sqrt{3})(x - \sqrt{3}) = 0$$

$$x + \sqrt{3} = 0 \quad \text{లేదా} \quad x - \sqrt{3} = 0$$

$$x = -\sqrt{3} \quad \text{లేదా} \quad x = \sqrt{3}$$

$p(x) = x^2 - 3$ బహుపది యొక్క శూన్యాలు $-\sqrt{3}$ మరియు $\sqrt{3}$

$$\alpha = -2 \quad \text{మరియు} \quad \beta = 2$$

$$\text{శూన్యాల మొత్తం} = (-\sqrt{3}) + \sqrt{3} = 0 = \frac{-(-0)}{1} = \frac{-(x \text{ యొక్క గుణకం})}{x^2 \text{ యొక్క గుణకం}} = \frac{-b}{a}$$

$$\text{శూన్యాల లబ్ధం} = (-\sqrt{3}) \times \sqrt{3} = -3 = \frac{-3}{1} = \frac{\text{స్థిర పదము}}{x^2 \text{ యొక్క గుణకం}} = \frac{c}{a}$$

ఉదాహరణ-5. ఒక వర్గ బహుపది యొక్క శూన్యాలు మొత్తము మరియు లబ్ధము వరుసగా -3 మరియు 2 అయిన ఆ వర్గ బహుపదిని కనుగొనండి.

$$\text{Sol: శూన్యాల మొత్తం} = \alpha + \beta = -3$$

$$\text{శూన్యాల లబ్ధం} = \alpha\beta = 2$$

$$\text{వర్గ బహుపది} = k[x^2 - (\alpha + \beta)x + \alpha\beta]$$

$$= k[x^2 - (-3)x + 2]$$

$$= k[x^2 + 3x + 2]$$

$$k=1 \text{ అయితే}$$

$$\text{కావలసిన వర్గ బహుపది} = [x^2 + 3x + 2]$$

ఉదాహరణ-6. ఒక వర్గ బహుపది యొక్క శూన్యాలు వరుసగా 2 మరియు $\frac{-1}{3}$ అయినచో ఆ బహుపదిని కనుగొనండి.

$$\text{Sol: వర్గ బహుపది శూన్యాలు} \alpha = 2 \quad \text{మరియు} \quad \beta = -\frac{1}{3}$$

$$\alpha + \beta = 2 + \left(-\frac{1}{3}\right) = \frac{6-1}{3} = \frac{5}{3}$$

$$\alpha \times \beta = 2 \times \left(-\frac{1}{3}\right) = -\frac{2}{3}$$

$$\begin{aligned} \text{వర్గ బహుపది} &= k[x^2 - (\alpha + \beta)x + \alpha\beta] \\ &= k\left[x^2 - \left(\frac{5}{3}\right)x + \left(-\frac{2}{3}\right)\right] \\ &= k\left[x^2 - \frac{5}{3}x - \frac{2}{3}\right] \end{aligned}$$

k=3 అయినచో

$$\begin{aligned} \text{కావలసిన వర్గ బహుపది} &= 3\left[x^2 - \frac{5}{3}x - \frac{2}{3}\right] \\ &= 3 \times x^2 - 3 \times \frac{5}{3}x - 3 \times \frac{2}{3} \\ &= 3x^2 - 5x - 2. \end{aligned}$$



ప్రయత్నించండి

(page- 64)

(i). -2 మరియు $\frac{1}{3}$ శూన్యాలు కలిగిన వర్గ బహుపది ని కనుగొనండి .

Sol: వర్గ బహుపది శూన్యాలు $\alpha = -2$ మరియు $\beta = \frac{1}{3}$

$$\alpha + \beta = (-2) + \left(\frac{1}{3}\right) = \frac{-6+1}{3} = \frac{-5}{3}$$

$$\alpha \times \beta = (-2) \times \left(\frac{1}{3}\right) = -\frac{2}{3}$$

$$\begin{aligned} \text{వర్గ బహుపది} &= k[x^2 - (\alpha + \beta)x + \alpha\beta] \\ &= k\left[x^2 - \left(-\frac{5}{3}\right)x + \left(-\frac{2}{3}\right)\right] \\ &= k\left[x^2 + \frac{5}{3}x - \frac{2}{3}\right] \end{aligned}$$

k=3అయినచో

$$\begin{aligned} \text{కావలసిన వర్గ బహుపది} &= 3\left[x^2 + \frac{5}{3}x - \frac{2}{3}\right] \\ &= 3 \times x^2 + 3 \times \frac{5}{3}x - 3 \times \frac{2}{3} \\ &= 3x^2 + 5x - 2. \end{aligned}$$

(ii). శూన్యాల మొత్తం $-\frac{3}{2}$ మరియు లబ్ధం -1 కలిగిన వర్గ బహుపదిని తెలపండి .

Sol: శూన్యాల మొత్తం $= \alpha + \beta = -\frac{3}{2}$

$$\text{శూన్యాల లబ్ధం} = \alpha\beta = -1$$

$$\text{వర్గ బహుపది} = k[x^2 - (\alpha + \beta)x + \alpha\beta]$$

$$= k \left[x^2 - \left(-\frac{3}{2} \right) x + (-1) \right]$$

$$= k \left[x^2 + \frac{3}{2}x - 1 \right]$$

$$k=2 \text{ అయితే}$$

$$\text{కావలసిన వర్గ బహుపది} = 2 \times \left[x^2 + \frac{3}{2}x - 1 \right]$$

$$= 2x^2 + 3x - 2$$



అభ్యాసం - 3.3

1. కింది వర్గ బహుపదులకు శూన్యాలను కనుగొని బహుపది గుణకాలకు, శూన్యాలకు గల సంబంధాన్ని సరిచూడండి .

(i). $x^2 - 2x - 8$

సాధన : $p(x) = x^2 - 2x - 8$

$$= x^2 - 4x + 2x - 8$$

$$= x(x - 4) + 2(x - 4)$$

$$= (x - 4)(x + 2)$$

$$p(x) = 0 \text{ అనుకొనుము}$$

$$(x - 4)(x + 2) = 0$$

$$x - 4 = 0 \quad \text{లేదా} \quad x + 2 = 0$$

$$x = 4 \quad \text{లేదా} \quad x = -2$$

$$p(x) = x^2 - 2x - 8 \text{ బహుపది యొక్క శూన్యాలు } 4 \text{ మరియు } -2$$

$$\alpha = 4 \text{ మరియు } \beta = -2$$

$$x^2 \text{ యొక్క గుణకం} = a = 1$$

$$x \text{ యొక్క గుణకం} = b = -2$$

$$\text{స్థిర పదము} = c = -8$$

$$\text{శూన్యాల మొత్తం} = (4) + (-2) = 2 = \frac{-(-2)}{1} = \frac{-(x \text{ యొక్క గుణకం})}{x^2 \text{ యొక్క గుణకం}} = \frac{-b}{a}$$

$$\text{శూన్యాల లబ్ధం} = (4) \times (-2) = -8 = \frac{-8}{1} = \frac{\text{స్థిర పదము}}{x^2 \text{ యొక్క గుణకం}} = \frac{c}{a}$$

(ii). $4s^2 - 4s + 1$

సాధన: $p(s) = 4s^2 - 4s + 1$

$$= 4s^2 - 2s - 2s + 1$$

$$= 2s(2s - 1) - 1(2s - 1)$$

$$= (2s - 1)(2s - 1)$$

$p(s) = 0$ అనుకొనుము

$$(2s - 1)(2s - 1) = 0$$

$$2s - 1 = 0 \quad \text{లేదా} \quad 2s - 1 = 0$$

$$2s = 1 \quad \text{లేదా} \quad 2s = 1$$

$$s = \frac{1}{2} \quad \text{లేదా} \quad s = \frac{1}{2}$$

$p(s) = 4s^2 - 4s + 1$ బహుపది యొక్క శూన్యాలు $\frac{1}{2}$ మరియు $\frac{1}{2}$

$$\text{శూన్యాల మొత్తం} = \frac{1}{2} + \frac{1}{2} = \frac{2}{2} = 1 = \frac{-(-4)}{4} = \frac{-(s \text{ యొక్క గుణకం})}{s^2 \text{ యొక్క గుణకం}} = \frac{-b}{a}$$

$$\text{శూన్యాల లబ్ధం} = \frac{1}{2} \times \frac{1}{2} = \frac{1}{4} = \frac{\text{స్థిర పదము}}{x^2 \text{ యొక్క గుణకం}} = \frac{c}{a}$$

(iii). $6x^2 - 3 - 7x$

సాధన: $p(x) = 6x^2 - 7x - 3$

$$= 6x^2 - 9x + 2x - 3$$

$$= 3x(2x - 3) + 1(2x - 3)$$

$$= (2x - 3)(3x + 1)$$

$$s^2 \text{ యొక్క గుణకం} = a = 4$$

$$s \text{ యొక్క గుణకం} = b = -4$$

$$\text{స్థిర పదము} = c = 1$$

$$x^2 \text{ యొక్క గుణకం} = a = 6$$

$$x \text{ యొక్క గుణకం} = b = -7$$

$$\text{స్థిర పదము} = c = -3$$

$$p(x) = 0 \text{ అనుకొనుము}$$

$$(2x - 3)(3x + 1) = 0$$

$$2x - 3 = 0 \quad \text{లేదా} \quad 3x + 1 = 0$$

$$2x = 3 \quad \text{లేదా} \quad 3x = -1$$

$$x = \frac{3}{2} \quad \text{లేదా} \quad x = \frac{-1}{3}$$

$$p(x) = 6x^2 - 7x - 3 \text{ బహుపది యొక్క శూన్యాలు } \frac{3}{2} \text{ మరియు } \frac{-1}{3}$$

$$\alpha = 4 \text{ మరియు } \beta = -2$$

$$\text{శూన్యాల మొత్తం} = \left(\frac{3}{2}\right) + \left(\frac{-1}{3}\right) = \frac{9-2}{6} = \frac{7}{6} = \frac{-(-7)}{6} = \frac{-(x \text{ యొక్క గుణకం})}{x^2 \text{ యొక్క గుణకం}} = \frac{-b}{a}$$

$$\text{శూన్యాల లబ్ధం} = \left(\frac{3}{2}\right) \times \left(\frac{-1}{3}\right) = \frac{-3}{6} = \frac{\text{స్థిర పదము}}{x^2 \text{ యొక్క గుణకం}} = \frac{c}{a}$$

$$(iv). 4u^2 + 8u$$

$$\text{సాధన: } P(u) = 4u^2 + 8u$$

$$= 4u(u + 2)$$

$$p(u) = 0 \text{ అనుకొనుము}$$

$$4u(u + 2) = 0$$

$$4u = 0 \quad \text{or} \quad u + 2 = 0$$

$$u = 0 \quad \text{or} \quad u = -2$$

$$p(u) = 4u^2 + 8u \text{ బహుపది యొక్క శూన్యాలు } 0 \text{ మరియు } -2$$

$$\text{శూన్యాల మొత్తం} = 0 + (-2) = -2 = \frac{-8}{4} = \frac{-(u \text{ యొక్క గుణకం})}{u^2 \text{ యొక్క గుణకం}} = \frac{-b}{a}$$

$$\text{శూన్యాల లబ్ధం} = 0 \times (-2) = 0 = \frac{0}{4} = \frac{\text{స్థిర పదము}}{u^2 \text{ యొక్క గుణకం}} = \frac{c}{a}$$

$$(v). t^2 - 15$$

$$u^2 \text{ యొక్క గుణకం} = a = 4$$

$$u \text{ యొక్క గుణకం} = b = 8$$

$$\text{స్థిర పదము} = c = 0$$

$$t^2 \text{ యొక్క గుణకం} = a = 1$$

$$t \text{ యొక్క గుణకం} = b = 0$$

$$\text{సాధన: } p(t) = t^2 - 15$$

$$= t^2 - (\sqrt{15})^2$$

$$= (t + \sqrt{15})(t - \sqrt{15})$$

$$p(t) = 0 \text{ అనుకొనుము}$$

$$(t + \sqrt{15})(t - \sqrt{15}) = 0$$

$$t + \sqrt{15} = 0 \quad \text{లేదా} \quad t - \sqrt{15} = 0$$

$$t = -\sqrt{15} \quad \text{లేదా} \quad t = \sqrt{15}$$

$$p(t) = t^2 - 15 \text{ బహుపది యొక్క శూన్యాలు } \sqrt{15} \text{ మరియు } -\sqrt{15}$$

$$\text{శూన్యాల మొత్తం} = \sqrt{15} + (-\sqrt{15}) = 0 = \frac{-0}{1} = \frac{-(t \text{ యొక్క గుణకం})}{t^2 \text{ యొక్క గుణకం}} = \frac{-b}{a}$$

$$\text{శూన్యాల లబ్ధం} = \sqrt{15} \times (-\sqrt{15}) = -15 = \frac{-15}{1} = \frac{\text{స్థిర పదము}}{t^2 \text{ యొక్క గుణకం}} = \frac{c}{a}$$

$$(vi). 3x^2 - x - 4$$

$$\text{సాధన: } p(x) = 3x^2 - x - 4$$

$$= 3x^2 - 4x + 3x - 4$$

$$= x(3x - 4) + 1(3x - 4)$$

$$= (3x - 4)(x + 1)$$

$$p(x) = 0 \text{ అనుకొనుము}$$

$$(3x - 4)(x + 1) = 0$$

$$3x - 4 = 0 \quad \text{లేదా} \quad x + 1 = 0$$

$$3x = 4 \quad \text{లేదా} \quad x = -1$$

$$x = \frac{4}{3} \quad \text{లేదా} \quad x = -1$$

$$x^2 \text{ యొక్క గుణకం} = a = 3$$

$$x \text{ యొక్క గుణకం} = b = -1$$

$$\text{స్థిర పదము} = c = -4$$

$$p(x) = 3x^2 - x - 4 \text{ బహుపది యొక్క శూన్యాలు } \frac{4}{3} \text{ మరియు } -1$$

$$\alpha = 4 \text{ మరియు } \beta = -2$$

$$\text{శూన్యాల మొత్తం} = \left(\frac{4}{3}\right) + (-1) = \frac{4-3}{3} = \frac{1}{3} = \frac{-(-1)}{3} = \frac{-(x \text{ యొక్క గుణకం})}{x^2 \text{ యొక్క గుణకం}} = \frac{-b}{a}$$

$$\text{శూన్యాల లబ్ధం} = \left(\frac{4}{3}\right) \times (-1) = \frac{-4}{3} = \frac{\text{స్థిర పదము}}{x^2 \text{ యొక్క గుణకం}} = \frac{c}{a}$$

2. ఒక వర్గ బహుపది యొక్క శూన్యాల మొత్తము మరియు లబ్ధాలు వరుసగా ఇవ్వబడినవి . ప్రతీ సందర్భం లోనూ ఆయా

వర్గబహుపదులను కనుగొనండి .

(i). $\frac{1}{4}, -1$

సాధన: శూన్యాల మొత్తం = $\alpha + \beta = \frac{1}{4}$

శూన్యాల లబ్ధం = $\alpha\beta = -1$

వర్గబహుపది = $k[x^2 - (\alpha + \beta)x + \alpha\beta]$
 $= k[x^2 - \left(\frac{1}{4}\right)x + (-1)]$
 $= k[x^2 - \frac{1}{4}x - 1]$

$k=4$ అయినచో

వర్గబహుపది = $4 \times [x^2 - \frac{1}{4}x - 1]$
 $= 4x^2 - x - 4$

(ii). $\sqrt{2}, \frac{1}{3}$

సాధన: శూన్యాల మొత్తం = $\alpha + \beta = \sqrt{2}$

శూన్యాల లబ్ధం = $\alpha\beta = \frac{1}{3}$

వర్గబహుపది = $k[x^2 - (\alpha + \beta)x + \alpha\beta]$
 $= k[x^2 - \sqrt{2}x + \left(\frac{1}{3}\right)]$

$k=3$ అయితే

$$\begin{aligned}\text{వర్గబహుపది} &= 3 \times [x^2 - \sqrt{2}x + \left(\frac{1}{3}\right)] \\ &= 3x^2 - 3\sqrt{2}x + 1\end{aligned}$$

(iii). $0, \sqrt{5}$

$$\text{సాధన: శూన్యాల మొత్తం} = \alpha + \beta = 0$$

$$\text{శూన్యాల లబ్ధం} = \alpha\beta = \sqrt{5}$$

$$\begin{aligned}\text{వర్గబహుపది} &= k[x^2 - (0)x + \sqrt{5}] \\ &= k[x^2 + \sqrt{5}]\end{aligned}$$

$$k=1 \text{ అయితే}$$

$$\text{వర్గబహుపది} = x^2 + \sqrt{5}$$

(iv). $1, 1$

$$\text{సాధన: శూన్యాల మొత్తం} = \alpha + \beta = 1$$

$$\text{శూన్యాల లబ్ధం} = \alpha\beta = 1$$

$$\begin{aligned}\text{వర్గబహుపది} &= k[x^2 - (\alpha + \beta)x + \alpha\beta] \\ &= k[x^2 - (1)x + 1] \\ &= k[x^2 - x + 1]\end{aligned}$$

$$k=1 \text{ అయినచో}$$

$$\text{వర్గబహుపది} = [x^2 - x - 1]$$

(v). $-\frac{1}{4}, \frac{1}{4}$

$$\text{సాధన: శూన్యాల మొత్తం} = \alpha + \beta = -\frac{1}{4}$$

$$\text{శూన్యాల లబ్ధం} = \alpha\beta = \frac{1}{4}$$

$$\begin{aligned}\text{వర్గబహుపది} &= k[x^2 - (\alpha + \beta)x + \alpha\beta] \\ &= k \left[x^2 - \left(-\frac{1}{4}\right)x + \frac{1}{4} \right] \\ &= k \left[x^2 + \frac{1}{4}x + \frac{1}{4} \right]\end{aligned}$$

$$k=4 \text{ అయినచో}$$

$$\text{వర్గబహుపది} = 4 \times \left[x^2 + \frac{1}{4}x + \frac{1}{4} \right]$$

$$= 4x^2 + x + 1$$

(vi). 4,1

సాధన : శూన్యాల మొత్తం $= \alpha + \beta = 4$

శూన్యాల లబ్ధం $= \alpha\beta = 1$

వర్గబహుపది $= k[x^2 - (\alpha + \beta)x + \alpha\beta]$

$$= k[x^2 - (4)x + 1]$$

$$= k[x^2 - 4x + 1]$$

k=1 అయినచో

వర్గబహుపది $= [x^2 - 4x + 1]$

3. ఒక వర్గ బహుపది యొక్క శూన్యాలు α, β లు దిగువ ఇవ్వబడినవి . ప్రతి సందర్భంలోనూ ఆయా బహుపదులను

కనుగొనండి .

(i). 2,-1

సాధన: $\alpha = 2, \beta = -1$

శూన్యాల మొత్తం $= \alpha + \beta = 2 + (-1) = 1$

శూన్యాల లబ్ధం $= \alpha\beta = 2 \times (-1) = -2$

వర్గబహుపది $= k[x^2 - (\alpha + \beta)x + \alpha\beta]$

$$= k[x^2 - (1)x + (-2)]$$

$$= k[x^2 - x - 2]$$

k=1 అయినచో

వర్గబహుపది $= x^2 - x - 2$

(ii). $\sqrt{3}, -\sqrt{3}$

సాధన: $\alpha = \sqrt{3}, \beta = -\sqrt{3}$

శూన్యాల మొత్తం $= \alpha + \beta = \sqrt{3} + (-\sqrt{3}) = 0$

శూన్యాల లబ్ధం $= \alpha\beta = \sqrt{3} \times (-\sqrt{3}) = -3$

వర్గబహుపది $= k[x^2 - (\alpha + \beta)x + \alpha\beta]$

$$= k[x^2 - (0)x + (-3)]$$

$$= k[x^2 - 3]$$

$$k=1 \text{ అయినచో వర్గబహుపది} = x^2 - 3$$

$$(iii). \frac{1}{4}, -1$$

$$\text{సాధన: } \alpha = \frac{1}{4}, \beta = -1$$

$$\text{శూన్యాల మొత్తం} = \alpha + \beta = \frac{1}{4} + (-1) = \frac{1-4}{4} = \frac{-3}{4}$$

$$\text{శూన్యాల లబ్ధం} = \alpha\beta = \frac{1}{4} \times (-1) = -\frac{1}{4}$$

$$\text{వర్గబహుపది} = k[x^2 - (\alpha + \beta)x + \alpha\beta]$$

$$= k \left[x^2 - \left(\frac{-3}{4} \right) x + \left(-\frac{1}{4} \right) \right]$$

$$= k \left[x^2 + \frac{3}{4}x - \frac{1}{4} \right]$$

$$k=4 \text{ అయినచో}$$

$$\text{కావలసిన వర్గబహుపది} = 4 \times \left[x^2 + \frac{3}{4}x - \frac{1}{4} \right]$$

$$= 4 \times x^2 + 4 \times \frac{3}{4}x - 4 \times \frac{1}{4}$$

$$= 4x^2 + 3x - 1$$

$$(iv). \frac{1}{2}, \frac{3}{2}$$

$$\text{సాధన: } \alpha = \frac{1}{2}, \beta = \frac{3}{2}$$

$$\text{శూన్యాల మొత్తం} = \alpha + \beta = \frac{1}{2} + \frac{3}{2} = \frac{1+3}{2} = \frac{4}{2} = 2$$

$$\text{శూన్యాల లబ్ధం} = \alpha\beta = \frac{1}{2} \times \frac{3}{2} = \frac{3}{4}$$

$$\text{వర్గబహుపది} = k[x^2 - (\alpha + \beta)x + \alpha\beta]$$

$$= k \left[x^2 - (2)x + \frac{3}{4} \right]$$

$$= k \left[x^2 - 2x + \frac{3}{4} \right]$$

$$k=4 \text{ అయితే}$$

$$\text{కావలసిన వర్గబహుపది} = 4 \times \left[x^2 - 2x + \frac{3}{4} \right]$$

$$= 4 \times x^2 - 4 \times 2x - 4 \times \frac{3}{4}$$

$$= 4x^2 - 8x - 3$$

ఘన బహుపదులు :

1. α, β, γ లు ఘన బహుపది $ax^3 + bx^2 + cx + d$ ($a \neq 0$) యొక్క శూన్యాలు అయితే

$$(i). \alpha + \beta + \gamma = \frac{-(x^2 \text{ యొక్క గుణకం})}{x^3 \text{ యొక్క గుణకం}} = \frac{-b}{a}$$

$$(ii). \alpha\beta + \beta\gamma + \gamma\alpha = \frac{x \text{ యొక్క గుణకం}}{x^3 \text{ యొక్క గుణకం}} = \frac{c}{a}$$

$$(iii). \alpha\beta\gamma = \frac{-(\text{స్థిర పదం})}{x^3 \text{ యొక్క గుణకం}} = \frac{-d}{a}$$

2. α, β, γ లు శూన్యాలగా గల ఘన బహుపది

$$= k[x^3 - (\alpha + \beta + \gamma)x^2 + (\alpha\beta + \beta\gamma + \gamma\alpha)x - \alpha\beta\gamma]$$

ఇవి చేయండి (page- 66)

1. α, β మరియు γ అనేవి ఒక ఘన బహుపది యొక్క శూన్యాలయితే $\alpha + \beta + \gamma, \alpha\beta + \beta\gamma + \gamma\alpha, \alpha\beta\gamma$ లను

కనుగొనుము .

$$1) x^3 - 3x^2 - x - 2 \quad [a = 1, b = -3, c = -1, d = -2]$$

$$\text{సాధన : } \alpha + \beta + \gamma = \frac{-b}{a} = \frac{-(-3)}{1} = \frac{3}{1} = 3$$

$$\alpha\beta + \beta\gamma + \gamma\alpha = \frac{c}{a} = \frac{-1}{1} = -1$$

$$\alpha\beta\gamma = \frac{-d}{a} = \frac{-(-2)}{1} = \frac{2}{1} = 2$$

$$2) 4x^3 + 8x^2 - 6x - 2 \quad [a = 4, b = 8, c = -6, d = -2]$$

$$\text{సాధన: } \alpha + \beta + \gamma = \frac{-b}{a} = \frac{-8}{4} = -2$$

$$\alpha\beta + \beta\gamma + \gamma\alpha = \frac{c}{a} = \frac{-6}{4} = \frac{-3}{2}$$

$$\alpha\beta\gamma = \frac{-d}{a} = \frac{-(-2)}{4} = \frac{2}{4} = \frac{1}{2}$$

$$3) x^3 + 4x^2 - 5x - 2 \quad [a = 1, b = 4, c = -5, d = -2]$$

$$\text{సాధన : } \alpha + \beta + \gamma = \frac{-b}{a} = \frac{-4}{1} = -4$$

$$\alpha\beta + \beta\gamma + \gamma\alpha = \frac{c}{a} = \frac{-5}{1} = -5$$

$$\alpha\beta\gamma = \frac{-d}{a} = \frac{-(-2)}{1} = \frac{2}{1} = 2$$

$$4) x^3 + 5x^2 + 4$$

$$[a = 1, b = 5, c = 0, d = 4]$$

$$\text{సాధన : } \alpha + \beta + \gamma = \frac{-b}{a} = \frac{-5}{1} = -5$$

$$\alpha\beta + \beta\gamma + \gamma\alpha = \frac{c}{a} = \frac{0}{1} = 0$$

$$\alpha\beta\gamma = \frac{-d}{a} = \frac{-4}{1} = -4$$

ఉదాహరణ -7: ఘన బహుపది $p(x) = 3x^3 - 5x^2 - 11x - 3$ యొక్క శూన్యాలు $3, -1$ మరియు $-\frac{1}{3}$

అగునని చూపండి .బహుపది గుణకాలకు శూన్యాలకు మధ్యగల సంబంధాన్ని సరిచూడండి .

$$\text{సాధన : } P(x) = 3x^3 - 5x^2 - 11x - 3$$

$$\begin{aligned} P(3) &= 3(3)^3 - 5(3)^2 - 11(3) - 3 \\ &= 3 \times 27 - 5 \times 9 - 33 - 3 \\ &= 81 - 45 - 33 - 3 \\ &= 81 - 81 = 0 \end{aligned}$$

$$\begin{aligned} P(-1) &= 3(-1)^3 - 5(-1)^2 - 11(-1) - 3 \\ &= 3 \times (-1) - 5 \times 1 + 11 - 3 \\ &= -3 - 5 + 11 - 3 = -11 + 11 = 0 \end{aligned}$$

$$\begin{aligned} P\left(-\frac{1}{3}\right) &= 3\left(-\frac{1}{3}\right)^3 - 5\left(-\frac{1}{3}\right)^2 - 11\left(-\frac{1}{3}\right) - 3 \\ &= 3\left(-\frac{1}{27}\right) - 5\left(\frac{1}{9}\right) + \frac{11}{3} - 3 \\ &= -\frac{1}{9} - \frac{5}{9} + \frac{11}{3} - 3 \\ &= \frac{-1-5+33-27}{9} = \frac{-33+33}{9} = 0 \end{aligned}$$

$$P(3) = 0, P(-1) = 0, \text{ మరియు } P\left(-\frac{1}{3}\right) = 0$$

కావున $3, -1, -\frac{1}{3}$ అనేవి ఘన బహుపది $P(x) = 3x^3 - 5x^2 - 11x - 3$ యొక్క శూన్యాలు అవుతాయి .

$$\alpha = 3, \beta = -1, \gamma = -\frac{1}{3}$$

$$\alpha + \beta + \gamma = 3 + (-1) + \left(\frac{-1}{3}\right) = 2 - \frac{1}{3} = \frac{5}{3} = \frac{-(-5)}{3} = \frac{-b}{a}$$

$$\alpha\beta + \beta\gamma + \gamma\alpha = 3 \times (-1) + (-1) \times \left(\frac{-1}{3}\right) + \left(\frac{-1}{3}\right) \times 3 = -3 + \frac{1}{3} - 1 = \frac{-11}{3} = \frac{c}{a}$$

$$\alpha\beta\gamma = 3 \times (-1) \times \left(\frac{-1}{3}\right) = 1 = \frac{-(-3)}{3} = \frac{-d}{a}$$

(అభ్యాసం -3.3) 4. ఒక ఘన బహుపది $x^3 + 3x^2 - x - 3$ యొక్క శూన్యాలు 1,-1 మరియు -3 అగునని

సరిచూడండి . బహుపది గుణకాలకు శూన్యాలకు మధ్యగల సంబంధాన్ని సరిచూడండి

సాధన : $p(x) = x^3 + 3x^2 - x - 3$

$$p(1) = (1)^3 + 3(1)^2 - 1 - 3$$

$$= 1 + 3 - 1 - 3 = 4 - 4 = 0$$

$$p(-1) = (-1)^3 + 3(-1)^2 - (-1) - 3$$

$$= -1 + 3 + 1 - 3 = 4 - 4 = 0$$

$$p(-3) = (-3)^3 + 3(-3)^2 - (-3) - 3$$

$$= -27 + 27 + 3 - 3 = 30 - 30 = 0$$

$$p(1) = 0, p(-1) = 0 \text{ మరియు } p(-3) = 0$$

∴ 1, -1 మరియు -3 లు ఘన బహుపది $x^3 + 3x^2 - x - 3$ యొక్క శూన్యాలు అవుతాయి .

$$\alpha = 1, \beta = -1 \text{ మరియు } \gamma = -3$$

$$\alpha + \beta + \gamma = 1 + (-1) + (-3) = -3 = \frac{-3}{1} = \frac{-b}{a}$$

$$\alpha\beta + \beta\gamma + \gamma\alpha = 1 \times (-1) + (-1) \times (-3) + (-3) \times 1 = -1 + 3 - 3 = -1 = \frac{-1}{1} = \frac{c}{a}$$

$$\alpha\beta\gamma = 1 \times (-1) \times (-3) = 3 = \frac{-(-3)}{1} = \frac{-d}{a}$$

బహుపదుల భాగహార నియమము

విభాజ్యము = (విభాజకము × భాగఫలం) + శేషము

ఉదాహరణ -8. $2x^2 + 3x + 1$ ను $x + 2$ చే భాగించండి

సాధన :

$$\text{విభాజకము} = x + 2$$

$$\text{విభాజ్యము} = 2x^2 + 3x + 1$$

$$\text{భాగఫలము} = 2x - 1$$

$$\text{శేషము} = 3$$

$$x^3 \text{ యొక్క గుణకం} = a = 1$$

$$x^2 \text{ యొక్క గుణకం} = b = 3$$

$$x \text{ యొక్క గుణకం} = c = -1$$

$$\text{స్థిర పదం} = d = -3$$

$$\begin{array}{r} \text{భాగఫలం} \\ \text{విభాజకము} \overline{) \text{విభాజ్యం}} \\ \hline \text{శేషము} \\ \hline \end{array}$$

$$\begin{array}{r} 2x - 1 \\ x + 2 \overline{) 2x^2 + 3x + 1} \\ \underline{(-) 2x^2 + 4x} \\ -x + 1 \\ \underline{(-) -x - 2} \\ 3 \end{array}$$

(విభాజకము \times భాగఫలం) + శేషము

$$= (x + 2)(2x - 1) + 3$$

$$= 2x^2 - x + 4x - 2 + 3$$

$$= 2x^2 + 3x + 1 = \text{విభాజ్యము}$$

ఉదాహరణ -9. $3x^3 + x^2 + 2x + 5$ ను $1 + 2x + x^2$ చే భాగించండి.

సాధన :

$$\text{విభాజకము} = x^2 + 2x + 1$$

$$\text{విభాజ్యం} = 3x^3 + x^2 + 2x + 5$$

$$\text{భాగఫలం} = 3x - 5$$

$$\text{శేషము} = 9x + 10$$

$$(\text{విభాజకము} \times \text{భాగఫలం}) + \text{శేషము}$$

$$\begin{array}{r} 3x - 5 \\ x^2 + 2x + 1 \overline{) 3x^3 + x^2 + 2x + 5} \\ \underline{(-) 3x^3 + 6x^2 + 3x} \\ -5x^2 - x + 5 \\ \underline{(-) 5x^2 + 10x + 5} \\ 9x + 10 \end{array}$$

$$= (x^2 + 2x + 1)(3x - 5) + (9x + 10)$$

$$= 3x^3 + 6x^2 + 3x - 5x^2 - 10x - 5 + 9x + 10$$

$$= 3x^3 + x^2 + 2x + 5$$

బహుపదులలో భాగహార న్యాయం :

$p(x)$ మరియు $g(x)$ అనేవి రెండు బహుపదులు, $g(x) \neq 0$, అయినప్పుడు

$p(x) = g(x) \times q(x) + r(x)$ అగునట్లు $q(x)$ మరియు $r(x)$ బహుపదులు ఉంటాయి

ఇక్కడ $r(x) = 0$ లేదా $r(x)$ పరిమాణం $< g(x)$ యొక్క పరిమాణం .

(i) $g(x)$ అనేది ఒక రేఖీయ బహుపది అయిన $r(x) = r$ ఒక స్థిరాంకం .

(ii) $q(x)$ యొక్క పరిమాణం 1, అయిన $p(x)$ యొక్క పరిమాణం $= 1 + g(x)$ యొక్క పరిమాణం అగును .

(iii) $p(x)$ ను $(x - a)$ చే భాగిస్తే వచ్చే శేషం $p(a)$ అగును.

(iv) $r = 0$ అయితే $p(x)$ ను $q(x)$ ఖచ్చితంగా భాగిస్తుందని లేదా $q(x)$ అనేది $p(x)$ యొక్క కారణాంకం అగునని

చెప్పవచ్చు

ఉదాహరణ -10. $3x^2 - x^3 - 3x + 5$ ను $x - 1 - x^2$ చే భాగించి, భాగహార నియమాన్ని సరిచూడండి .

సాధన :

$$\text{విభజ్యం} = -x^3 + 3x^2 - 3x + 5$$

$$\text{విభజకము} = -x^2 + x - 1$$

$$\text{భాగఫలం} = x - 2$$

$$\text{శేషము} = 3$$

$$\text{విభజ్యం} = \text{విభజకము} \times \text{భాగఫలం} + \text{శేషము}$$

$$= (-x^2 + x - 1) \times (x - 2) + 3$$

$$= -x^3 - 2x^2 + x^2 - 2x - x + 2 + 3$$

$$= -x^3 + 3x^2 - 3x + 5$$

భాగాహారం సరిచూడడమైనది .

$$\begin{array}{r} x - 2 \\ -x^2 + x - 1 \overline{) -x^3 + 3x^2 - 3x} \\ \underline{-x^3 + x^2 - x} \\ (+) \quad (-) \quad (+) \\ 2x^2 - 2x + 5 \\ 2x^2 \\ \underline{(-) \quad (+) \quad (-)} \\ 3 \end{array}$$

ఉదాహరణ -11. $2x^4 - 3x^3 - 3x^2 + 6x - 2$ అను బహుపదికి $\sqrt{2}$ మరియు $-\sqrt{2}$ రెండు శూన్యాలు అయిన మిగిలిన అన్ని శూన్యలను కనుగొనండి .

$$\text{సాధన : } p(x) = 2x^4 - 3x^3 - 3x^2 + 6x - 2$$

$\sqrt{2}$ మరియు $-\sqrt{2}$ లు $p(x)$ కు రెండు శూన్యాలు

$$(x - \sqrt{2}) \times (x + \sqrt{2}) = x^2 - (\sqrt{2})^2 = x^2 - 2$$

$P(x)$ ను $x^2 - 2$ చే భాగించగా

$$\begin{array}{r} 2x^2 - 3x + 1 \\ x^2 - 2 \overline{) 2x^4 - 3x^3 - 3x^2 + 6x - 2} \\ \underline{(-) 2x^4 - 4x^2} \\ -3x^3 + x^2 + 6x - 2 \\ \underline{(+3x^3 + 6x} \\ x^2 - 2 \\ \underline{(-) x^2 - 2} \\ \underline{(+)} \\ 0 \end{array}$$

$$\text{భాగఫలం} = 2x^2 - 3x + 1$$

$$= 2x^2 - 2x - x + 1$$

$$= 2x(x - 1) - 1(x - 1)$$

$$= (x - 1)(2x - 1)$$

$$\text{శూన్యాల కొరకు } x - 1 = 0 \text{ మరియు } 2x - 1 = 0$$

$$\Rightarrow x = 1 \text{ మరియు } x = \frac{1}{2}$$

బహుపది $p(x)$ యొక్క శూన్యాలు $\sqrt{2}, -\sqrt{2}, 1$ మరియు $\frac{1}{2}$.

అభ్యాసం - 3.4

1. కింద ఇవ్వబడిన బహుపదులలో $p(x)$ బహుపదిని $g(x)$ బహుపది చే భాగించి భాగఫలం, శేషాన్ని కనుగొనండి:

(i) $p(x) = x^3 - 3x^2 + 5x - 3, g(x) = x^2 - 2$

భాగఫలం = $x - 3$

శేషము = $7x - 9$

$$\begin{array}{r} x^2 - 2 \overline{) x^3 - 3x^2 + 5x - 3} \\ \underline{(-) x^3 \quad - 2x} \\ -3x^2 + 7x - 3 \\ \underline{(+ 3x^2 \quad - 6)} \\ 7x - 9 \end{array}$$

(ii) $p(x) = x^4 - 3x^2 + 4x + 5, g(x) = 2 - x^2$

సాధన :

భాగఫలం = $x^2 + x - 3$

శేషము = 8

$$\begin{array}{r} x^2 + x - 3 \overline{) x^4 - 3x^2 + 4x + 5} \\ \underline{(-) x^4 - x^3 + x^2} \\ x^3 - 4x^2 + 4x + 5 \\ \underline{(+ x^3 - x^2 + x} \\ -3x^2 + 3x + 5 \\ \underline{(-) (-) (+)} \\ 8 \end{array}$$

(iii) $p(x) = x^4 - 5x + 6, g(x) = 2 - x^2$

సాధన :

భాగఫలం = $-x^2 - 2$

శేషము = $-5x + 10$

$$\begin{array}{r} -x^2 - 2 \overline{) x^4 - 5x + 6} \\ \underline{(-) x^4 - 2x^2} \\ 2x^2 - 5x + 6 \\ \underline{(+ 2x^2 \quad - 4} \\ -5x + 10 \end{array}$$

2. కింది బహుపదులలో రెండవ బహుపదిని, మొదటి బహుపదిచే భాగించి ప్రతి సందర్భంలో మొదటి బహుపది కారణాంకం అగునో, కాదో సరిచూడండి :

(i) $t^2 - 3, 2t^4 + 3t^3 - 2t^2 - 9t - 12$

Sol:

శేషము = 0 కావున

$$\begin{array}{r} 2t^2 + 3t \overline{) 2t^4 + 3t^3 - 2t^2 - 9t - 12} \\ \underline{(-) 2t^4 \quad - 6t^2} \\ 3t^3 + 4t^2 - 9t - 12 \\ \underline{(+ 3t^3 \quad - 9t} \\ -5t^2 + 3t - 12 \end{array}$$

$t^2 - 3$ బహుపది $2t^4 + 3t^3 - 2t^2 - 9t - 12$ బహుపదికి

కారణాంకం అగును

(ii) $x^2 + 3x + 1, 3x^4 + 5x^3 - 7x^2 + 2x + 2$

$$\begin{array}{r} 3x^2 - 4x \\ x^2 + 3x + 1 \overline{) 3x^4 + 5x^3 - 7x^2 + 2x + 2} \\ \underline{(-) 3x^4 + 9x^3 + 3x^2} \\ -4x^3 - 10x^2 + 2x + 2 \\ \underline{(-) 4x^3 + 12x^2 + 4x} \\ 2x^2 + 6x + 2 \\ \underline{(-) 2x^2 + 6x + 2} \\ 0 \end{array}$$

శేషము = 0 కావున

$x^2 + 3x + 1$ బహుపది $3x^4 + 5x^3 - 7x^2 + 2x + 2$ బహుపదికి

కారణాంకం అగును

(iii) $x^3 - 3x + 1, x^5 - 4x^3 + x^2 + 3x + 1$

Sol:

శేషము = 2 కావున

$x^3 - 3x + 1$ బహుపది $x^5 - 4x^3 + x^2 + 3x + 1$ బహుపదికి

కారణాంకం కాదు

$$\begin{array}{r} x^2 - 1 \\ x^3 - 3x + 1 \overline{) x^5 - 4x^3 + x^2 + 3x + 1} \\ \underline{(-) x^5 - 3x^3 + x^2} \\ -x^3 + 3x + 1 \\ \underline{(-) x^3 + 3x - 1} \\ 2 \end{array}$$

3. $3x^4 + 6x^3 - 2x^2 - 10x - 5$, అను బహుపదికి రెండు శూన్యాలు $\sqrt{\frac{5}{3}}$ మరియు $-\sqrt{\frac{5}{3}}$ అయిన మిగిలిన

రెండు శూన్యాలను కనుగొనండి

సాధన : $p(x) = 3x^4 + 6x^3 - 2x^2 - 10x - 5$

ఇచ్చిన శూన్యాలు $\sqrt{\frac{5}{3}}$ మరియు $-\sqrt{\frac{5}{3}}$

i.e. $x = \sqrt{\frac{5}{3}}$ మరియు $x = -\sqrt{\frac{5}{3}}$

$x - \sqrt{\frac{5}{3}} = 0$ మరియు $x + \sqrt{\frac{5}{3}} = 0 \Rightarrow \left(x - \sqrt{\frac{5}{3}}\right) \times \left(x + \sqrt{\frac{5}{3}}\right) = 0 \Rightarrow x^2 - \frac{5}{3} = 0 \Rightarrow 3x^2 - 5 = 0$

$3x^2 - 5$ అనేది $3x^4 + 6x^3 - 2x^2 - 10x - 5$ కి కారణాంకం అవుతుంది

$$\begin{array}{r}
 x^2 + 2x + 1 \\
 3x^2 - 5 \overline{) 3x^4 + 6x^3 - 2x^2 - 10x - 5} \\
 \underline{(-) 3x^4 \quad - 5x^2} \\
 6x^3 + 3x^2 - 10x - 5 \\
 \underline{(-) 6x^3 \quad - 10x} \\
 3x^2 - 5 \\
 \underline{(-) 3x^2 \quad - 5} \\
 0
 \end{array}$$

$P(x)$ ను $3x^2 - 5$ చే భాగించగా

భాగఫలం = $x^2 + 2x + 1 = (x + 1)(x + 1)$

శూన్యాల కొరకు $x + 1 = 0$ మరియు $x + 1 = 0 \Rightarrow x = -1$ మరియు $x = -1$

మిగిలిన రెండు శూన్యాలు $-1, -1$

4. $x^3 - 3x^2 + x + 2$ అను బహుపదిని $g(x)$ అనే బహుపదిచే భాగిస్తే భాగఫలము $x - 2$ మరియు $-2x + 4$, అయిన $g(x)$ ను కనుగొనుము .

సాధన : విభాజ్యము = $p(x) = x^3 - 3x^2 + x + 2$

భాగఫలం = $q(x) = x - 2$

శేషము = $r(x) = -2x + 4$

విభాజకము = $g(x) = ?$

$$\begin{array}{r}
 x^2 - x + 1 \\
 x - 2 \overline{) x^3 - 3x^2 + 3x - 2} \\
 \underline{(-) x^3 - 2x^2} \\
 -x^2 + 3x - 2 \\
 \underline{(-) -x^2 + 2x} \\
 x - 2
 \end{array}$$

భాగహార నియమము ప్రకారం

$$p(x) = g(x) q(x) + r(x)$$

$$x^3 - 3x^2 + x + 2 = g(x) \times (x - 2) + (-2x + 4)$$

$$x^3 - 3x^2 + x + 2 + 2x - 4 = g(x) \times (x - 2)$$

$$x^3 - 3x^2 + 3x - 2 = g(x) \times (x - 2)$$

$$g(x) = \frac{x^3 - 3x^2 + 3x - 2}{x - 2}$$

$$g(x) = x^2 - x + 1$$

5. భాగహార నియమము మరియు దిగువ ఇవ్వబడిన నియమాలను తృప్తి పరిచే విధంగా $p(x)$, $g(x)$, $q(x)$ మరియు $r(x)$, బహుపదులకు తగిన ఉదాహరణలను ఇవ్వండి.

(i) $p(x)$ పరిమాణం = $q(x)$ పరిమాణం

సాధన : $p(x) = 4x^2 + 8x + 4$

$$q(x) = x^2 + 2x + 1$$

$$p(x) \text{ పరిమాణం} = q(x) \text{ పరిమాణం} = 2$$

$$g(x) = 4 \text{ మరియు } r(x) = 0$$

(ii) $q(x)$ పరిమాణం = $r(x)$ పరిమాణం

సాధన : $q(x) = x^2 + 2x + 1$

$$r(x) = 2x^2 + 3$$

$$g(x) = x - 2$$

$$p(x) = (x - 2) \times (x^2 + 2x + 1) + 2x^2 + 3$$

$$= x^3 + 2x^2 + x - 2x^2 - 4x - 2 + 2x^2 + 3$$

$$= x^3 + 2x^2 - 3x + 1$$

(iii) $\deg r(x)$ పరిమాణం = 0

సాధన : $p(x) = x^2 + 5x + 7$

$$g(x) = x + 2$$

$$q(x) = x + 3$$

$$r(x) = 1$$

$$r(x) \text{ పరిమాణం} = 0$$

BALABHADRA SURESH